



2016 年军队文职人员招聘考试

公共科目真题



扫描二维码, 关注厚职公考官方公众号获取更多真题和资料
厚职公考网 (www.houzhiwang.com) 整理提供



2016 年军队文职人员招聘考试公共科目真题及答案

第一部分 公共知识

一、单项选择题 (请根据题目要求, 在四个选项中选出一个最恰当的答案。)

1. 意识和物质的对立只是在非常有限的范围内才有绝对的意义, 超出这个范围, 其对立便是相对的, 其根本原因是_____。

- A. 意识是物质的固有属性
- B. 意识可以转换为物质
- C. 意识是物质的存在形式
- D. 意识是对物质的能动反映

2. 下列财产或财产权利中, 不属于遗产的是_____。

- A. 公民的著作权、专利权中的财产权利
- B. 公民的房屋和储蓄
- C. 公民的图书资料
- D. 被继承人生前承包经营的土地

3. 我国对外开放进入新阶段的重要标志是_____。

- A. 形成沿海、沿江、沿边的对外开放新格局
- B. 形成全方位、多层次、宽领域的对外开放格局
- C. “引进来”和“走出去”并举
- D. 我国进入世界十大贸易国行列

4. 我国社会保障体制改革的基本原则是_____。

- A. 各尽所能、按劳分配
- B. 缩小差距、共同富裕
- C. 效率优先、兼顾公平
- D. 城乡统一、消除差别

5. 资本家追求超额剩余价值, 全社会劳动生产率就会提高。据此, 超额剩余价值是_____。

- A. 社会所有企业提高劳动生产率的结果
- B. 一个部门的所有企业同时都能获得的
- C. 个别企业提高劳动生产率的结果
- D. 不同部门的所有企业同时都能获得的

6. 甲与乙有仇, 于是携带匕首去乙家杀乙, 路上因心存不忍放弃了杀人念头, 甲的行为属于_____。

- A. 犯罪预备
- B. 犯罪中止
- C. 犯罪未遂
- D. 犯罪既遂

7. 张明与李敏到婚姻登记机关申请登记结婚, 结婚登记机关依法予以登记并发给结婚证书, 产生张明与李敏婚姻法律关系的事实在法学上被称为_____。

- A. 法律事件
- B. 事实行为
- C. 法律事实
- D. 事实关系

8. 中国人民抗日战争能够取得胜利的根本原因在于_____。

- A. 日本侵华战争是法西斯侵略战争
- B. 美国向日本广岛、长崎投掷原子弹
- C. 苏联红军对日作战
- D. 建立抗日民族统一战线, 实行全民族抗战



9. 我国国防的主体是_____。
- A. 全国人民代表大会
B. 国家
C. 国家武装力量
D. 国务院
10. 当代革命军人核心价值观最准确的表述是_____。
- A. 热爱人民、忠诚于党、报效国家、献身使命、崇尚荣誉
B. 忠诚于党、热爱人民、报效国家、献身使命、崇尚荣誉
C. 报效国家、热爱人民、忠诚于党、献身使命、崇尚荣誉
D. 热爱人民、忠诚于党、报效国家、崇尚荣誉、献身使命
11. 颁布《中国人民解放军文职人员条例》的部门是_____。
- A. 中央军事委员会
B. 解放军四总部
C. 国务院、中央军委
D. 国务院
12. 关于刑法的罪刑相适应原则, 下列说法错误的是_____。
- A. 罪刑相适应原则要求在行刑中合理地运用减刑、假释等制度
B. 罪刑相适应原则要求刑事立法制定合理的刑罚体系
C. 罪刑相适应原则要求刑罚与犯罪性质、犯罪情节相适应
D. 罪刑相适应原则要求刑法不溯及既往
13. “一把钥匙开一把锁”从哲学角度来解释, 这句话讲的是_____。
- A. 矛盾的普遍性
B. 矛盾的斗争性
C. 矛盾的同一性
D. 矛盾的特殊性
14. 面对传统安全威胁与非传统安全威胁交织的局面, 2014年4月15日, 中共中央总书记习近平强调要坚持的安全观是_____。
- A. 总体国家安全观
B. 共同安全观
C. 亚洲安全观
D. 全面国家安全观
15. 爱因斯坦创立的狭义相对论, 所揭示的物质运动与时空之间的关系为_____。
- A. 物质运动与时空无关, 时空是绝对的
B. 物质运动只影响到时间, 与空间无关
C. 物质运动与时空相关, 时空是相对的
D. 物质运动只影响到空间, 与时间无关
16. 关于明清时期社会特征的描述, 比较准确的是_____。
- A. 统一的多民族国家的巩固与发展首次出现“大一统”局面
C. 封建社会繁荣、开放, 统一的多民族国家发展
D. 封建国家的大分裂和民族交融加强
17. 行为人因违法而承担法律责任的能力是_____。
- A. 权利能力
B. 行为能力
C. 法律能力
D. 责任能力
18. 军事秘密按照密级由高到低的排列是_____。
- A. 机密、秘密、绝密
B. 绝密、机密、秘密
C. 绝密、机密、内部
D. 内部、机密、绝密
19. 资本主义企业的生产成本指生产商品_____。
- A. 能使用的资本价值
B. 实际消耗的劳动量
C. 固定资本的物质消耗和精神消耗之和



- D. 所消费的不变资本与可变资本之和
20. 提出“一国两制”, 首先针对的是_____。
- A. 台湾问题
B. 香港问题
C. 澳门问题
D. 民族自治问题
21. 涉密岗位文职人员不得因私出国(境), 其他文职人员确需因私出国(境), 由本人提出书面申请, 聘用单位审核, 最终的审批机关是_____。
- A. 团级单位政治机关
B. 军级单位政治机关
C. 旅级单位政治机关
D. 师级单位政治机关
22. 马克思主义卓越的理论品质是_____。
- A. 科学的世界观和方法论
B. 致力于实现工人阶级和人民群众的根本利益
C. 一切从实际出发, 理论联系实际, 实事求是, 在实践中检验和发展真理
D. 实现物质财富的极大丰富, 人民精神境界极大提高, 每个人自由而全面发展的共产主义社会
23. 全面推进依法治国, 总目标是____, 建设社会主义法治国家。
- A. 实现科学立法、严格执法、公正司法、全民守法
B. 建设中国特色社会主义法治体系
C. 坚持依法治国、依法执政、依法行政共同推进
D. 坚持法治国家、法治政府、法治社会一体建设
24. 科学技术是_____。
- A. 第一生产力
B. 第一生产资料
C. 第一生产方式
D. 第一生产关系
25. 我国奉行防御性国防政策, 实行的军事战略方针是_____。
- A. 打赢信息化战争
B. 积极防御
C. 积极进攻
D. 建设信息化军队
26. 我国刑法分则对犯罪行为分类的主要依据是_____。
- A. 犯罪的同类客体
B. 犯罪的主观动机
C. 犯罪的危害后果
D. 犯罪的行为特征
27. “社会上一旦有技术的需要, 则这种需要会比十所大学更能把科学推向前进。” 这说明的是_____。
- A. 实践是认识的来源
B. 技术推动了科学的发展
C. 实践是认识发展的动力
D. 科学进步是实践的目的
28. 对文职人员的奖励, 参照的条件是_____。
- A. 《中国人民解放军文职人员条例》
B. 《中国人民解放军内务条令》
C. 《中国人民解放军警备条令》
D. 《中国人民解放军纪律条令》
29. 孔子思想中主张和谐人际关系的是_____。
- A. 己所不欲, 勿施于人
B. 克己复礼



C. 贵贱有序 D. 人无远虑, 必有近忧

30. 基于当事人授权而享有代理权的人是_____。

- A. 法定代理人 B. 委托代理人
C. 法定代表人 D. 指定代理人

31. 党的十五届四中全会指出, 整个经济体制改革的中心环节是_____。

- A. 农村改革
B. 生活保障制度改革
C. 产权制度改革
D. 国有企业改革

32. 邓小平指出, 中国解决所有问题的关键是_____。

- A. 要靠引进先进技术
B. 要实行对外开放仁, 要靠自己的发展
D. 要保持社会安定

33. 我国海洋生物种类, 占世界海洋生物种类总数的比例是_____。

- A. 20% B. 40%
C. 50% D. 10%

31. 把中国反帝反封建资产阶级民主革命发展到新阶段的标志性事件是_____。

- A. 1911 年辛亥革命
B. 1921 年中国共产党成立
C. 1919 年“五四”运动
D. 1945 年抗日战争胜利

若干股东共同出资, 股东以其出资额为限对公司承担责任, 公司以其全部资产对公司债务承担责任, 这是_____。

- A. 股份有限公司 B. 合伙公司
C. 股份公司 D. 有限责任公司

当代经济生活国际化的主要承担者和体现者是_____。

- A. 跨国公司 B. 主权国家垄断
C. 主权国家 D. 世界经济组织

A 苏德战争中, 苏军成功运用的作战理论是_____。

- A. 空海一体作战 B. 情报战
C. 大纵深作战 D. 闪击战

38. 资本家之所以能够购买工人的劳动力, 把工人变成雇佣工人, 其根源是_____。

- A. 资本主义的基本矛盾
B. 资本主义的生产过程
C. 资本主义的主要矛盾
D. 资本主义的生产资料所有制

39. 关于我国公民的政治权利, 下列说法正确的是_____。

- A. 被剥夺政治权利的公民不再享有文学创作自由
B. 被剥夺政治权利的公民不再享有科学研究自由
C. 被剥夺政治权利的公民不再享有出版作品自由
D. 被剥夺政治权利的公民不再享有宗教信仰自由

40. 古典主义文学成就最大的是_____。

- A. 法国 B. 英国
C. 德国 D. 意大利



41. 关于资本积累的说法正确的是_____。
- A. 不会增大社会资本的总额
B. 通过剩余价值资本化增大资本总量
C. 不受社会财富绝对增长限制
D. 是把分散的单个资本合并成大资本
42. 冯·诺依曼结构的计算机主要包含_____。
- A. 运算器、控制器、存储器、显示器、输入设备
B. 键盘和显示器、控制器、存储器、运算器、南北桥
C. 运算器、控制器、存储器、输入设备、输出设备
D. 南北桥、控制器、存储器、输入设备、输出设备
43. 对聘用到护理、艺术、体育专业岗位工作的文职人员, 最低学历可以是_____。
- A. 大学本科
B. 大学专科
C. 中专学历
D. 高职技校
44. 我们需要对从互联网上搜索到的信息进行鉴别, 下列说法正确的是_____。
- A. 互联网上的信息都是正确可信的
B. 互联网上的信息不全是可信的
C. 大网站提供的信息一定比小网站提供的信息可信
D. 多个网站都提供了相同的信息, 那么这个信息一定是可靠的
45. 社会主义初级阶段的基本经济制度是_____。
- A. 公有制为主体, 多种所有制经济共同发展
B. 国有经济为主导, 多种经营方式并存
C. 按劳分配为主, 多种分配方式并存
D. 社会主义市场经济体制
46. 我国的海洋面积是_____。
- A. 200 万平方千米
B. 500 万平方千米
C. 300 万平方千米
D. 100 万平方千米
47. 在中国共产党内, 最先提出“毛泽东思想”这一概念的人是_____。
- A. 刘少奇
B. 张如心
C. 周恩来
D. 王稼祥
48. 根据我国刑法规定, 14 周岁以上不满 16 周岁的自然人属于_____。
- A. 相对刑事责任能力人
B. 完全无刑事责任能力人
C. 完全刑事责任能力人
D. 免于刑事处罚的主体
49. 新民主主义社会的性质是_____。
- A. 资本主义社会
B. 由新民主主义到社会主义社会转变的过渡性质的社会
C. 后资本主义社会
D. 社会主义社会
50. 劳动资料中最主要的是_____。
- A. 劳动技术
B. 生产工具
C. 厂房条件
D. 其他条件

二、多项选择题 (请根据题目要求, 在五个选项中选出两个或两个以上恰当的答案。)

51. 关于法律规范和法律条文的关系, 下列说法正确的有_____。



- A. 法律规范与法律条文是一一对应关系
B. 法律规范只能通过法律条文来表现
C. 所有的法律条文都体现法律规范
D. 法律规范是法律条文的内容
E. 法律条文是法律规范的表现形式
52. 2012年12月31日下午, 中共中央政治局就坚定不移推进改革开放进行第二次集体学习。
- 下列属于中共中央总书记习近平在主持学习时强调指出的是_____。
- A. 改革开放是一场深刻革命, 必须坚持正确方向, 沿着正确道路推进
B. 改革开放是前无古人的崭新事业, 必须坚持正确的方法论, 在不断实践探索中推进
C. 改革开放是一个系统工程, 必须坚持全面改革, 在各项改革协同配合中推进
D. 稳定是改革发展的前提, 必须坚持改革发展稳定的统一
E. 改革开放是亿万人民自己的事业, 必须坚持尊重人民首创精神, 坚持在党的领导下推进
53. 习近平提出的“四个全面”战略布局, 内容包括_____。
- A. 全面建成小康社会
B. 全面建设小康社会
C. 全面改革开放
D. 全面依法治国
E. 全面从严治党
54. 马克思指出, “一个社会即使探索到了本身运动的自然规律”, “它还是既不能跳过也不能用法令取消自然的发展阶段, 但是它能缩短和减轻分娩的痛苦”。对这句话的理解, 正确的有_____。
- A. 社会发展过程与自然演变过程一样都是自觉的
B. 人类社会的发展是合规律性与合目的性的统一
C. 社会规律是客观的, 不能超越、改变和运用
D. 主体性在社会发展中具有重要作用
E. 人类总体历史可以小断跨越, 例如“卡夫丁峡谷”
55. 文职人员的培训包括_____。
- A. 岗前培训
B. 在职培训
C. 专业培训
D. 指挥训练
E. 军事训练
56. 根据我国法律规定, 民事责任的免责事由主要有_____。
- A. 正当防卫
B. 诉讼时效届满
C. 紧急避险
D. 不可抗力
E. 损害由受害人自己造成的
57. 从互联网上拷贝信息至涉密计算机时, 不符合保密要求的操作有_____。
- A. 直接用涉密U盘从互联网拷贝至涉密计算机
B. 用非涉密U盘从互联网拷贝至涉密计算机
C. 在中间机上使用写保护功能的U盘拷贝至涉密计算机, 该U盘在涉密计算机上使用时处于只读状态
D. 在中间机上采用刻录只读光盘方式, 拷贝至涉密计算机
E. 可以先在互联网终端计算机上安装相应的防盗软件, 然后用涉密U盘拷贝信息至涉密计算机
58. 通过对资本流通形式 ($G-w-G'$) 的分析, 可以得出的结论包括_____。
- A. 资本是能够带来剩余价值的价值



- B. 剩余价值是在流通领域产生的
 - C. 资本流通以追求剩余价值为目的
 - D. 剩余价值来源于资本家预付的总资本
 - E. 剩余价值不能离开流通而产生
59. 关于技术问题下列说法正确的有_____。
- A. 任何技术的产生和发展, 总是从一定具体目的出发, 针对具体的问题形成解决的方法
 - B. 技术是对客观自然规律的应用, 任何技术都必须符合客观规律
 - C. 技术作为人类活动的重要组成部分, 不一定受到社会条件的制约
 - D. 技术也可能给人类带来危害
 - E. 技术发明都是为人类服务的
60. 对于商品的两个因素之间的关系, 下列论述正确的有_____。
- A. 它们是对立统一的关系
 - B. 使用价值是价值的物质承担者
 - C. 没有使用价值的东西就不会有价值
 - D. 有使用价值而没有价值的物品不是商品
 - E. 有使用价值的物品就是商品

第二部分 岗位能力

一、言语理解与表达 (请根据题目要求, 在四个选项中选出一个最恰当的答案。)

61. 我们对这个世界, 知道得还实在太少。无数的未知包围着我们, 才使人生保留迸发的乐趣。当哪一天, 世界上的一切都能明确_____了, 这个世界也就变得十分无聊。人生, 就会成为一种简单的_____, 一种沉闷的重复。

填入划横线部分最恰当的一项是_____。

- A. 破解 轨道
- B. 诠释 痕迹
- C. 说明 道路
- D. 解释 轨迹

62. 雨, 有时是会引起人一点淡淡的乡愁的。《夜雨寄北》是为许多久客的游子而写的。我有一天在积雨少住的早晨和德熙从联大新校舍到莲花池去。看了池里的满池清水, 看了着比丘尼装的陈圆圆的石像 (传说陈圆圆随吴三桂到云南后出家, 暮年投莲花池而死), 雨又下起来了。莲花池边有一条小街, 有一个小酒店, 我们走进去, 要了一碟猪头肉, 半市斤酒 (装在上了一绿釉的土瓷杯里), 坐了下来。雨下大了。酒店里有几只鸡, 都把脑袋反插在翅膀下而, 一只脚着地, 一动也不动地在檐下站着。酒店院子里有一架大木香花。昆明木香花很多。有的小河沿岸都是木香。但是这样大的木香却不多见。一棵木香, 爬在架上, 把院子遮得严严的。密匝匝的细碎的绿叶, 数不清的半开的白花和饱涨的花骨朵, 都被雨水淋得湿透了。我们走不了, 就这样一直坐到午后。四十年后, 我还忘不了那天的情味, 写了一首诗: 莲花池外少行人, 野店苔痕一寸深。浊酒一杯天过午, 水香花湿雨沉沉。

我想念昆明的雨。

(摘自汪曾祺《昆明的雨》, 载《北京文学》, 1980年第10期)

下列陈述中与文章原意最贴近的是_____。

- A. 雨引发人的乡愁
- B. 雨容易使人忧郁
- C. 雨善解人意
- D. 雨中景色很美

63. 文学典型的艺术魅力, 应当是来自性格的一种生命的魅力_____这种_____生命的魅力_____, 首先在于典型人物的生命所呈现的斑斓色彩, 即性格侧面的丰富多彩。文学典型呈



现的精神世界是如此丰富____往往令读者叹为观止。

填入划横线处合适的标点符号是_____。

- A. , ‘ ’ , B. 。 《 》 ,
C. , < > ? D. 。 “ ” ,

64. 下列字的释义, 完全正确的是_____。

- A. 旁(旁边) 征博引 虎踞(蹲坐) 龙盘 荒诞不经(常规)
B. 苦心孤诣(达到) 赴汤(开水) 蹈火 置之度(考虑) 外
C. 茹(吃) 毛饮血 甚嚣(嚣张) 尘上 克勤克(能够) 俭
D. 听(听任) 之任之 若即(靠近) 若离 尾大不掉(摆脱)

65. 马克思的《资本论》中, 一共提到了 680 多个人物, 其中只有一个是中国人, 叫王茂荫(1798—1865), 安徽人, 1832 年考中进士步入仕途。他的货币观点及钞币发行方案最为引人注目, 著有《王侍郎奏议》传世。马克思《资本论》第一卷第一篇第三章在谈到货币或商品流通、论述“强制流通的国家纸币”问题时, 以第八十三条大段注释的方式专门提到了中国理财官王茂荫及其“主张将官票宝钞改为可兑现的钞票”的观点。

适合上述语段标题的是_____。

- A. 中国王茂荫的货币观点
B. 《资本论》中唯一提到的中国人
C. 中国清代的理财官王茂荫
D. 中国封建社会货币理论的最高成就者

66. 眼睛是人和动物的重要感觉器官, 人眼从外界获得的信息, _____, 而且有些是其他感觉器官所不能获得的。

填入划横线处最为合适的句子是_____。

- A. 比其他感觉器官多得多
B. 确实比其他感觉器官多得多
C. 或者说比其他感觉器官多得多
D. 不仅比其他感觉器官多得多

67. 唐代诗人章碣《焚书坑》一诗的前两句是“竹帛烟销帝业虚, 关河空锁祖龙居”, 句中“关河”主要指的是____和_____。

填入划横线部分最恰当的一项是_____。

- A. 山 海 关 洮 河 B. 嘉 峪 关 渭 河
C. 嘉 峪 关 黄 河 D. 函 谷 关 黄 河

68. 宋代学者称杜甫为“圣于诗者”, 这主要是指杜甫在诗歌史上地位而言。他们把杜甫视为“集大成”者, 认为他是位无体不工、无美不备的诗人。到了后世把杜甫称为“诗圣”, 这突出了杜诗的道德含义(郭沫若称其为“诗中圣哲”也是此意), 符合杜诗中的儒学内涵。

下列叙述中, 属于称杜甫“圣于诗者”的根据的是_____。

- A. 在诗歌创作上, 反映现实和关注国家与人民命运方面, 杜甫为后代诗人做出了榜样
B. 杜甫是位无体不工、无美不备的诗人
C. “忧国爱民”的思想确立了杜甫的地位
D. 杜诗中充满了儒学思想内涵

69. 下列句子表意明确, 没有歧义的是_____。

- A. 小伟把一张纸条交给我, 纸条上写着一行字: “还欠款 500 元”。
B. 赵大伯只有一个儿子, 在医院工作。
C. 我看见张明扶着一位老人走下车来, 手里提着一个黑色提包。
D. 李老师领着同学们把铁锹、锄头一放, 顾不得休息就都上课去了。



70. 环境保护部部长在回答记者提问时说, 我国传统的污染物排放量仍然很大, 超过我国的环境容量, 致使一些地区环境质量达不到国家规定的标准。随着经济的快速发展, 一些新的环境问题不断产生, 特别是危险化学品、持久性有机污染物、电子垃圾等。我国水和大气的环境问题还没有完全解决好, 土壤的污染现状又凸显在我们的面前。

根据以上信息, 可以得出的结论是_____。

- A. 传统的污染物排放没有解决, 新的环境问题又层出不穷, 中国环境问题面临严峻形势
- B. 新的环境问题是经济快速发展的必然产物
- C. 我国一些地区环境质量达不到国家规定的标准, 是因为传统的污染物排放量大
- D. 环境污染问题的呈现有它的特殊规律, 即先出现水和大气的污染, 再出现土壤的污染

71. 下列这段话中的横线处依次应填入的一组关联词是_____。

词一经活用, _____改变语法功能, 词义_____发生了一定变化, _____照本来的意思和用法去理解, _____会误解整个句意, _____, _____要掌握实词的常用义和用法, _____要注意去掌握实词的活用情况和基本规律。

- A. 既 又 如 果 也 但 是 如 果 就
- B. 不 但 而 且 假 如 就 所 以 如 果 就
- C. 不 仅 也 如 果 就 因 此 不 仅 还
- D. 不 只 还 假 如 也 所 以 如 果 就

72. 当前, 由于全球贸易“蛋糕”的缩小, 部分经济实体借“反倾销”“特别保护税”之名, 行贸易保护主义之实。近年来, 由于中国是全球最大的贸易出口国, 欧盟、美国等经济实体对华贸易一直存在巨额逆差, 他们对此选择了日益强硬的态度, 相关的贸易摩擦日见增多。根据这段文字, 接下来作者最有可能着重讲述_____。

- A. 全球贸易“蛋糕”如何缩小
- B. 中国对外贸易顺差产生的原因
- C. 中国如何采取积极措施应对贸易摩擦
- D. 部分经济实体的贸易情况

73. 下列各句中划横线成语使用正确的是_____。

- A. 尽管这部影片的情节和演员的表演都不令人满意, 但瑕不掩瑜, 它的音乐仍深得观众喜欢
- B. 有的人真心地宣传科学启蒙民众, 也有的人利用科学以售其奸, 一时间, 真令人真假难辨, 莫衷一是
- C. 张飞自卫失手致人死命, 的确有罪, 但罪不当死; 判张飞死刑, 量刑过重, 罪不当罚, 同样有损法律的公正
- D. 我们公司的灯光设计师, 在室内灯光设计大赛中拿过一等奖, 他的设计一定会让您的新居蓬荜生辉

74. 艺术风格的形成在很大程度上取决于作者驾驭语言的独特性。剧本和其他艺术形式一样, 也是语言的艺术。运用什么样的语言就有什么样的艺术风格, 这几乎是不言而喻的。王实甫是我国古代一位杰出的语言艺术大师, 他吸收了当时民间生动活泼的口语, 继承了唐诗宋词精美的语言艺术, 融化百家, 创造了文采斑斓的元曲语汇, 成为我国戏曲史上文采派最杰出的代表。《西厢记》“花间美人”的艺术风格, 是和全剧到处都有美不胜收的绮丽词语分不开的。



75. 下列不符合文意的是_____。

- A. 中国戏曲史上文采派的形成取决于其语言艺术之美
- B. 《西厢记》的艺术风格可以喻为“花间美人”，因为全剧到处都有美不胜收的绮词丽句

C. 王实甫是元曲艺术大家

D. “花间美人”指的是《西厢记》里所写的女主人公崔莺莺

75. 下列各句中没有语病的是_____。

- A. 校长非常理解他这次因市里召开第五届教学比武大赛而耽误正常上课。
- B. 随着改革开放的日益深入，每年到黄山观光旅游的人次逐步攀升。
- C. 对于网上发布的应该取消房屋预售制度的各种意见，专家持否定态度。
- D. 是否具有坚忍不拔的毅力和卓尔不凡的智慧，是成为杰出人才的重要条件

二、数量关系（请根据题目要求，在四个选项中选出一个最恰当的答案。）

76. 李经理的年薪较三年前涨了 50%，他拿出年薪的 20% 捐给儿童福利院，又将剩余部分的 5% 孝敬父母，发现余下部分与三年前的年薪相比还多了 7 万元，则李经理三年前的年薪是_____万元。

- A. 42
- B. 58
- C. 50
- D. 66

77. 请选择最合理的一项来填充所给数列的空缺项，使之符合原数列的排列规律：____，32，81，64，25，6。

- A. 16
- B. 36
- C. 1
- D. 49

78. 三根长度分别为 36 米、54 米、72 米的铁丝，要把它们截成相同的小段，不许剩余，每段最长可以是_____米。

- A. 12
- B. 6
- C. 20
- D. 18

79. 请选择最合适的一项来填充所给数列的空缺项，使之符合原数列的排列规律：5, 26, 61, 110, _____。

- A. 175
- B. 173
- C. 177
- D. 179

80. 一个半径为 1 厘米的圆在一个边长为 8 厘米的正方形内，沿正方形的边与边相切滚动过正方形一周。圆滚动覆盖的总面积为_____平方厘米。

- A. 44
- B. 48
- C. $48 - \pi$
- D. $44 + \pi$

81. 规定如下运算法则： $x \Delta y = \begin{cases} xy, & x > 0, \\ x + y, & x \leq 0 \end{cases}$ ， $x \nabla y = \begin{cases} 2x - 3y, & x > 1, \\ x + y - 1, & x \leq 1 \end{cases}$ 根据该运算法则， $5 \Delta (3 \nabla 8) =$ 的值为_____。

- A. -18
- B. 35
- C. 50
- D. -90

82. 培训学校为吸引更多学生暑假来本校学习，规定 10 次课程以下每次收费 60 元，超出 10 次课部分每次课收费略低一些。已知小强和小林两个人分别缴费 1095 元、780 元，小强学习次数比小林多了 50%，那么，超出 10 次课部分每次收费比 10 次课以内的低_____元。

- A. 15
- B. 25
- C. 35
- D. 45

83. 自然数 1~100 排成两行，其中 1~50 为第一行，51~100 为第二行，用长方形框出二行六个数，六个数之和为 432，则这六个数中最小的是_____。

- A. 46
- B. 44
- C. 66
- D. 68

84. 某单位共 100 人，男女比例为 3:2，未婚的有 30 人，现随机抽取一人，结果为已婚



男性的最大概率是_____。

- A. 0.4
- B. 0.42
- C. 0.18
- D. 0.6

85. 某单位人员招聘共设三类职位, 规定每人限报两类职位。现报名人数为 63 人, 每人均报了两类职位, 甲、乙、丙三类岗位报名人数分别为 40、31、28, 同时报甲和乙类职位人数为 13, 同时报甲和丙两类职位的人数为 15 人, 则同时报乙和丙类职位人数为_____。

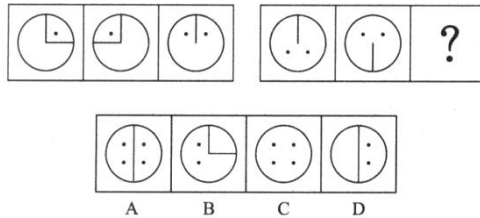
- A. 8
- B. 6
- C. 7
- D. 9

三、判断推理 (请根据题目要求, 在四个选项中选出一个最恰当的答案。)

86. 中华腾飞, 系于腾飞, 系于企业家。因此, 中国经济的起飞迫切需要大批优秀的企业家。

下列选项中, 逻辑推理方法与上述推理方法相同的是_____。

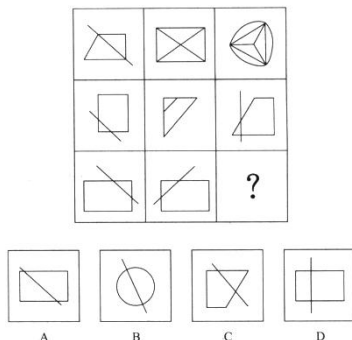
- A. 大框中装小框, 小框中装苹果。因此, 大框中不可以装苹果
 - B. 优秀的学习成绩来自于勤奋, 勤奋需要意志支撑。因此, 要取得好的成绩必须具有坚韧的意志
 - C. 生产力决定生产关系, 生产关系决定上层建筑, 上层建筑反作用于生产力
 - D. 新技术增加产品的科技含量, 科技含量增加产品的价值, 技术含量低的产品价值低
87. 从所给的四个选项选择一个最合适的填入问号处, 使之呈现一定的规律性。



88. 如果小丽会说法语的话, 那么她也会说英语、日语和德语。如果上述论断为真, 那么以下哪一项也一定是真的_____。

- A. 如果小丽不会说法语, 那么她也不会说英语
- B. 如果小丽不会说日语, 那么她也不会说法语
- C. 如果小会说法语、日语和德语, 那么她也会说法语
- D. 如果小丽会说法语和英语, 那么她不会说日语和德语

89. 从所给的四个选项中, 选择最合适的一个填入问号处, 使之呈现一定的规律性。



90. A、B、C、D、E、F、G 七人参加队列会操, 他们从左至右排成一行, 要求:

- (1) C 与 E 相邻; (2) B 与 F 相邻;
- (3) F 与 C 相邻; (4) A 在 F 左侧的某个位置。

据此, 7 人由左至右的顺序不可以的是_____。



- A. A、E、C、B、F、D、G B. A、B、F、C、E、D、G
C. A、B、F、C、E、G、D D. A、E、C、F、B、G、D

91. 下列选项中, 与所给词组在逻辑关系上最为贴近, 相似或匹配的词组是_____。

少林寺: 登封

- A. 白马寺: 洛阳 B. 云冈石窟: 大同
C. 青城山: 都江堰 D. 布达拉宫: 拉萨

92. 下列最合乎逻辑顺序的选项是_____。

(1) 事件调查; (2) 市民献血; (3) 消防员受伤; (4) 爱心传递; (5) 化工厂爆炸

- A. 5—3—2—4—1 B. 5—3—2—1—4
C. 3—1—5—4—2 D. 5—3—4—2—1

93. 歧视, 指由于某些人属于某一群体或某一类属的成员, 对他们施以不公平或不平等的待遇, 下列选项中, 不属于歧视范畴的是_____。

- A. 一些老师喜欢学习好的同学, 对学习不好的同学关注不够
B. 许多单位拒绝招收应届女大学生
C. 王女士认为非洲人都比较黑
D. 因为行车违章被罚过款, 李经理不接待任何警察到他的饭店就餐

94. 某天, 甲乙丙丁四支股票中只有一只涨了。对此: 小李、小王张和小陈有如下叙述:

小李: 或者甲股涨了, 或者乙股涨了;

小王: 如果甲股涨了, 那么丙股也涨了;

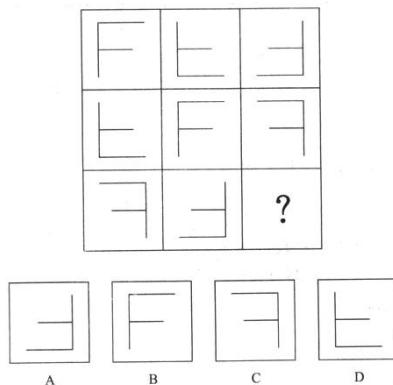
小张: 乙股没涨, 丁股涨了;

小陈: 甲股和乙股都没有涨。

如果这四个人的叙述中有一句不符合实际情况, 那么当天上涨的股票是_____。

- A. 丁股 B. 甲股
C. 乙股 D. 丙股

95. 从所给的四个选项中, 选择最合适的一个填入问号处, 使之呈现一定的规律性。



四、资料分析 (请根据题目要求, 在四个选项中选出一个最恰当的答案。)

材料一: (根据所给文字资料回答下列问题)

蒋军五次围剿红军基本情况

1930年12月, 蒋介石调集10万兵力, 对中央革命根据地进行了第一次“围剿”, 红一方面军4万人在毛泽东, 朱德指挥下, 诱敌深入, 5天内连打两个胜仗, 歼敌15000余人。

1931年4月蒋介石组织国民党军20万兵力发动了第二次“围剿”, 毛泽东同志带领红军一方面军3万人, 歼敌3万余人, 缴枪2万余支。

1931年7月, 蒋介石亲任总司令, 组织国民党军30万兵力开展了对中央苏区的第三次



“围剿”。在毛泽东指挥下, 红军第一方面军 3 万人, 毙伤俘敌 3 万余人, 缴枪 2 万支。

从 1932 年冬开始, 国民党赣粤闽边区“围剿”总司令部陆续调集近 40 万兵力, 组织对中央苏区的第四次“围剿”, 在总司令朱德, 总政治委员周恩来指挥下, 红一方面军辖红 1、3、5 军和第 11、12、21、22 军, 总兵力约 7 万人, 共歼敌近 3 个师, 俘敌万余名, 缴枪万余支, 大炮 40 门, 新式机枪 300 余挺。

1933 年 9 月 25 日, 蒋介石组织 100 万人, 直接用于进攻中央苏区的兵力达 50 万人, 采取“堡垒主义”新战略, 对中央革命根据地进行大规模的第五次“围剿”, 王明“左”倾机会主义在红军中占据了统治地位, 拒不接受毛泽东的正确建议, 李德用阵地战代替游击战和运动战, 用所谓“正规”战争代替人民战争, 使红军 10 万余部队完全陷于被动地位。经过一年苦战, 红军伤亡万余人, 1934 年 10 月中央领导机关和共军主力共 8.6 万余人退出根据地, 进行战略转移。

96. 第三次反“围剿”共歼俘蒋军数量为____万余人。

- A. 1.5
B. 3
C. 4.6
D. 11.1

97. 如果师按 1.2 万人编配, 在前四次反“围剿”中, 红军歼俘蒋军数量最多的是反“围剿”。

- A. 第四次
B. 第一次
C. 第二次
D. 第三次

98. 如果师按 1.2 万人编配, 在前四次反“围剿”中, 歼俘蒋军数量总共____万人。

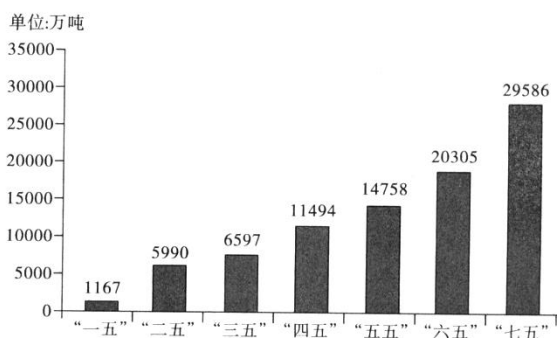
- A. 4.6
B. 8.6
C. 40
D. 12.1

99. 在五次“围剿”中, 敌我直接参战人员数量之比为_____。

- A. 5: 1
B. 7.41:1
C. 5.56:1
D. 10:1

材料二: (根据所给图表资料回答下列问题)

我国历次五年计划完成的钢产量



100. 关于不同时期产量的表述, 不正确的是_____。

- A. “七五”时期钢的产量最大
B. “一五”时期钢的产量最小
C. 处于钢产量正中位置的是“四五”时期
D. “四五时期”钢的产量大于“二五”与“三五”时期钢产量的总和。

101. “七五”时期钢产量是“一五”时期钢产量的_____倍。

- A. 27.52
B. 26.43
C. 25.35
D. 25.89

102. 下列说法不正确的是_____。



- A. 钢产量首次突破 6000 万吨是在“三五”期间
- B. 七个五年计划共完成钢产量超过 90000 万吨
- C. 钢产量比上一时期增长幅度最大的是“二五”时期
- D. “五五”期间钢产量与“四五”期间相比, 增幅不超过 30%

103. “七五”时期比“六五”时期, “五五”时期比“四五”时期的钢产量各增加了____倍。

- A. 0.46, 0.28
- B. 1.22, 1.09
- C. 0.89, 0.72
- D. 0.58, 0.45

材料三: (根据所给文字资料回答下列问题)

世界煤储量在世界能源总储量中占 90%, 按目前规模开采可持续 200 年左右, 据 19 世纪 80 年代初世界能源会议等组织的资料, 世界煤资源地质储量为 14.3 万亿吨, 其中探明储量为 3.5 万亿吨, 约占 24.5%, 在总储量中硬煤占 75%, 褐煤占 25%。按硬煤经济可采储量以美国、俄罗斯、中国最为丰富, 分别占世界总量的 24.8%, 21.5%, 19.6%, 共占 2/3。

104. 在世界煤炭资源地质储量中, 未探明储量占总储量的____。

- A. 25.1%
- B. 74.9%
- C. 75.5%
- D. 25%

105. 在世界煤炭总储量中, 硬煤大约有____。

- A. 9.84 万亿吨
- B. 3.58 万亿吨
- C. 14.3 万亿吨
- D. 10.73 万亿吨

106. 硬煤经济可采储量占世界总量比例最高的国家是____。

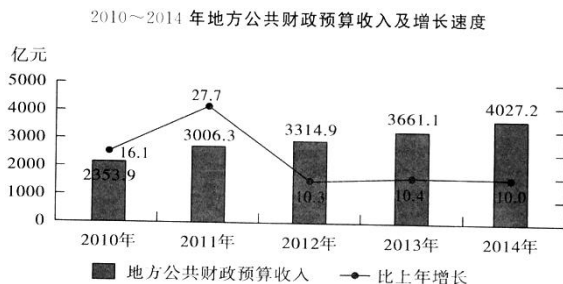
- A. 俄罗斯
- B. 中国
- C. 都不是
- D. 美国

107. 在世界煤炭总储量中, 硬煤的储量比褐煤的储量多____。

- A. 6.78 万亿吨
- B. 3.58 万亿吨
- C. 7.15 万亿吨
- D. 10.73 万亿吨

材料四: (根据所给文字和图表资料回答下列问题)

某市 2014 年完成地方公共财政预算收入 4027.2 亿元, 比上年增长 10.0%。其中, 增值税 646.7 亿元, 增长 12.5%; 营业税 1068.6 亿元, 增长 3.3%; 企业所得税和个人所得税 915.8 亿元和 383.5 亿元, 分别增长 14.2% 和 14.9%。地方公共财政预算支出 4510.5 亿元, 增长 8.1%, 其中, 用于节能环保、科学技术、医疗卫生、林水, 城乡社区的支出分别增长 54.4%、20.3%、;16.7%、15.5% 和 8.5%。



108. 2013 年增值税占地方公共财政预算收入的____。

- A. 14.7%
- B. 12.5%
- C. 14.3%
- D. 17.7%

109. 2014 年企业所得税增长量与个人所得税增长量相比, 多____亿元。

- A. 50
- B. 64
- C. 73
- D. 53

110. 如果按照 2014 年地方公共财政预算收入的增长速度计算, 2016 年地方公共财政预算收入将达到____亿元。

- A. 4873
- B. 4325
- C. 4430
- D. 4832



参考答案及解析

第一部分 公共知识

一、单项选择题

1. B[解析]物质是不依赖于人的意识, 并能为人的意识所反映的客观实在, 其唯一特性是客观实在性; 物质的存在方式和根本属性是运动, 故而 A、C 说法是错误的。意识的本质是人脑对客观存在的主观映象, 故而 D 项说法是正确的, 但与题意无关, 题目说的是“意识和物质的对立只是在非常有限的范围内才有绝对的意义”, 所以强调的是意识转化为物质的方面, 在改造世界的过程中, 意识具有指导作用, 意识可以通过实践把观念的东西变成现实的东西, 故本题答案为 B。

2. D[解析]根据《继承法》第 3 条的规定, 遗产是公民死亡时遗留的个人合法财产, 包括: (一) 公民的收入; (二) 公民的房屋、储蓄和生活用品; (三) 公民的林木、牲畜和家禽; (四) 公民的文物、图书资料; (五) 法律允许公民所有的生产资料; (六) 公民的著作权、专利权中的财产权利; (七) 公民的其他合法财产。第 4 条规定, 个人承包应得的个人收益, 依照本法规定继承。个人承包, 依照法律允许由继承人继续承包的, 按照承包合同办理。依据法条可知, 被继承人生前承包经营的土地并不是当然的属于遗产范围, 故本题选 D。

3. B[解析]在 20 世纪 90 年代, 我国的对外开放形成了全方位、多层次、宽领域的对外开放格局, 标志着我国的对外开放进入了全新的阶段。故本题答案为 B。

4. C[解析]社会保障体制是在政府的管理之下, 按照一定的法律和规定, 通过国民收入的再分配, 以社会保障基金为依托, 为保障人民生活而提供物质帮助和服务的社会安全制度。要建立符合社会主义市场经济要求的社会保障制度, 必须从我国的实际情况出发, 遵从以下几项原则: 社会保障水平要与我国的经济承受能力相适应; 社会保障应坚持公平与效率统一的原则; 社会保障制度要法制化, 实行统一领导, 分级管理; 适应我国二元经济的现状, 采取两条腿走路的方针。故本题答案为 C。

5. C[解析]剩余价值就是雇佣工人所创造的并被资本家无偿占有的超过劳动力价值的那部分价值, 它是雇佣工人在剩余劳动时间支出的剩余劳动的凝结。超额剩余价值是指单个资本家通过提高劳动生产率使商品的个别价值低于社会价值而比一般资本家多得的那部分价值。故而, 超额剩余价值只能是个别企业提高劳动生产率的结果。故本题答案为 C。

6. B[解析]根据《刑法》第 24 条之规定: 在犯罪过程中, 自动放弃犯罪或者自动有效地防止犯罪结果发生的, 是犯罪中止。对于中止犯, 没有造成损害的, 应当免除处罚; 造成损害的, 应当减轻处罚。甲是在去杀人途中自动返回的, 这是自己主动放弃犯罪, 属于预备阶段的犯罪中止, 故本题答案选 B。

7. [解析]法律事实包括法律事件和法律行为。男女双方申请结婚登记引起了法律关系的产生, 这是一种法律行为, 而不是法律事件, 由于选项中不存在“法律行为”, 故取其上位概念“法律事实”。故本题选 C。

8. D[解析]抗日战争是一次全民族的抗战, 是一次以国共两党合作为基础的反抗日本帝国主义灭亡中国的伟大的正义战争。它集中了全国的财力、物力和人力对日作战, 并取得了伟大的胜利。抗日战争的胜利主要有以下原因: 第一, 由于建立了由中国共产党倡导的, 以国共两党合作为基础的抗日民族统一战线, 这是一条全民族抗战的路线。第二, 中国共产党坚持全面抗战路线即人民战争路线, 坚持持久抗战的总方针。第三, 国民政府在正面战场的对日作战, 对粉碎日本侵略者速战速决的方针、牵制日军起了重要作用。第四, 中国人民的抗日战争是世界反法西斯战争的重要组成部分, 中国抗日战争的胜利, 离不开爱国华侨和世



界人民的大力支援。而最根本的原因则是建立了抗日民族统一战线, 实行全民族抗战。故本题答案为 D。

9. B[解析]国防, 就是指国家为防备和抵抗侵略, 制止武装颠覆, 恐怖分子等, 保卫国家的主权、统一、领土完整和安全所进行的军事活动, 以及与军事有关的政治、经济、科技、外交、教育等方面的活动。其主要包括以下几方面内容: (1) 国防的主体: 国家; (2) 国防的目的: 捍卫国家主权、统一、维护国家的安全、保卫国家的领土完整; (3) 国防的手段: 根据《中华人民共和国国防法》的规定, 我国的国防手段包括军事活动以及与军事有关的政治、经济、外交、科技、教育等方面的活动。故本题答案为 B。

10. B[解析]胡锦涛同志 2008 年 12 月在军队一次重要会议上提出, 要围绕强化官兵精神支柱, 大力培育“忠诚于党、热爱人民、报效国家、献身使命、崇尚荣誉”的当代革命军人核心价值观。故本题答案为 B。

11. C[解析]《中国人民解放军文职人员条例》由中华人民共和国国务院、中华人民共和国中央军事委员会于 2005 年 6 月 23 日颁布, 2005 年 8 月 1 日实施。故本题答案选 C。

12. D[解析]根据《刑法》第 5 条罪责刑相适应之规定: 刑罚的轻重, 应当与犯罪分子所犯罪行和承担的刑事责任相适应。据此 ABC 正确, D 项的刑法不溯及既往是罪刑法定原则的要求。故本题选 D。

13. D[解析]矛盾的特殊性是指具体事物的矛盾以及每一个矛盾的各个方面都有其特点, 故而要求我们在对待不同事物的矛盾以及矛盾的不同方面时要具体问题具体分析, 不能一概而论。题目中“一把钥匙开一把锁”中的“锁”就是一个问题, 而开这把“锁”的“钥匙”则是解决这个问题的方法, “一把钥匙开一把锁”就正好说明具体问题具体分析。故本题答案为 D。

14. A[解析]中共中央总书记、国家主席、中央军委主席习近平 2014 年 4 月 15 日上午主持召开中央国家安全委员会第一次会议并发表重要讲话。他强调, 要准确把握国家安全形势变化新特点新趋势, 坚持总体国家安全观, 走出一条中国特色国家安全道路。故本题答案为 A。

15. C[解析]时间是指物质运动过程的持续性、顺序性; 空间是指运动着的物质的广延性、伸张性。时间、空间同运动着的物质是不可分的, 时空是运动着的物质的存在方式。对于时间和空间而言, 时间、空间既是绝对的又是相对的。否认时间、空间的绝对性、客观性必然导致唯心主义。否认时间、空间的相对性是形而上学观点。故本题答案为 C。

16. A[解析]明清时期的社会是中国封建社会的晚期, 这一时期封建社会的发展高 t 繁荣, 国家统一, 民族繁荣, 统一的多民族国家巩固与发展, 故而 D 项的“大分裂”说法是错误的; 同时在明朝晚期以至整个清朝近三百年的历史中, 中国对外基本采取闭关锁国的政策, 故而 C 项的“开放”说法是错误的; 而 B 项首次出现大一统的局面是在公元前 221 年秦始皇统一六国以后, 故而 B 项说法错误。综上, 本题答案为 A。

17. D[解析]责任能力是反映行为人对自已的违法行为后果承担法律责任的能力, 它是行为能力在保护性法律关系中的特殊表现形式, 与行为能力是一致的。行为能力是责任能力的上位概念, 行为能力中因违法而承担法律责任的能力是责任能力。故本题选 D。

18. B[解析]根据《中国人民解放军保密条例》规定, 军事秘密分为绝密、机密、秘密三个等级。“绝密”是最重要的军事秘密, 泄露会使国家安全与利益遭受特别严重的损害。“机密”是重要的军事秘密, 泄露会使国家安全与利益遭受严重的损害。“秘密”是一般的军事秘密, 泄露会使国家的安全与利益遭受损害。故本题答案为 B。

19. D[解析]在资本主义生产中实际耗费的不变资本和可变资本表现为生产成本或成本价格, 即资本主义生产费用(成本)。不变资本是指以生产资料形态存在的那部分资本, 其价值在生产过程中一次或多次转移到新产品中去, 不会发生增值, 因此叫不变资本(c)。



可变资本是指以劳动力价值形态存在的那部分资本, 在生产过程中可以使价值增值, 因此叫可变资本 (v)。故本题答案为 D。

20. A[解析]“一国两制”是一个完整的概念, 其基本内容就是在一个中国的前提下, 通过和平的方式实现祖国统一, 国家的主体坚持社会主义制度, 同时在香港、澳门、台湾保持原有的资本主义制度长期不变。“和平统一、一国两制”的构想最初是为解决台湾问题而提出来的, 首先运用于解决香港和澳门问题。“和平统一、一国两制”方针在香港、澳门的实践取得了举世公认的成功。香港、澳门相继回归祖国, 是按照“一国两制”方针实现祖国完全统一的重要步骤, 对台湾问题的解决有着重要的示范作用。故本题答案为 A。

21. B[解析]根据《军队文职人员管理规定》第 52 条的要求: 军队单位可以派遣文职人员出国(境)执行任务。文职人员因公出国(境)的管理, 按照军队派遣人员出国(境)的有关规定执行涉密岗位文职人员不得因私出国(境), 其他文职人员确需因私出国(境)的, 应当在规定的休假、探亲时间内安排。文职人员因私出国(境), 由本人提出书面申请, 聘用单位审核后报军级单位政治机关批准; 出境入境手续按照国家有关规定办理。文职人员因私出国(境), 不得暴露本人的军队人员身份。故本题答案为 B。

22. C[解析]马克思主义最卓越的理论品质是能够与时俱进, 坚持一切从实际出发, 理论联系实际, 实事求是, 在实践中检验真理和发展真理。故本题答案为 C。

23. B[解析]十八届四中全会通过的《中共中央关于全面推进依法治国若干重大问题的决定》中指出, 全面推进依法治国, 总目标是建设中国特色社会主义法治体系, 建设社会主义法治国家。故本题答案为 B。

24. A[解析]“科学技术是生产力”是马克思主义的一个基本原理。现代科学技术的发展, 使得科技在经济和社会发展中的作用越来越显著。进入 80 年代, 邓小平同志高瞻远瞩、审时度势, 进一步作出“科学技术是第一生产力”的论断, 为我国 90 年代乃至跨世纪经济和社会发展提供了强大驱动力。故本题答案选 A。

25. B[解析]2015 年 5 月 26 日, 中国政府发布《中国的军事战略》白皮书, 强调贯彻新形势下积极防御军事战略方针, 加快推进国防和军队现代化, 坚决维护国家主权、安全、发展利益。故本题答案为 B。

26. A[解析]我国刑法分则主要是根据某一类犯罪共同侵犯的某种社会关系, 作为分类的标准, 即同类客体。故本题选 A。

27. C[解析]实践是主体能动的认识和改造现实世界的一切社会性的客观物质活动。实践是主观见之于客观的活动, 是沟通主观和客观的桥梁。实践决定认识, 主要体现为实践是认识的来源、实践是认识发展的动力、实践是认识的目的和归宿、实践是检验认识是否具有真理性的唯一标准。其中, 实践是认识发展的动力主要体现为实践的发展不断遇到新的情况, 向人们提出新的认识课题, 促使人们进行新的探讨、研究, 并不断在实践中解决新问题, 从而推动认识向更深更广发展。故本题答案为 C。

28. D[解析]根据《军队文职人员管理规定》第 64 条, 对做出突出成绩的军队文职人员, 参照《中国人民解放军纪律条令》规定的奖励原则、条件和实施办法, 分别给予嘉奖、三等功、二等功、一等功、荣誉称号的奖励, 并可以给予表彰。故本题答案为 D。

29. A[解析]孔子是我国伟大的思想家, 教育家, 其思想涉及教育、政治、人际等方面。其中, 教育思想主要有“有教无类”、“因材施教”; 政治思想主要有“克己复礼”、“贵贱有序”、“为政以德”等; 针对于人际和谐提出的是“己所不欲, 勿施于人”。故本题答案为 A。

30. B[解析]委托代理, 是指代理人的代理权根据被代理人的委托授权行为而产生。因委托代理中, 被代理人是以意思表示的方法将代理权授予代理人的。故本题选 B。

31. D[解析]国有企业是国民经济的支柱, 是我国社会主义制度的重要经济基础。国有



企业改革是我国经济体制改革的中心环节。故本题答案为 D。

32. C[解析]邓小平指出:中国解决所有问题的关键是要靠自己的发展,发展是硬道理,发展是解决国内外一切矛盾的根本所在。故本题答案为 C。

33. D[解析]经过几十年来海洋科技工作者的调查研究,已在我国管辖海域记录到了 20278 种海洋生物。这些海洋生物隶属于 5 个生物界、44 个生物门,其中动物界的种类最多(12794 种),原核生物界最少(229 种)。我国的海洋生物种类约占全世界海洋生物总种数的 10%。故本题答案为 D。

34. C[解析]1919 年 5 月 4 日爆发的五四运动,标志着中国工人阶级以独立的力量分上了历史的舞台,中国的反帝反封建的民主主义革命进入了新民主主义的历史阶段。故本题答案为 C。

35. D[解析]股份有限公司是指将全部资本划分为等额股份,股东以其认购的股份为限对公司承担责任,公司以全部财产对公司债务承担责任的企业法人。有限责任公司是指在中国境内设立的,股东以其认缴的出资额为限对公司承担责任,公司以其全部资产为限对公司的债务承担责任的法人。股份有限公司要将全部资本划分为等额股份,股东以其认购的股份为限对公司承担责任,而题干中并没有提到资本的等额划分,故本题选 D。

36. A[解析]跨国公司是当今世界经济中除国家以外最活跃的国际行为主体,是当今世界经济活动的主要组织者。跨国公司作为生产和资本国际化的产物,它的迅速发展不仅使其在世界经济中的地位 and 作用不断加强,反过来也进一步促进了生产和资本的国际化,推动了国际分工的深化和经济全球化在生产、投资、贸易、金融、技术开发等方面的发展,推动了经济全球化的进程和世界经济的发展。故本题答案为 A。

37. C[解析]大纵深作战理论是由苏联军事家们在第一次世界大战和国内战争经验的基础上形成的。大纵深作战理论强调突击与追击,同时兼顾反突击。在第二次世界大战的过程中,伟大的卫国战争给了大纵深战役理论以很大的修正。它保留了这一理论的总的思想,并且从根本上改变了建立突击集团和军队战役布势、组织突破敌人防御及发展进攻等项原则的内容。故本题答案为 C。

38. D[解析]资本主义经济制度是以资本家占有生产资料和以雇佣劳动为基础的经济制度。资本主义雇佣劳动制度的形成是以劳动力成为商品为前提的。资本家之所以能够购买工人的劳动力,把工人变成雇佣工人,其根源在于资本主义的生产资料所有制。故本题答案为 D。

39. C[解析]根据《刑法》第 54 条的规定,剥夺政治权利是剥夺下列权利:(一)选举权和被选举权;(二)言论、出版、集会、结社、游行、示威自由的权利;(三)担任国家机关职务的权利;(四)担任国有公司、企业、事业单位和人民团体领导职务的权利。依据法条可知出版自由属于政治自由的范围,而其他都不属于政治自由,故本题答案选 C。

40. A[解析]古典主义是 17 世纪欧洲的主要文学思潮。它形成和繁荣于法国,随后扩展到欧洲其他国家。古典主义文学思潮是新兴资产阶级与封建贵族在政治上妥协的产物,其主要代表人物是莫里哀、弥尔顿等。故本题答案为 A。

41. B[解析]资本积累是指个别资本家通过剩余价值的资本化而扩大资本规模的过程。从资本主义的生产过程看,资本积累是资本主义扩大再生产的源泉,剩余价值是资本积累的源泉。资本积累的实质是资本家将其无偿占有的剩余价值的一部分再转化为资本,用来购买追加的生产资料和劳动力,扩大生产规模,从而进一步无偿地占有更多的剩余价值。B 项说法正确。A、C 项的说法是错误的,社会的资本会受社会财富增长而影响,社会财富的增长会带动社会资本的增加;D 项的说法也是错误的,资本的积累并非是单纯的将单个资本合并为大资本,只有被资本家剥削的那部分剩余价值转移到生产过程中进行价值增值才是资本的积累过程。故本题答案选 B。



42. C[解析]冯·诺依曼型计算机的主要特征有三点: (1) 采用二进制代替十进制运算; (2) 存储程序工作方法; (3) 计算机硬件系统的构成。冯·诺依曼型计算机的硬件结构及其各部分的功能包括: 控制器、运算器、存储器、输入设备、输出设备。故本题答案为 C。

43. B[解析]应聘人员应当具有普通高等学校全日制大学本科以上学历, 其中应聘教学、科研、工程、医疗专业技术岗位的, 还应当取得相应学位。应聘护理、艺术、体育专业技术岗位的, 学历条件放宽至大学专科。故本题答案为 B。

44. B

45. A[解析]我国的基本经济制度, 也即生产资料所有制是公有制为主体, 多种所有制经济共同发展。故本题答案为 A。

46. C

47. D[解析]毛泽东思想科学概念的提出, 经过了“毛泽东同志的思想”“毛泽东主义”到“毛泽东思想”的过程。1941年3月, 张如心在《论布尔什维克的教育家》一文中最早使用了“毛泽东同志的思想”的提法。1942年7月, 邓拓在《晋察冀日报》上发表的纪念中国共产党成立21周年的专题文章中, 使用了“毛泽东主义”这一概念。1943年7月8日, 王稼祥在《解放日报》上发表了《中国共产党与中国民族解放的道路》一文, 首先明确提出并多次使用了“毛泽东思想”这一概念。这篇文章是中国共产党第一次对毛泽东思想较为系统的阐述。1945年5月, 刘少奇在中国共产党第七次全国代表大会上所作的《关于修改党的章程的报告》中, 第一次在全党范围内正式提出并阐述了毛泽东思想。中共七大通过的党章把毛泽东思想确立为全党的指导思想。故本题答案为 D。

48. A[解析]根据《刑法》第17条的规定, 已满十四周岁不满十六周岁的人, 犯故意杀人、故意伤害致人重伤或者死亡、强奸、抢劫、贩卖毒品、放火、爆炸、投放危险物质罪的, 应当负刑事责任。因为已满十四周岁不满十六周岁的人只对这八种犯罪行为承担刑事责任, 是相对责任年龄, 因而是相对刑事责任能力人。故本题选 A。

49. B[解析]新民主主义社会是过渡时期, 是过渡到社会主义的准备阶段。从1949年10月新中国成立到1956年社会主义改造基本完成, 社会主义制度建立, 中国社会的性质是新民主主义社会。新民主主义社会不是一个独立的社会形态, 而是由新民主主义转变到社会主义的过渡性的社会性质。故本题答案为 B。

50. B[解析]劳动资料也称劳动手段。它是人们在劳动过程中所运用的物质资料或物质条件, 是人和劳动对象之间的媒介。其中最重要的是生产工具。故本题答案为 B。

二、多项选择题

51. DE[解析]法律规范与法律条文是内容与形式的关系, 法律规范是法律条文的内容, 法律条文是法律规范的文字表达和表现形式。一个法律条文中可能包含了一个法律规范逻辑结构的组成部分, 也可能包含了两个, 甚至多个, 但也可能是一个法律规范逻辑结构的组成部分由一个法律文件中的不同法律条文来表现, 甚至由两个不同的法律文件来表现。由此可知法律规范与法律条文并不是一一对应的关系。所以 A 选项错误, DE 选项正确。不是所有的法律规范都必须由法律条文来表现, 比如判例法、习惯法。所以 B 项错误。法律条文包括规范性条文和非规范性条文, 非规范性条文是指不直接规定法律规范, 而规定某些法律技术(如专门法律术语的界定、公布机关和时间、法律生效日期等)内容的条文。由此可知并不是所有的法律条文都体现法律规范。所以 C 项错误。故本题选 DE。

52. ABCDE[解析]2012年12月31日下午, 十八届中共中央政治局就坚定不移推进改革开放进行第二次集体学习。中共中央总书记习近平主持学习时强调, 改革开放是一项长期的、艰巨的、繁重的事业, 必须一代又一代人接力干下去。必须坚持社会主义市场经济的改革方向, 坚持对外开放的基本国策, 以更大的政治勇气和智慧, 不失时机深化重要领域改革, 朝着党的十八大指引的改革开放方向奋勇前进。习近平强调, 必须认真总结和运用改革开放



的成功经验。他就此提出 5 点意见。第一, 改革开放是一场深刻革命, 必须坚持正确方向, 沿着正确道路推进。第二, 改革开放是前无古人的崭新事业, 必须坚持正确的方法论, 在不断实践探索中推进。第三, 改革开放是一个系统工程, 必须坚持全面改革, 在各项改革协同配合中推进。第四, 稳定是改革发展的前提, 必须坚持改革发展稳定的统一。第五, 改革开放是亿万人民自己的事业, 必须坚持尊重人民首创精神, 坚持在党的领导下推进。故本题答案为 ABCDE。

53. ADE[解析]“四个全面”, 即全面建成小康社会、全面深化改革、全面依法治国、全面从严治党。“四个全面”战略布局的提出, 更完整地展现出新一届中央领导集体治国理政总体框架, 使当前和今后一个时期, 党和国家各项工作关键环节、重点领域、主攻方向更加清晰, 内在逻辑更加严密, 这对推动改革开放和社会主义现代化建设迈上新台阶提供了强力保障。故本题答案为 ADE。

54. BD[解析]马克思的“一个社会即使探索到了本身运动的自然规律”, “它还是既不能跳过也不能用法令取消自然的发展阶段”这句话表明了人类社会的发展不得跳跃, 但其规律可以被认知, 正体现了人类社会发展的规律性和目的性的统一; “但是它能缩短和减轻分娩的痛苦”这句话表明, 我们认清了社会发展的规律, 能够在社会发展的过程中利用规律, 以推进人类社会的发展前行, 故 BD 说法正确。A 项说法错误, 社会发展过程是自觉的, 自然演变过程是自发的; C 项说法是错误的, 规律是指事物本身所固有的、本质的、必然的、稳定的联系, 不能超越、改变和创造, 但人类可以利用规律; E 项说法不正确, 人类总体历史不可跨越, 因为人类社会的发展有其固有的规律。故本题答案选 BD。

55. ABCE[解析]军队文职人员培训包括岗前培训、在职培训、专业培训和军事训练。岗前培训主要进行我军性质宗旨、优良传统、根本职能教育和文职人员职责教育, 军队相关条令条例和规章制度学习, 以及上岗前的基本业务培训, 着重提高文职人员适应军队工作的基本素质和岗位任职能力。岗前培训时间不少于三十日。在职培训主要进行业务知识学习和岗位技能培训, 着重提高文职人员履行岗位职责的能力。专业培训主要进行专业理论知识和业务技能的集中培训, 着重提高文职人员的学术水平和专业素养。专业培训通常由聘用单位组织实施, 必要时也可以由总参谋部军训部和总政治部干部统一组织实施。军事训练主要进行与展行文职人员岗位职责相关的军事勤务、军事技能训练, 着重提高文职人员执行作战和处置突发事件任务的能力。军事训练通常由聘用单位组织实施, 也可以委托军队院校或者训练机构组织实施; 故本题答案为 ABCE。

56. ACD[解析]根据《侵权责任法》, 免责事由涵盖以下六种: (1) 过失相抵; (2) 受害人的故意; (3) 第三人的原因; (4) 不可抗力; (5) 正当防卫; (6) 紧急避险。B 选项的诉讼时效届满只是阻断请求胜诉权的事由。而并不是责任的免责事由, 而 E 选项只有损害是由受害人自己故意造成的时候才免责, 故本题答案选 ACD。

57. ABCE[解析]为确保涉密信息安全保密, 应当严格禁止从互联网或其他公共信息网络直接向涉密计算机拷贝信息。如果确因工作需要拷贝的, 必须采用国家保密工作部门批准的设备或认可的方式进行, 可以通过以下途径: 一是将要拷贝的资料刻录到空白光盘中, 再通过光盘将拷贝的资料复制到涉密计算机上; 二是先将互联网上的资料拷贝到单设的中间机上, 彻底进行清除窃密程序和查杀病毒处理后, 再拷贝到涉密计算机上。由此可知, 只有 D 项符合要求。故本题答案选 ABCE。

58. ACE[解析]资本家用自己手中的货币购买生产资料并雇用劳动力, 进行生产, 并将生产出来的商品出售换回更多的货币。如果用 G' 表示增值了的货币, 即 $G' = G + \Delta G$, 那么资本流通公式: $G - w - G'$ 。货币在这过程中实现了价值的增值, 从而变成了资本。故而 A 项说法正确。剩余价值不能在流通领域中产生, 因为流通只是为价值增值过程做准备, 而这个过程是在生产领域中进行的; 又不能离开流通而产生, 因为它是以流通为媒介。它以在商



品市场上购买劳动力为条件, 这是解决资本总公式矛盾的条件。故而 B 项说法错误, 而 E 项说法正确。资本流通的目的即通过生产过程创造剩余价值, 从而实现价值增值。故而 C 项说法正确。资本家投入生产经营领域中的资本可以分为可变资本和不变资本, 剩余价值来源于可变资本, 而非总资本, 故而 D 项说法错误。故本题正确答案为 ACE。

59. ABD[解析]技术是指人们利用现有事物形成新事物, 或是改变现有事物功能、性能的方法, 技术应具备明确的使用范围和被其他人认知的形式和载体。A 项说法指技术的目的性, 正确。B 项指技术的自然属性, 正确。C 项说法是错误的, 技术必然要受到社会条件制约, 这就是技术的社会属性。技术还具有两面性, 它既可以推动社会发展, 为人类服务, 又有可能给人类带来危害, D 项正确, E 项说法过于绝对。故本题答案为 ABD。

60. ABCD[解析]商品是用来交换的能满足人们某种需要的劳动产品, 其包含使用价值和价值两个因素。商品的价值和使用价值之间存在对立统一的关系。统一性表现在作为商品, 必须同时具有使用价值和价值两个因素。使用价值是价值的物质承担者; 价值通过使用价值表现出来, 没有合格的使用价值, 价值不能得到实现。对立性表现在商品的使用价值和价值是相互排斥的, 二者不可兼得。故而 ABCD 说法正确。E 项说法错误, 任何商品都必须同时具有使用价值和价值, 缺一不可。

第二部分 岗位能力

一、言语理解与表达

61. D[解析]第一空, 表达人们对世界未知谜团的了解, 用“破解”“解释”恰当, 排除 B、C。第二空, “轨道”多用“一条”描述, 与“一种”搭配不当, 且“人生轨迹”为习惯表述。故本题选 D。

62. A[解析]由“雨, 有时是会引起人一点淡淡的乡愁的”“我想念昆明的雨”可知, 雨引发人的乡愁。本题选 A。

63. D[解析]第二处, 单引号和单书名号用于引号和书名号里面还需要再用引号或书名号的情况, 此处不存在套用, 故排除 A、C。书名号标示语段中出现的各种作品的名称, “生命的魅力”不是作品, 而是句中需要着重论述或强调的内容, 故应使用引号, 排除 B。本题选 D。

64. B[解析]A 项“旁征博引”的“旁”意思是“广泛”; C 项“甚嚣尘上”的“嚣”意思是“吵闹, 喧哗”; D 项“尾大不掉”的“掉”意思是“摇动”。B 项正确, 当选。

65. B[解析]文段以《资本论》中提到的人物为切入点, 着重介绍了清代理财官王茂荫在货币理论方面的成就。D 项“最高成就者”表述过于绝对, 排除。与 A、C 两项相比, B 项“唯一提到”更突出了王茂荫其人在货币理论方面的成就, 且这一信息作为标题也更能吸引眼球: 引发读者阅读兴趣。故本题选 B。

66. D[解析]与后句的“而且”搭配, D 项表递进关系的“不仅”最恰当。故本题选 D。

67. D[解析]“叶帛烟销帝业虚, 关河空锁祖龙居”意思是焚书的烟雾刚刚散尽, 秦始皇的帝业也随之灭亡, 函谷关和黄河天险, 也锁守不住始皇的故国旧居。故此处的“关河”指的便是函谷关和黄河。此题也可由常识入手, 山海关位于河北, 嘉峪关位于甘肃, 函谷关位于河南, 函谷关距离秦朝的首都咸阳最近。故本题选 D。

68. B[解析]文段前两句论述杜甫被宋代学者称为“圣于诗者”, 第三句论述杜甫被后世称为“诗圣”。A、C 两项的“反映现实”“忧国忧民”文段未涉及, D 项是被称为“诗圣”的原因, 均可排除。故本题选 B。

69. D[解析]A 项“还”是多音字, 既可以理解为“已归还欠款 500 元”, 也可以理解



为“还欠钱 500 元”; B 项既可以理解为赵大伯在医院工作, 也可以理解为赵大伯的儿子在医院工作; C 项既可以理解为张明手里提着一个黑色提包, 也可以理解为老人手里提着一个黑色提包。D 项没有歧义, 当选。

70. A [解析] 由文段第二句“随着经济的快速发展, 一些新的环境问题不断产生”可知, 经济快速发展只是新环境问题产生的一个背景, 并不能得出“新的环境问题是经济快速发展的必然产物”这一结论, 故 B 项错误, 排除。由文段第一句可知, 传统污染物排放量超过环境容量才会致使一些地区环境质量达不到国家规定的标准, C 项忽视了这一前提, 错误。文段只是客观描述了前前后后出现的环境问题, 但无法得出 D 项所概括的特殊规律。故本题选 A。

71. C [解析] 整个复句为因果关系, 因此第五空不能填表转折的“但是”, 排除 A。最后两空, 掌握常用义和掌握活用情况之间为递进关系, 不能填表假设的“如果……就……”, 排除 B、D。故本题选 C。

72. C [解析] 这段主要阐述了全球贸易缩减的背景下, 部分经济实体出现了贸易保护主义抬头的倾向。而中国由于一直以来的贸易顺差地位, 与相关国家的贸易摩擦日渐增多。由此可知, 整个文段讲的都是贸易摩擦日渐增多的背景, 按一般的先提出问题后解决问题的写作逻辑, 下文应继续围绕“贸易摩擦”展开, 与此相符的只有 C 项。故本题选 C。

73. C [解析] A 项, “瑕不掩瑜”比喻缺点掩盖不了优点, 缺点是次要的, 优点是主要的。而电影中故事情节和演员的表演应是主要的, 音乐是次要的, 仅音乐好不能说是“瑕不掩瑜”。B 项“莫衷一是”形容意见分歧, 没有一致的看法。不能用于分不清楚真假的语境。D 项, “蓬荜生辉”为谦词, 只能用于自己, 不能用于对方。C 项, “罪不当罚”指处罚和所犯罪行不相称。用于“量刑过重”的语境恰当。故本题选 C。

74. D [解析] 由“《西厢记》‘花间美人’的艺术风格”可知, “花间美人”指的是《西厢记》的艺术风格, 而非女主人公崔莺莺。故本题选 D。

75. B [解析] A 项, 缺少宾语中心语, 可在“耽误正常上课”后面加上“的做法”。C 项, 表意矛盾, “取消房屋预售制度”是一种意见而非各种意见, 应删除“各种”。D 项, 一面对两面, 可删掉句首的“是否”。B 项没有语病, 故当选。

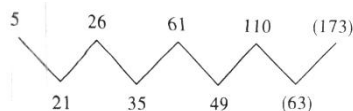
二、数量关系

76. C [解析] 设三年前年薪为根据题意可列方程: $1.5x \times (1-20\%) \times (1-5\%) - 7 = x$, 解得 $x = 50$ 万。

77. C [解析] 多次方数列。各项依次可写为 $(1^6), 2^5, 3^4, 4^3, 5^2, 6^1$ 。


78. D [解析] 每段最长应是 36, 54, 72 的最大公约数, 为 18。

79. B [解析] 二级等差数列。



作差
公差为 14 的等差数列

80. D [解析] 如下图, 阴影部分即为所求。先去掉中间空白部分 $8 \times 8 - 4 \times 4 = 48$, 再去掉四个角, 四个角的面积为边长为 2 的正方形减去一个与其四边相切的圆, 即 $2 \times 2 + \pi = 4 + \pi$, 所以阴影部分面积为 $48 - (4 + \pi) = 44 + \pi$ 。



81. D[解析] $y = 3 \times 8 = 2 \times 3 - 3 \times 8 = (-18)$ 。 $5 \Delta(-18) = 5 \times (-18) = (-90)$ 。

82. A[解析] 设小林学习次数为 $10+x$, 则小强学习次数为 $1.5(10+x) = 15+1.5x$ 。多出 10 次课程部分收费为 y 。依题得:
$$\begin{cases} xy = 780 - 60 \times 10 \\ (5+1.5x)y = 1095 - 60 \times 10 \end{cases}$$
, 解得: $x = 4, y = 45$ 。 $60 - 45 = 15$ 。

83. A[解析] 设这六个数中最小的一个为 x , 则其他五个数为 $x+1, x+2, x+50, x+51, x+52$, 依题得 $x+x+1+x+2+x+50+x+51+x+52 = 432$, 解得了 $x = 46$ 。

84. D[解析] 依题得男性有 $100 \times \frac{3}{2+3} = 60$ 人, 女性有 $100 \times \frac{2}{2+3} = 40$ 人, 未婚的有 30 人, 则已婚的为 70 人。要使抽出的已婚男性的概率最大, 则让所有男性都已婚, 所以随机抽取一人, 结果为已婚男性的最大概率是 0.6。

85. A[解析] 设同时报乙和丙类岗位的人数为 x , 根据容斥原理得 $=40+31+28-13-15-x = 63$, 解得 $x = 8$ 。

三、判断推理

86. B[解析] 题干的推理形式: $A \rightarrow B, B \rightarrow C$, 因此 $A \rightarrow C$ 。为必要条件连锁推理。选项中只有 B 项的推理形式与题干相同。故答案选 B。

87. C[解析] 第一组图形, 前两个图形圆圈内直线叠加去异存同, 黑点直接叠加, 得到第三个图形。第二组也遵循这个规律, 所以选择 C 项。

88. B[解析] 题干是一个后件为联言命题的充分条件假言命题。A 项否定前件和 C 项肯定后件均不能进行有效推理; 联言命题否一则全否, B 项否后则否前, 正确; D 项明显担不出。故答案选 B。

89. C[解析] 每一个图形都含有三角形, 只有 C 中有三角形, 因此答案选 C。

90. A[解析] 将题干条件代入选项对比。代入 (1) (2) 所有选项均符合, 代入 (3) F 与 C 相邻可知 A 项的顺序不符。故答案选 A。

91. A[解析] 少林寺位于河南登封, 白马寺位于河南洛阳。二者均是佛教寺院, 且均在河南境内。故答案选 A。

92. A[解析] 考查事件的逻辑顺序。化工厂爆炸是整个事件的逻辑起点, 爆炸引起消防人员伤亡, 然后市民献血, 爱心传递, 最后是对此次爆炸事件进行调查。故答案选 A。

93. C[解析] 歧视的关键信息是: ①某些人属于某一群体或某一类属的成员; ②施以不公平或不平等的待遇。A 项对学习不好的同学, B 项对女大学生, D 项对警察的不公平待遇均属于歧视; C 项是王女士对一类属成员的某方面外貌特征的看法, 并未涉及不公平待遇, 不符合②。故答案选 C。

94. A[解析] 根据题干可知小李和小陈的话为矛盾关系, 二者必为一真一假, 又根据四人叙述中只有一句为假, 可知小王和小张说的是真话, 可知乙股没涨, 丁股涨了。故答案选 A。



95. D[解析] 每一行图形中, 第一个图形上下翻转形成第二个图形, 第二个图形左右翻转形成第三个图形。因此应选择 D 项。

四、资料分析

96. B[解析] 由第三段可知, 第三次“围剿”毙伤俘敌 3 万余人, 因此答案选 B。

97. A[解析] 由前三段可知, 第一次反“围剿”歼俘 1.5 万人, 第二次、第三次反“围剿”歼俘万余人, 第四次反“围剿”歼俘 3 个师, 3.6 万人, 因此第四次反“围剿”歼俘蒋军数最多。

98. D[解析] 前四次反“围剿”歼俘蒋军数大于 $1.5+3+3+3.6=11.1$ 万人, 选择 D 项。

99. C[解析] 五次“围剿”红军直接参战人员为 $4+3+3+7+10=27$ 万人, 敌军直接参战人员为 $10+20+30+40+50=150$ 万人。敌我直接参战人员数量之比为 $150:27 \approx 5.56:1$, 答案选 C。

100. D[解析] 由图、表格可知, A 项, “七五”时期钢的产量 29586 万吨, 最大, 正确; B 项, “一五”时期钢的产量为 1167 万吨, 最小, 正确; C 项, 由表格可知, 总共有 7 个五年计划, 且钢产量都是按照由低到高顺序依次递增, 因此正中位置是“四五”时期, 正确。D 项, “四五”时期钢的产量为 11494 万吨, “二五”与“三五”时期钢产量的总和是 $5990+6597 \approx 12000 > 11494$, 错误。答案选 D。

101. C[解析] 由图可知, “七五”时期钢产量为 29586 万吨, “一五”时期钢的产量为 1167 万吨, 因此所求为 $\frac{29586}{1167} \approx 25.3$, 选择 C 项。

102. B[解析] A 项, 由图可知, “二五”时期钢产量为 5990 万吨, “三五”时期钢产量为 6597 万吨, 正确; B 项, 七个五年计划共完成钢产量为 $1167+5990+6597+11494+14758+20305+29586 < 100 \times (12+60+66+115+148+203+296) = 100 \times 900 = 90000$ 万吨, 错误, 因此答案选 B。

验证: C 项, “二五”时期钢产量增幅为 $\frac{5990-1167}{1167} > \frac{4800}{1167} > 4$, 其余时期钢产量增幅均 < 1 , 因此钢产量增幅最大的是“二五”时期, 正确。

D 项, $11494 \times (1+30\%) > 11400 \times 1.3 = 14820 > 14758$ 。因此增幅不超过 30%, 正确。

103. A[解析] 上题分析已确定“五五”时期比“四五”时期增幅不超过 30%, 选项中只有 A。验证: 由图可知, “七五”时期钢产量为 29586 万吨, “六五”时期钢产量为 20305 万吨, 所求为 $\frac{29586}{20305} - 1 \approx \frac{30000}{20000} - 1 = 0.5$, 计算结果偏大, 选择较小的, 只有 A 项符合。

104. C[解析] 由“世界煤资源地质储量为 14.3 万亿吨, 其中探明储量为 3.5 万亿吨, 约占 24.5%……”可知, 未探明储量占总储量的 $1-24.5\%=75.5\%$, 答案选 C。

105. D[解析] “世界煤资源地质储量为 14.3 万吨……在总储量中硬煤占 75%”, 所求为 $14.3 \times 75\% = 10.725$ 万亿吨。答案选 D。

106. D[解析] 直接查找比较, 硬煤经济可采储量占世界总量比例最高的国家是美国 24.8%, 答案选 D。

107. C[解析] 由“世界煤资源地质储量为 14.3 万亿吨, 在总储量中硬煤占 75%, 褐煤占 25%”可知, 所求为 $14.3 \times (75\% - 25\%) = 7.15$ 万亿吨, 答案选 C。

108. A [解析] 由材料可知, 所求为 $(3 \cdot a) - 2 = 10 \cdot 2$, 与 A 项最为接近, 答案选 A 项。

109. B[解析] 由“企业所得税和个人所得税 915.8 亿元和 383.5 亿元, 分别增长 14.2% 和 14.9%”可知, 所求为 $\frac{915.8}{1+14.2\%} \times 14.2\% - \frac{383.5}{1+14.9\%} \times 14.9\% \approx \frac{915}{1+\frac{1}{7}} \times \frac{1}{7} - \frac{384}{1+15\%} \times 15\% \approx 114.5 - 50 = 64.5$, 答案选 B。



110.A[解析]2014 年地方公共财政预算收入增长速度为 10.0%, 2016 年地方公共财政收入为 $4027.2 \times (1+10.0\%)^2 \approx 4000 \times 1.21=4840$ 亿元, 计算结果偏小, 选择较大的 A 项。