



2008 年湖北公务员考试

《行政职业能力测验》真题



扫描二维码, 关注厚职公考官方公众号获取更多真题和资料
厚职公考网 (www.houzhiwang.com) 整理提供



2008 年湖北公务员考试行测真题及答案解析

2008 年湖北公务员考试行测真题及答案 PDF 版下载 (答案解析请下载 PDF 版查看)

说 明

这项测验共有五个部分, 140 道题, 总时限为 120 分钟。各部分不分别计时, 但都给出了参考时限, 供你参考以分配时间。

请在机读答题卡上严格按照要求填写好自己的姓名、报考部门, 涂写准考证号。

请仔细阅读下面的注意事项, 这对你获得成功非常重要:

1. 题目应在答题卡上作答, 不要在题本上作任何记号。
2. 监考人员宣布考试开始时, 你才可以开始答题。
3. 监考人员宣布考试结束时, 你应立即放下铅笔, 将试题本、答案卡和草稿纸都留在桌上, 然后离开。如果你违反了以上任何一项要求, 都将影响你的成绩。
4. 在这项测验中, 可能有一些试题较难, 因此你不要在一道题上思考时间太久, 遇到不会答的题目, 可先跳过去, 如果有时间再去思考。否则, 你可能没有时间完成后面的题目。
5. 试题答错不倒扣分。
6. 特别提醒你注意, 涂写答案时一定要认准题号。严禁折叠答题卡!

第一部分 言语理解与表达

一、选词填空: 共 10 题。要求你从所给的四个选项中选出一个填空。使句子的意思表达得最准确。

请开始答题:

1. 资本的自然属性是逐利性, 但资本也____承担相应的社会功能。当资本的逐利性与其社会功能不能____共存时, 这就要求政府充当社会属性的执行者和监管者, 因为政府是公共利益的代表者。

依次填入横线上最恰当的是 ()

- | | |
|----------|----------|
| A. 必须 和平 | B. 必需 和谐 |
| C. 必需 和平 | D. 必须 和谐 |

【答案】D。

【考点】实词辨析

【解析】必须是副词, 可用以修饰动词作状语, 一般表示主观上一定要; 而必需则是动



【解析】慈善是指对人关怀而有同情心;仁慈而善良。和善是指温和而善良。善良的意思是纯真温厚,没有恶意。善意是指好意。空格处在“很”之后,显然当选一个形容词,后半句提到不发脾气,则与是否对人关怀,是否有同情心无关,也无是否纯真无关,所以答案是B项。

5. 允许媒体发言,是一种文明、____允许媒体存在一定的出于真实的谬误,也是保证媒体有效发言的文明。____这种文明,____祛除任何对于真实的畏惧。

依次填入横线上最恰当的是()

- A. 一旦 只有 才能
- B. 甚至 只有 才能
- C. 一旦 只要 就能
- D. 甚至 只要 就能

【答案】B。

【考点】虚词辨析

【解析】这道题留了三个空,后两个空显然是呈条件关系,在仔细阅读句子之后,可知后两个空当是必要条件,而非充分条件,所以排除C、D两项,第一个空通过语感和语境分析,可得出当选B。

6. 地球是慷慨的,她养育了一代又一代人类;地球是无情的,她也报复了____施虐、____索取的人类。地球是我们唯一的栖身之所,糟蹋地球就是糟蹋我们自己。

依次填入横线上最恰当的是()

- A. 大事 过度
- B. 恣意 长期
- C. 恣意 过度
- D. 大事 长期

【答案】C。

【考点】实词辨析

【解析】恣意的意思是任意,放纵,不加限制。大事的动词意思是大力从事,大规模从事。而地球的报复,显然是针对任意、放纵施虐的行为,针对过度索取,而不是长期索取的行为,所以答案为C项。

7. 世界上最累的人莫过于平俗之辈去____,无才之人却要____。

依次填入横线上最恰当的是()

- A. 依附权贵 日理万机
- B. 附庸风雅 日理万机



C. 依附权贵 跑官要官

D. 附庸风雅 跑官要官

【答案】 B。

【考点】 成语辨析

【解析】 句意很明显, 空格与空格前的平俗、无才当成反义的组合。平俗的反义词是风雅, 所以排除 A、C 两项; 无才之人要他日理万机那才难, 所以答案为 B 项。日理万机是形容政务繁忙, 工作辛苦。

8. 稿子写完了, 老王说过于____, 要我联系一些实际, ____一些内容。

依次填入横线上最恰当的是 ()

A. 简单 添加

B. 生硬 补添

C. 空洞 增添

D. 理论 增加

【答案】 C。

【考点】 实词辨析

【解析】 这道题的两个空中, 后一个空很难判断, 四个词的意思都是增加、增添, 只能从第一个词判断。第一个词接在“过于”之后, 显然当是一个形容词, 所以排除 D 项。空格后提到“要我联系一些实际”, 那么就是说稿子里有些脱离实际, 显然比较空洞, 所以答案为 C 项。

9. 一块木头是什么? 这要看具体情况。拿它来做家具就是____, 拿它来烧火就是____, 拿它来挑水就是工具, 拿它来和坏人斗争就是____……这就是质的多样性。

依次填入横线上最恰当的是 ()

A. 材料 原料 武器

B. 原料 燃料 武器

C. 原料 燃料 凶器

D. 材料 原料 凶器

【答案】 B。

【考点】 实词辨析

【解析】 原料一般指来自矿业和农业、林业、牧业、渔业的产品, 而材料一般指经过一些加工的原料。第二个空必然是燃料, 而不是原料, 排除 A、D 两项, 第三个空, 既然是和坏人斗争, 那就不可能是“凶器”, 只能是武器, 排除 C 项, 所以答案为 B 项。

10. ____的深圳是个小渔村, 生活在这里的人们与全国____地区的农民一样, 日出而作,



日落而息。

依次填入横线上最恰当的是 ()

- A. 曾经 其他
- B. 曾经 任何
- C. 从前 其他
- D. 过去 到处

【答案】C。

【考点】实词辨析

【解析】从前是过去的时间。曾经是过去发生过(的事),是副词,一般用在动词前。

第二个空通过语感便可知是“其他”,所以答案为C项。

二、阅读理解:共15题。每道题包含一段短文,短文后面是一个不完整的陈述,请你从四个选项中选出一项来完成这一陈述。

请开始答题:

11. 下列各句没有语病的一句是 ()

- A. 强调生活的教育意义,并不意味着可以用生活取代教育,因为生活毕竟带有零散性并且还会有消费的东西
- B. 限期使用的产品,应当在显著位置清晰地标明生产日期、安全使用期和失效日期
- C. 他们在遇到困难的时候,并没有消沉,而是在大家的信赖和关怀中得到了力量,树立了克服困难的信心
- D. 根据一个小学校的统计,今年小学生的“人情消费”与去年相比,增加了近一倍左右

右

【答案】B。

【考点】病句辨析

【解析】A项后半句“因为……并且……”运用不当。C项“他们”应该放到“并没有”前做主语。D项“近一倍”与“左右”重复,去掉一个。所以答案为B项。

12. 党的十七大,是在我国改革发展_____召开的一次十分重要的会议。

填入横线处最恰当的选项是 ()

- A. 攻坚阶段
- B. 关键阶段
- C. 重要阶段
- D. 新的阶段

【答案】B。

【考点】实词辨析



【解析】A 选项,“攻坚阶段”指到了最关键、最困难和最艰苦的阶段,也是最重要的阶段。但是最常用于事情的最后阶段,不符文意;D 选项“新”是与“旧”相对应的,材料中并没有提到“旧”,所以不存在这种语境,所以不选;“关键”和“重要”语义相近,但“关键”强调尤为重要,在程度上比“重要”要深,更适合语境,符合惯常搭配,故正确答案为 B

13. 改革开放以来我们取得一切成绩和进步的根本原因归结起来就是 ()

- A. 开辟了中国特色社会主义道路,形成了中国特色社会主义理论体系
- B. 坚持了中国共产党的正确领导,实现了改革开放
- C. 坚持了实事求是的思想路线
- D. 贯彻落实了科学发展观,构建了社会主义和谐社会

【答案】A。

【考点】基础知识

【解析】题目问的是“根本原因”,所以答案应侧重思想性,系统性,A 选项最符合。B、C、D 选项是 A 选项的支撑,属于 A 选项的构成部分。故正确答案为 A

14. 人的心理发展的源泉与决定因素是历史过程中不断发展的文化,而文化则是人的社会生活与社会活动的产物。

根据上文的内容,表述正确的一项是 ()

- A. 文化是社会活动的产物,它是在历史过程中不断发展的
- B. 人的心理发展既来源于历史过程中不断发展的文化,又取决于历史过程中不断发展的文化
- C. 人的心理发展归根结底是人的社会活动的产物
- D. 人的心理发展与文化有关,但与人的社会活动并无必然的联系

【答案】B。

【考点】细节理解

【解析】A 项文段中提到文化是人的“社会生活与社会活动的产物”,A 项不全面,排除。C 项文化是人的社会生活与社会活动的产物,无法得出人的心理发展是人的社会活动的产物,排除。D 项,人的心理发展与文化有关,而文化是人的社会生活与社会活动的产物,也就是说人的心理发展与人的社会活动息息相关,排除。所以答案是 B 项。

15. 我们可以把一年中的日子分成两个部分:工作和休息。所有人都希望工作时间短,



休息时间长, 还是莎士比亚深谙忙与闲的道理, 他借剧中人物之口说道: “如果终年都是游乐的假日, 嬉戏将和工作一样厌烦, 正因为假日难得, _____。”

填入横线上最恰当的是 ()

- A. 人们才会如此高兴
- B. 人们才会感到度假是自己的权利
- C. 人们才会感到人生的快乐
- D. 人们才会如此的期盼

【答案】D。

【考点】语句填空

【解析】文段中一句“所有人都希望工作时间短, 休息时间长”, 可知休息是一种期盼, 所以答案是D 项, 凭语感也可选出 D 项。

16. 科学理性有一个特点: 可以理解的事物就可以被接受, 不能理解的事物就不可以接受并且排斥。这是人智的特点也正是人智的局限所在。

这句话想说明 ()

- A. 科学的合理性
- B. 科学的作用
- C. 科学的局限性
- D. 科学的客观性

【答案】D。

【考点】意图判断

【解析】文段中提到, 可以理解即可以接受, 不可以理解即不可以接受, 但不管理解与否, 科学仍是客观存在, 所以表明的是科学的客观性。所以答案为 D 项。

17. 人总觉得不满足, 而且很难为满足确定标准。一旦确立了满足的标准, 人们又会不满足, 这正是人可贵的地方。

对这段话的正确理解是 ()

- A. 知足常乐
- B. 满足是没有确定的标准的
- C. 人要前进, 就要永不满足
- D. 满足与不满足没有绝对的界限

【答案】B。

【考点】细节理解

【解析】文段的开头一句即提到很难为满足确定标准, 也就是文段的意思, 即满足是没有确定的标准的, 所以 B 项是正确答案。



18. 1999 年起, 我国普通高校开始实行扩招。大幅度的扩招____, 因此出现了高校学生质量滑坡现象。

填入画横线部分最恰当的一项是 ()

- A. 使入学门槛骤然降低
- B. 缓解了学生和家长的 思想压力
- C. 给就业带来了巨大的压力
- D. 使更多的学生有了上学的机会

【答案】A。

【考点】语句填空

【解析】空格后的句子提到的是高校学生质量滑坡, 与就业无关, 排除 C 项, 只有 A 项, 降低了入学门槛, 才使得高校学生质量下降, 所以 A 项为正确答案。

19. 利人利己者把生活看成是一个合作的舞台, 而不是一个角斗场。一般人看事情: 非强即弱、非胜即败。世界之大。人人都有足够的立足空间, 他人之得不必就视为自己之失。

这段话谈论的核心意思是 ()

- A. 生活是一个合作的舞台
- B. 双赢符合现实人生的辩证法
- C. 善待他人也要善待自己
- D. 利人与利己并存不悖

【答案】D。

【考点】主旨概括

【解析】文段中提到利人利己者把生活看成是一个合作的舞台, 即利人与利己并不相悖。所以答案为 D 项。

20. 目前我国法律对个人隐私的保护力度比较薄弱, 个人的隐私主要是通过个人名誉权来保护的。而且, 个人名誉权受到侵害的, 要造成侵害后果的才予以追究。对于绝大多数受“骚扰”的人来说, 受侵害的后果并不是很明显, 也很难追究。

通过这段话, 作者想表达的是 ()

- A. 我国有关保护个人隐私权的法律有待完善
- B. 我国个人受侵害的后果并不明显
- C. 我国现行法律保护个人的名誉权
- D. 我国的个人隐私主要是通过个人名誉权来保护的

【答案】A。

【考点】意图判断



【解析】文段中第一句话即提到目前我国法律对个人的保护力度比较薄弱, 下文展开分析, 所以作者想表达的即为 A 项。

21. 自去年 12 月在迈阿密举行美洲首脑会议后, 拉美国家加快了建立自由贸易区的步伐, 一体化进程已进入了一个新的时期。

这段话不能反映的是 ()

- A. 美洲首脑会议举行的地点
- B. 美洲首脑会议的作用
- C. 拉美一体化进程进入新时期
- D. 拉美一体化形成

【答案】D。

【考点】细节理解

【解析】这道题要求选出“不能”反映的一项, 文段中只提到一体化进程进入了一个新的时期, 无法得出拉美一体化是否已形成的结论。所以答案为 D 项。

22. 投资仍然是拉动中国经济增长的主要动力, 但与以前主要靠地方政府利益驱动不同, 现在的投资越来越受到企业利润和盈利能力的驱动, 投资质量有明显提高。同时, 盈利能力越强的工业行业, 投资增长也越高。

这段话想表达的主要观点是 ()

- A. 投资仍然是拉动中国经济增长的主要动力
- B. 现在的投资越来越步入以市场为主导的良性循环轨道
- C. 以前的投资主要是靠地方政府利益驱动的
- D. 盈利能力的行业投资增长越高

【答案】B

【考点】意图判断

【解析】文段对比了现在投资与以前的投资的不同, 并表明现在的投资方式明显要比原来优化, 所以答案为 B 项。

23. 青藏高原的原始生态环境在全球占有特殊的地位, 但生态环境十分脆弱, 一旦遭到破坏则不可逆转, 有的植物被恢复需要上百年的时间。高寒、干旱、原始和极其脆弱是这一区域生态环境的显著特征。

以下选项中符合原文意思的是 ()



- A. 青藏高原的植物十分脆弱, 遭到破坏则不可逆转
- B. 高寒、干旱使得青藏高原的生态环境十分脆弱
- C. 青藏高原的生态环境是最古老、最原始的
- D. 青藏高原的生态环境虽然原始, 但抗破坏能力很弱

【答案】B。

【考点】细节理解

【解析】A项脆弱的是生态环境, 而不是植物, 排除。C项无法从文段中得出青藏高原的生态环境是“最”古老和“最”原始的, 排除。D项生态环境脆弱, 以及遭到破坏不可逆转无法得出青藏高原的抗破坏能力很弱, 所以答案为B项。

24. 人类基因的数量与阿猫、阿狗这样的哺乳动物的基因数量几乎差不多, 跟鼠类的还非常接近。更可气的是, 水稻基因数量竟然是人类的两倍。

这段话想要表达的观点是 ()

- A. 哺乳动物的基因数量都差不多
- B. 基因数量的多少并不能代表物种等级的高低
- C. 人类与鼠类在基因上是非常接近的
- D. 某些植物的基因比动物的还要多

【答案】B。

【考点】意图判断

【解析】文段中提到人类与哺乳动物的基因数量差不多, 植物的基因数量可能更多, 则表明基因数量的多少并不能代表物种等级的高低, 所以答案为B项。

25. 世界上许多民族正面临着在世界舞台上丧失母语的话语权, 不得不依附于西方弥补语言文字, 从而使本民族的文化被逐渐弱化。

这段话可以被用来论证下面的哪一种观点? ()

- A. 保护本民族母语的重要性
- B. 语言文字也有强势弱势之分
- C. 民族的文化被逐渐弱化的原因
- D. 我们不能在语言文字上依附于西方

【答案】C。

【考点】主旨概括

【解析】文段先提到了民族母语话语权的逐渐丧失, 而后最终得出结论从而使本民族的



文化被逐渐弱化, 这才是作者真正想表达的意思, 所以 C 项为正确答案。

第二部分 数量关系

一、数字推理: 共 10 题。给你一个数列, 但其中缺少一项, 要求你仔细观察数列的规律。然后从四个供选择的选项中选出你认为最合理的一项, 来填补空缺项。

请开始答题:

26. 343, 453, 563, ()

A. 673 B. 683 C. 773 D. 783

【答案】A。

【考点】特殊差级

【解析】这是一组机械分组数列, 每一项的百位和十位构成新的数列为 34, 45, 56, (), 是一组公差为 11 的等差数列, 则下一项当为 67, 而个位数为常数数列, 常数为 3, 所以原数列中的下一项当为 673, A 项为正确答案。

27. 2, 10, 6, () 3, 15。

A. 5 B. 4 C. 2 D. 0

【答案】A。

【考点】其他新题型

【解析】这组数列是对称数列的变式, 即 $2 \times 15 = 30$, $10 \times 3 = 30$, $6 \times (5) = 30$, 所以 A 项为正确答案。

28. 2, 3, 5, 10, 20, ()

A. 30 B. 35 C. 40 D. 45

【答案】C。

【考点】和递推

【解析】这是一组递推和数列, 从第三项起, 每一项为其前面所有项的和, 即 $5 = 2 + 3$, $10 = 2 + 3 + 5$, $20 = 2 + 3 + 5 + 10$, $() = 2 + 3 + 5 + 10 + 20 = 40$, 所以 C 项为正确答案。

29. 21, 23, 26, 31, 38, (), 62。



- A. 47 B. 49 C. 51 D. 53

【答案】B。

【考点】特殊差级

【解析】这组数列做一次差运算, 可得新数列为 2, 3, 5, 7, (), (), 是一组质数数列, 可知下两项当为 11 和 13, $38+11=49$, $49+13=62$, 所以 B 项为正确答案。

30. 1, 2, 2, 4, 4, 6, 8, 8, ()

- A. 12 B. 14 C. 10 D. 16

【答案】D。

【考点】奇偶数列

【解析】这是一组奇偶项数列, 奇数项为 1, 2, 4, 8, (), 是一组公比为 2 的等比数列。偶数项为 2, 4, 6, 8, 是一组公差为 2 的等差数列, 所以 D 项为正确答案。

31. 1, 2, 9, 121, ()

- A. 210 B. 16900 C. 289 D. 25600

【答案】B。

【考点】方递推

【解析】这组数列的规律是: $(1+2)^2=9$, $(2+9)^2=121$, 故下一项当为 $(9+121)^2=16900$, 所以 B 项为正确答案。

32. 16, 29, 55, (), 211。

- A. 101 B. 109 C. 126 D. 107

【答案】D。

【考点】二级等比

【解析】这道题先做一次差运算后可知是一组公比为 2 的等比数列, 即 13, 26, 26×2 , 26×4 , 倒回去可算出括号内为 107, 所以 D 项为正确答案。

33. 4, 5, (), 14, 23, 37。

- A. 6 B. 7 C. 8 D. 9

【答案】D。



【考点】和递推

【解析】这是一组递推和数列, $4+5=9$, $5+9=14$, $14+23=37$, 所以 D 项为正确答案。

34. 8, 12, (), 34, 50, 68。

A. 16 B. 20 C. 21 D. 28

【答案】C。

【考点】三级等差

【解析】先进行一次差运算, 为 4, (9), (13), 16, 18, 再进行一次差运算, 可得 (5), (4), (3), 2, 是一组公差为-1 的等差数列, 倒算回去, 可知 C 为正确答案。

35. 34, 36, 35, 35, (), 34, 37, ()

A. 36, 33 B. 33, 36 C. 34, 37 D. 37, 34

【答案】A。

【考点】交叉数列

【解析】这是一组奇偶项数列。奇数项数列为: 34, 35, (), 37, 是公差为 1 的等差数列。偶数项数列为 36, 35, 34, (), 是公差为-1 的等差数列。所以答案为 A 项。

二、数学运算: 共 10 题。要求你在四个选项中。选出你认为正确的一项。

请开始答题:

36. 3 条直线最多能将平面分成几部分? ()

A. 4 部分 B. 6 部分 C. 7 部分 D. 8 部分

【答案】C。

【考点】分步计算型

【解析】两条直线交叉, 第三条直线在除两条直线交点之外, 与两条线都交叉, 可以将平面共分成 7 个部分, 所以答案为 C 项。

37. 从 4 点到 5 点, 时针与分针成直角的机会会有几次? ()

A. 1 次 B. 2 次 C. 3 次 D. 4 次

【答案】B。

【考点】表盘计算



【解析】一次是四点五分, 第二次是四点三十五分, 只有这两次, 所以答案为 B 项。

38. 商场为了促销, 将原价 75 元的商品, 先提价 40%, 再打 8 折, 该商品实际售价是多少元? ()

- A. 80 B. 72 C. 78 D. 84

【答案】D。

【考点】利润率折扣类

【解析】列出算式为 $75 \times (1+40\%) \times 80\% = 84$ 元, 所以答案为 D 项。

39. 一个植树小组植树, 如果每人栽 6 棵, 还剩 14 棵; 如果每人栽 7 棵, 就缺 4 棵。这个植树小组一共要栽多少棵树? ()

- A. 19 B. 59 C. 18 D. 122

【答案】D。

【考点】植树问题

【解析】解法一: 代入排除法、整除特性。根据每人栽 7 棵还缺 4 棵可知, 所植棵树加上 4 应为 7 的倍数, 可排除 A、C; 根据每人栽 6 棵还剩 14 棵可知, 所植棵树减去 14 应为 6 的倍数, 排除 B。因此, 本题答案为 D 选项。

解法二: 方程法。设本小组共有 X 人植树, 依据题意列出方程 $6X+14=7X-4$, 解得 $X=18$ 。则所植棵树为 $6X+14=108+14=122$ 棵。因此, 本题答案为 D 选项。

40. 某校八年级学生数学竞赛共有 20 道题目, 每答对一道得 5 分, 不答或答错扣一分, 80 分以上至少要答对的题目数是多少? ()

- A. 15 道 B. 16 道 C. 17 道 D. 18 道

【答案】C。

【考点】一元不等式

【解析】由题目可知, 如果不考虑扣分, 要拿到 80 分, 则必须答对 16 道题, 而因为不答或答错扣一分, 所以四题扣四分为 76 分, 为保证 80 分以上, 至少要答对 17 道题, 所以答案为 C 项。

41. 小明步行 45 分钟可从甲地到乙地, 小华开车 15 分钟能从乙地到甲地, 当两人在路上相遇时, 小明已经走了 30 分钟, 小华开车送小明返回甲地, 还需要多少分钟? ()

- A. 10 B. 15 C. 3 D. 5



【答案】 A。

【考点】 相遇追及问题

【解析】 小明走了 30 分钟, 即已走了 $\frac{2}{3}$, 而小华开车只需 10 分钟, 本题需要留意的是小明是返回甲地, 而不是继续向乙地前进。所以 A 项为正确答案。

42. 一船顺水而下, 速度是每小时 6 千米, 逆流而上每小时 4 千米。求往返两地相距 24 千米的码头间平均速度是多少? ()

- A. 5 B. 4.8 C. 4.5 D. 5.5

【答案】 B。

【考点】 流水行船问题

【解析】 顺流而行时, $24 \text{ 千米} / 6 \text{ 千米/小时} = 4 \text{ 小时}$, 逆流而行时, $24 \text{ 千米} / 4 \text{ 千米/小时} = 6 \text{ 小时}$, 共用了 10 小时, 平均速度为 $24 \times 2 / 10 = 4.8 \text{ 公里/小时}$, 所以答案为 B 项。

43. 把一个正方形的一边减少 20%, 另一边增加 2 米。得到一个长方形, 它与原正方形的面积相等, 那么, 正方形面积是多少平方米? ()

- A. 8 B. 10 C. 16 D. 64

【答案】 D。

【考点】 规则面积计算

【解析】 设正方形的边长为 a , 则正方形的面积为 $a^2 = (a+2) \times a \times (1-20\%)$, 解方程得 $a=8$, 则正方形的面积为 64, 所以 D 项为正确答案。

44. 一个小于 100 的整数与 5 的差是 4 的倍数, 与 5 的和是 7 的倍数, 这个数最大是多少? ()

- A. 85 B. 89 C. 97 D. 93

【答案】 D。

【考点】 直接代入类

【解析】 这道题可用试算法, 因为要找最大的数, 所以可从选项中从大往小试算, $97+5=102$, 无法被 7 整除, 排除 C 项。 $93+5=98$, 可以被 7 整除; $93-5=88$, 可以被 4 整除, 所以答案为 D 项。



45. 纽约时间是香港时间减 13 小时, 你与一位在香港的朋友约定香港时间 6 月 1 日晚上 8 时与他通电话, 那么在纽约你应几月几日几时给他打电话? ()

- A. 6 月 1 日上午 7 时
- B. 5 月 31 日上午 7 时
- C. 6 月 2 日上午 9 时
- D. 6 月 2 日上午 7 时

【答案】A。

【考点】日期推断类

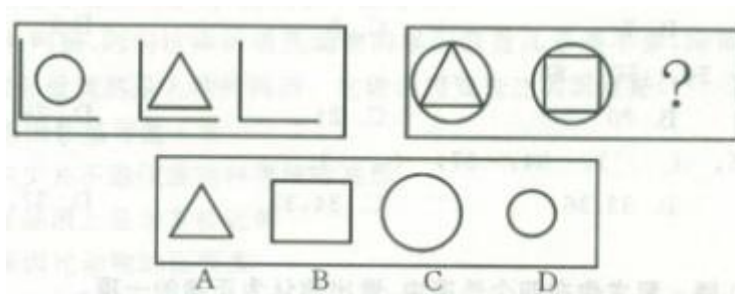
【解析】晚上 8 点即 20 点, 减 13 小时即为 7 点, 日期并没有变, 所以答案为 A 项。

第三部分 判断推理

一、图形推理: 共 10 题。请从所给的四个选项中最适合的一个。

请开始答题:

46.

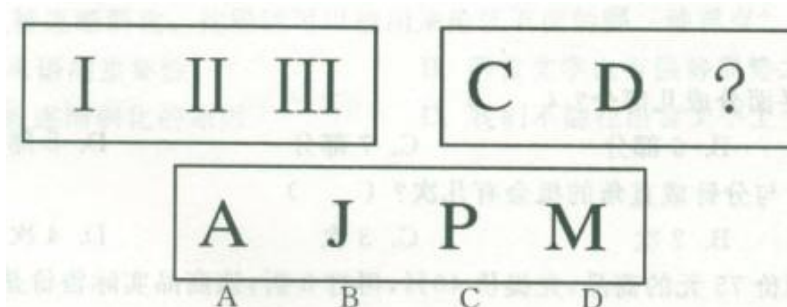


【答案】C。

【考点】运算

【解析】第一个图形为半框加圆, 第二个图形为半框加三角, 第三个图形为半框, 所以问号处应当填入的当为前两幅图形相同的部分, 即一个大圆。所以 C 项为正确答案。

47.



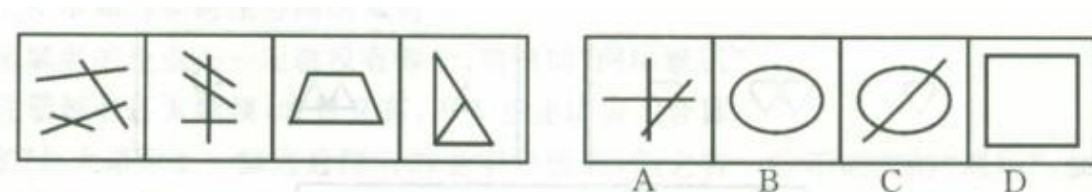


【答案】A。

【考点】笔画

【解析】这道题考查的是笔画数, 第一个图形为一画, 第二个图形为两画, 第三个图形为三画, 问号处也应符合这一规律, 为三画, 所以A项为正确答案。

48.




【答案】D。

【考点】线段

【解析】所提供的图形都是四笔画的, 所以接下去的图形也应当是四笔画的, 所以D项为正确答案。

49.



【答案】B。

【考点】运算

【解析】第一行中, 可以看出规律为: 实线+虚线=实线, 虚线+实线=实线, 虚线+虚线=虚线, 第二行验证了这一规律, 且实线+实线=虚线, 所以可知问号处的上中下线三条依次为:



虚线、实线、虚线, 所以 B 项为正确答案。

50.

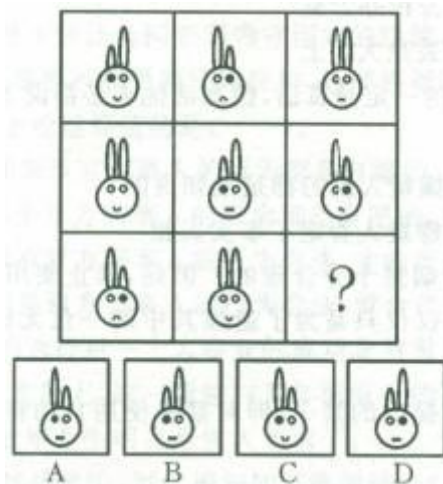


【答案】C。

【考点】笔画

【解析】这道题考查的是笔画数, 所提供的图形笔画数依次为: 4、5、6、7, 所以下一个图形当为 8 画, 所以 C 项为正确答案。

51.




【答案】B。

【考点】遍历

【解析】图形规律为: 每一行的兔子嘴都有一个向上弯, 一个向下弯, 一个平, 所以排除 C 项; 兔子眼睛都有一个双白, 一个左黑右白, 一个左白右黑, 所以排除 D 项。兔子耳朵都有一个双长, 一个左短右长, 一个左长右短, 所以排除 A 项, 所以答案为 B 项。

52.

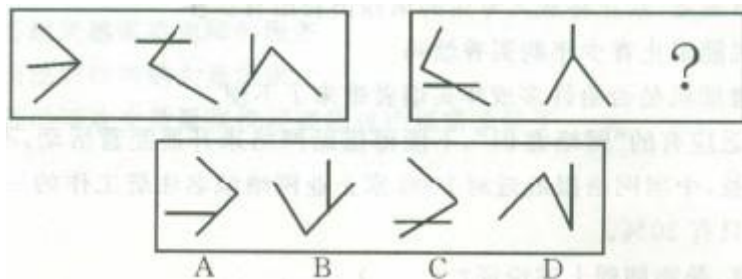


【答案】C。

【考点】素个数

【解析】规律为, 都有两部分组成, 一部分不变, 另一部分递减。第一行三角的数量依次为 5、3、1, 是一组公差为-2 的等差数列。第二行圆的数量依次为 3、2、1, 是一组公差为-1 的等差数列, 第三行小鸟的数量依次 6、3、?, 应当为一组公差为-3 的等差数列, 所以问号处小鸟的数量应当为 0, C 项为正确答案。

53.



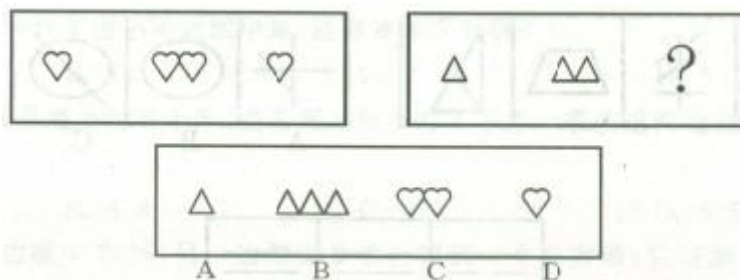
【答案】A。

【考点】平移

【解析】第一组图的规律为: 三个图形只有一个图形出现两边露头的交叉, 排除 C 项, 只有一个图形三条线段交于一点, 除去两边露头的交叉图形外, 另两个图形除去构成较大角的那两条线外, 另一条线在角内及角外各有一个图形, 无论那条线在何处与成较大角的两条线相交, 都不会在其中一条线段未成角的那个端点相交, 排除 D 项。三个图形的角的方向, 一是向左, 一是向右, 一是向下, 第二组图形中的方向已有了向右及向下, 故而问号处当向左, 所以 A 项为正确答案。



54.

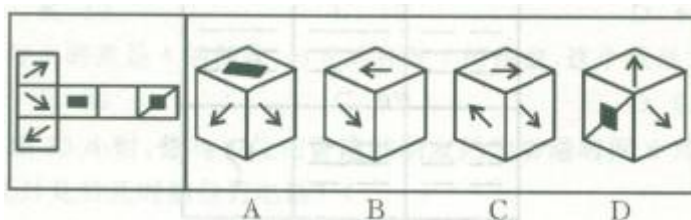


【答案】A。

【考点】运算

【解析】 本题考查的是元素的数量, 第一组图形中鸡心图案的数量为 1、2、1, 所以第二组图形三角的数量也应符合这一规律, 所以 A 项为正确答案。

55. 将下面左图进行折叠后, 得到的图形是:



【答案】D。

【考点】相邻关系

【解析】 A 项, 如果左面与右面成立, 则顶面的图案当为黑方加斜线。B 项, 如果左面与右面成立, 则顶面图案当为黑长方或黑方加斜线。C 项, 左右两面不可能同时成立。所以 D 项为正确答案。

二、演绎推理: 共 10 题。每题给出一段陈述, 这段陈述被假设是正确的, 不容置疑的。要求你根据这段陈述, 选出一个答案。注意: 正确的答案应与所给的陈述相符合, 不需要任何附加说明可以从陈述中直接推出。

请开始答题:

56. 若钥匙不是在宿舍里丢失的, 那就一定是在办公室或走廊上或大街上丢失的, 又因为开宿舍时用它锁的门, 假如在办公室或走廊上丢失, 就会有失物招领告示, 现没有看见告示, 可见 ()

A. 钥匙丢在宿舍里

B. 钥匙丢在办公室



C. 钥匙丢在走廊上

D. 钥匙丢在大街上

【答案】D。

【考点】充分条件

【解析】因为开宿舍时用钥匙锁的门,所以必然钥匙没有丢在宿舍里;因为没看见告示,则必然不是在办公室或走廊丢失的,所以是在大街上丢的,D项为正确答案。

57. 一次提审之后,办案员甲对乙说:“我相信犯罪嫌疑人说的一定是真话,但真话他未必都说了。”甲的意思不包括()

A. 犯罪嫌疑人没有把他知道的全说出来

B. 犯罪嫌疑人说的都是他知道的

C. 犯罪嫌疑人隐瞒了事实真相

D. 犯罪嫌疑人否定了事实真相

【答案】D。

【考点】其他逻辑

【解析】这道题要求选出“不包括”的一项,甲相信犯罪嫌疑人说的一定是真话,但真话他未必都说了,说明犯罪嫌疑人说了事实真相的一部分,则犯罪嫌疑人并没有否定事实真相,所以D项为正确答案。

58. 真正高明的伪造家制造的钞票从不会被发现,所以一旦他的作品被认出是伪造的,则伪造者不是位高明的伪造者,真正的伪造家从不会被抓到。

下列推理方式与这段话类似的是()

A. 小张是一个玩魔术的专家,他的魔术总能掩人耳目,从未被揭穿,所以他是一个高明的魔术师

B. 小张是一个玩魔术的人,他的魔术一般不会被揭穿,偶尔有一两次被人看穿,但这不妨碍他是一名优秀的魔术师

C. 小张是一个玩魔术的人,他的魔术一般不会被揭穿,偶尔有一两次被人看穿,说明他并不是一个高明的魔术师,因为高明的魔术师不会被人看穿

D. 小张的魔术很好,从不会被揭穿,所以他是个优秀的魔术师

【答案】C。

【考点】结构比较

【解析】本题为结构比较题,考察的是充分条件和逆否等价命题。题干的推理过程是:高明的伪造家不会被发现伪造,一旦被发现了伪造,即证明该伪造者不是高明的伪造家。即



根据逆否等价命题进行推理。C 项过程类似: 高明的魔法师不会被人看穿, 一旦被看穿的话, 就说明不是高明的魔法师。答案为 C。

59. 因为青少年不应当吸烟, 所以提案禁止向青少年出售香烟是十分合理的。但是, 禁止使用自动售烟机, 就如同在交通要道上设置路障, 堵住 100 位驾驶员, 仅仅只是为了逮捕其中的一位无证驾驶者, 路障阻碍的不仅仅只是那些违法的人, 而是所有的人。

下列哪一个问题的答案, 能够帮助我们正确评价以上所提出的禁令, 即对禁止使用自动售烟机所提出的反对意见? ()

- A. 自动售烟机比其他自动售货机更容易出错吗
- B. 目前是否有法律规定, 禁止将成人专用的东西出售给青少年
- C. 提高香烟销售税能阻止青少年购买香烟吗
- D. 禁止设置自动售烟机是否给许多成年买烟者带来了不便

【答案】 D。

【考点】 单观点

【解析】 文段中的举例表明设置路障给未违法者带来不便, 与 D 项意思表示一致, 所以 D 项为正确答案。

60. 我国许多企业都缺乏应有的“网络意识”, 不懂得借助网络来开展经营活动, 不懂得通过注册域名来保护自己的合法权益, 中国网络报最近对 1000 家企业网络域名注册工作的一次调查表明, 已经注册了域名的企业仅仅只有 30%。

以下哪项, 如果为真, 最能削弱上述论证? ()

- A. 全国有许多未被调查的企业注册域名
- B. 一些企业不知道如何注册网络域名
- C. 不注册域名的企业不一定就没有健全、敏锐的“网络意识”
- D. 目前注册域名还太麻烦, 收费又高, 不少企业认为不合算

【答案】 A。

【考点】 单观点

【解析】 本题要求选出最能“削弱”上述论证的一项。中国网络报对 1000 家企业进行调查的数据只能表明这 1000 家企业网络域名注册的工作情况, 不具有代表性, 如果有许多未被调查的企业已注册了域名, 则非常有力的削弱了这一论证。所以 A 项为正确答案。



61. “草原酒家”是大草原上一家远近闻名的老字号饭店,但它有一些不成文的“规矩”,如果“草原酒家”在某一天既卖红焖羊肉,又卖羊杂碎汤,那么它也一定卖烤全羊;该饭店星期天从不卖烤全羊;……人们都熟悉这些“规矩”,也习以为常。此外,我们还知道,只有当卖红焖羊肉时,王老板才去“草原酒家”吃饭。

如果上述断定是真的,那么以下哪项也一定是真的? ()

- A. 星期天王老板不会去“草原酒家”吃饭
- B. 如果“草原酒家”在星期天卖红焖羊肉,那么这天它一定不卖羊杂碎汤
- C. “草原酒家”在星期天不卖羊杂碎汤
- D. “草原酒家”只有星期天不卖红焖羊肉

【答案】B。

【考点】充分条件

【解析】由文段可知,饭店星期天不卖烤全羊,而红焖羊肉与羊杂碎汤同卖时,必同卖烤全羊,所以可知红焖羊肉与羊杂碎汤在星期天必有一样是不卖的,但无法确定是哪一样,所以王老板在星期天不一定会去“草原酒家”吃饭,只有B项符合这一推断,所以为正确答案。

62. 药检局对于五种消炎药进行药效比较,结果如下:甲与乙药效相同;丙比甲有效;丁副作用最大;戊药效最差。因此()。

- A. 丙最有效
- B. 丁比戊药效好
- C. 甲比戊副作用大
- D. 甲和乙副作用相同

【答案】B。

【考点】其他逻辑

【解析】文段提出两个比较项,为药效和副作用。而所给比较结果不全面,缺乏丁的药效情况、除丁外其他四种药的副作用情况。通过戊药效最差可推出丁比戊药效好,但无法推出丙的药效是否最好,也无法推出C、D两项。所以B项为正确答案。

63. 韩国人爱吃酸菜,罗艺爱吃酸菜,所以,罗艺是韩国人。

能证明上述推理荒谬的是 ()

- A. 所有的阿肯特的人都说谎,汤姆是阿肯特人,所以汤姆说谎



- B. 会走路的动物都有腿, 所以, 桌子是会走路的
- C. 雪村爱翠花, 翠花爱吃酸菜, 所以, 雪村爱吃酸菜
- D. 所有的金子都闪光, 所以, 有些闪亮的是金子

【答案】B。

【考点】其他逻辑

【解析】文段中由韩国人爱吃酸菜, 罗艺爱吃酸菜, 推出罗艺是韩国人, 荒谬之处在于未考虑到除韩国人外还有其他国家的人爱吃酸菜。B项不考虑除动物外还有其他物体也有腿, 犯了和文段一样的错误, 可以证明文段的荒谬。所以答案为B项。

64. 签订技术转让合同必须遵守国家的法律, 符合国家政策的要求, 否则, 即使是当事人双方自愿签订的合同, 非但不能受到法律保护, 还要根据情况依法追究法律责任。

与以上论述等值的是 ()

- A. 如果双方当事人的行为都是自愿的, 就会受到法律的保护
- B. 如果双方当事人的行为都是自愿的, 就要承担法律责任
- C. 只有双方当事人的行为合法, 才能产生预期的法律后果, 受到法律的保护
- D. 如果双方当事人的行为合法, 就会产生预期的法律后果, 受到法律的保护

【答案】C。

【考点】必要条件

【解析】文段中表明, 在合法的前提下, 双方自愿签订的合同才会受到法律保护, 所以没有合法这一前提, 双方签订的合同不受法律保护, 但也不一定需要承担法律责任。而合法是必要条件, 所以答案为C项。

65. 专业的选择对一个人事业的成功非常重要。近年来, 很多人认为“学计算机编程一定会有光明的前程”。实际上, 这一看法与几年前流行的下述观点类似: “学法律最有可能取得事业成功。”而现在法律专业毕业生明显是供大于求了。

从上述信息中, 可以推知如下哪项结论? ()

- A. 由于在工作中将越来越多地使用计算机, 法律专业毕业生也要学习计算机编程
- B. 计算机程序员将越来越需要律师的服务
- C. 市场上很快会出现对律师的大量需求
- D. 学习计算机编程的毕业生数量很快就要超过市场需求量了



【答案】D。

【考点】其他逻辑

【解析】文段中表明几年前认为学法律最可能取得事业成功, 如今法律专业毕业生已是供大于求, 而现在认为学计算机编程会有光明的前景, 很容易推出, 过几年计算机编程专业毕业生将会供大于求, 所以 D 项为正确答案。

三、定义判断: 共 10 题。每道题先给出一个概念的定义, 然后分别给出四种情况, 要求你严格依据定义, 其中选出一个最符合或最不符合该定义的答案。注意: 假定这个定义是正确的, 不容置疑的。

请开始答题:

66. 转移收支: 指因社会义务而发生的收支, 如财政补贴等。它在很大程度上就有按需分配的因素。

根据以上定义, 下列叙述不是转移收支的是 ()

- A. 为一位因抓捕毒贩而牺牲的警察的家属发放抚恤金
- B. 一位退休在家的老人从儿子那每月拿到一定的生活费
- C. 在冰冻灾害中, 好心人士向灾区人民捐助的物资
- D. 一位被歹徒打伤的受害者向歹徒求取的赔偿

【答案】D。

【考点】社会学类

【解析】这道题要求选出“不是”转移收支的一项, D 项中受害者向歹徒求取的赔偿不属于因社会义务而发生的收支, 所以为正确答案。

67. 差别定价: 指企业根据市场的不同、顾客的不同而对企业生产的同一种产品采取不同的定价销售。

下列不属于差别定价的是 ()

- A. 旅游景点老年人票 2 折, 儿童票 3 折, 学生票 5 折, 一般顾客全票
- B. 某酒厂生产的 52° 白酒, 批发价每瓶 102 元, 零售价每瓶 128 元
- C. 电力公司对居民用电实行分时计价, 6: 00 到 12: 00 每度 0.9 元, 12: 00 到 24: 00 每度 1.5 元, 0: 00 到 6: 00 每度 0.3 元
- D. 某品牌手机内存 8GB 的售价 4888 元, 16GB 的 5388 元, 32GB 的 6288 元



【答案】C。

【考点】经济学类

【解析】绝对公平的收入分配制度会使资源配置不符合最优原则, 在分配和调用资源过程中会造成浪费, 所以不利于资源使用效率的提升, C 项为正确答案。

68. 居民消费是指直接为居民个人消费的物质和劳务产品价值总值。包括个人生活中的食品、衣着等物质性消费, 也包括各种劳务性消费。

根据以上定义, 下列属于居民消费的是 ()

- A. 企业购买的原材料
- B. 政府购买图书仪器
- C. 家庭购买的文教用品
- D. 学校购买的文教用品

【答案】C。

【考点】经济学类

【解析】定义中指出是居民“个人”进行的消费, 所以不包括企业、政府、学校这类团体或组织进行的消费行为, 所以 C 项为正确答案。

69. 机构单位是能够拥有资源、承担负债, 从事经济活动并与其他单位进行经济交易的实体。

根据以上定义, 下列属于机构单位的是 ()

- A. 某企业的下属工厂
- B. 由某高校所有的学生食堂
- C. 北京协和医院管理的某科室
- D. 长沙市黄花机场

【答案】D。

【考点】其他定义

【解析】A 项企业的下属工厂不会单独承担负债, 排除。B 项学生食堂不会单独承担负债, C 项科室不会与其他单位进行经济交易, 也不会承担负债, 所以只有 D 项黄花机场为机构单位。

70. 典型调查是指只收集典型单位资料的调查方法。典型单位指在被分析研究的现象方面具有突出特征的单位, 可以是具极端标志的单位; 也可以是最一般的单位即普通单位的代表, 通过典型调查可以研究总体发展的一般情况和特点。

下列选项中, 属于典型调查的是 ()



- A. 在某单位工作业绩经验总结调查中, 有意识地选择销售业绩第一名和销售业绩最后一名的人员进行调查
- B. 在某校在校生每月生活费用支出调查中, 随机选择 100 名在校生进行问卷调查
- C. 在某市工业企业生产情况调查中, 选择少数经营业绩好, 企业利润占全部工业企业可比重较大的 8 个大型企业进行调查
- D. 在某市工业生产设备情况调查中, 对全部工业企业的每一台生产设备进行调查

【答案】C。

【考点】管理学类

【解析】D 项不具有典型性, 对每一台生产设备进行调查。A、B 两项针对的是个人, 而不是单位, 所以 C 项为正确答案。

71. 季节变化是指社会经济现象随着一年的季节发生改变而呈现有规律的变动。

根据以上定义, 下列属于季节变动的是 ()

- A. 夏季用电最高于其他季节
- B. 冰冻灾害后第二年一般发洪水
- C. 瑞雪兆丰年
- D. CPI 指数持续上涨

【答案】A。

【考点】经济学类

【解析】B、C 项是自然现象, 不是社会经济现象。D 项与季节变化无关。只有 A 项符合定义, 为正确答案。

72. 直接调控是指政府利用手中掌握的资源, 用行政办法对经济运行进行直接的调节和控制, 以达到政府意愿目标。

下列选项中, 不属于直接调控方式的是 ()

- A. 商品房价的市场供求规律自发调节
- B. 银行贷款实行额度控制
- C. 住房分配采取行政配给
- D. 超缺物资实行定量供应

【答案】A。

【考点】经济学类

【解析】本题要求选出“不属于”直接调控方式的一项, 商品房价按市场供求规律自发调节, 政府未进行调节和控制, 故而不属于直接调控, 为正确答案。



73. 组织职业生涯管理: 指由组织实施的、旨在开发员工潜力并使员工实现自我价值的一系列管理方法。

下列不属于组织职业生涯管理的是: ()

- A. 小赵到某公司一年后, 被公司委派去欧洲考察
- B. 矿工小王上班的第一天就被主管领导安排下井锻炼
- C. 某企业对处于职业中期的员工采用轮换岗位方式让其保持对职业的新鲜感
- D. 办公室的小蔡要求调到市场部, 负责组织一个市场调研项目

【答案】D。

【考点】管理学类

【解析】组织职业生涯管理的关键点有两个: (1) 组织实施的; (2) 目的是开发员工潜力并使其实现自我价值。A、B、C 选项均符合以上的要点, 都是组织职业生涯管理。在 D 选项中, 小蔡调到市场部是自己要求的, 并不是组织实施的, 明显不符合要点 (1), 所以 D 选项不符合组织职业生涯管理的定义。本题是要求选不属于的, 因此, 本题答案为 D 选项。

74. 其他存款性公司是指除中央银行以外的所有存款性公司, 主要进行吸收存款、发放贷款和创造存款等活动, 我国称之为存款货币银行。

下列选项中, 不属于其他存款性公司的是 ()

- A. 城市商业银行
- B. 保险公司
- C. 邮政储汇局
- D. 城市信用社

【答案】B。

【考点】经济学类

【解析】保险公司的主要活动不包括创造存款、发放贷款, 虽然客观上也起到了吸收存款的作用, 所以 B 为正确答案。

75. 最终产品是指在一定时期内生产的并由其最后使用者购买的产品和劳务。最终产品用于最终使用。和用于再出售而供生产某种产品用的中间产品不同。

下列选项中, 有关最终产品说法正确的是 ()

- A. 某项绿色工程, 其中间产品是所栽种的树木, 而最终产品则是改善后的环境质量
- B. 面粉厂生产的面粉捐给冰冻灾害严重的灾区人民, 这里的面粉是最终产品
- C. 面包店生产的面包卖给居民, 这里的面包是最终产品



D. 以上均正确

【答案】C。

【考点】经济学类

【解析】这一定义指明由最后使用者“购买”并且使用的产品和劳务, 而非再次出售。A 项改善后的环境质量既非产品, 亦非劳务, 排除。B 项是捐献出去的, 而不是销售出去的, 所以只有 C 项正确。

四、类比推理: 共 10 题。先给出一组或多组相关的词, 要求你在备选答案中找出一组与之在逻辑关系上最为贴近、类似或匹配的词。

请开始答题:

76. 狐狸: 狡猾

A. 忠诚: 狗

B. 母鸡: 鸡蛋

C. 牛: 勤劳

D. 乌鸦: 凶兆

【答案】C。

【考点】属性关系

【解析】第一个词是动物, 第二个词是描述这个动物的性格, 只有 C 项符合。

77. 初级中学: 初中

A. 幼儿园: 幼稚园

B. 彩电: 彩色电视

C. 公共关系: 公关

D. 罗曼蒂克: 浪漫

【答案】C。

【考点】对应关系

【解析】第一个词是全称, 第二个词是缩略以后的简称, 只有 C 项符合。

78. () 对于 曹植 相当于 “儿童相见不相识, 笑问客从何处来” 对于 ()

A. “野旷天低树, 江清月近人” ——李白

B. “本是同根生, 相煎何太急” ——贺知章

C. “野旷天低树, 江清月近人” ——孟浩然

D. “空山不见人, 但闻人语响” ——白居易

【答案】B。

【考点】其他类比



【解析】“本是同根生, 相煎何太急”是曹植《七步诗》中的诗句; “儿童相见不相识, 笑问客从何处来”是贺知章《回乡偶书》中的诗句。所以B项为正确答案。

79. 菡萏: 荷花

A. 糖果: 果冻

B. 芙蓉: 水芙蓉

C. 番茄: 土豆

D. 蚍蜉: 大蚂蚁

【答案】D。

【考点】同一关系

【解析】第一个词是古式书面语, 第二个词是俗称, 只有D项符合。

80. () 对于 火车 相当于 手 对于 ()

A. 车厢——身体

B. 铁轨——手臂

C. 汽车——手指

D. 列车员——操作员

【答案】A。

【考点】包含关系

【解析】车厢是火车的一部分, 手是身体的一部分, A项为正确答案。

81. () 对于 司汤达 相当于 巴黎圣母院 对于 ()

A. 《人间喜剧》——巴尔扎克

B. 《红与黑》——雨果

C. 《安娜·卡列尼娜》——大仲马

D. 《战争与和平》——马克·吐温

【答案】B。

【考点】其他类比

【解析】《红与黑》是司汤达的作品, 《巴黎圣母院》是雨果的作品, 答案为B项。

82. () 对于 卵 相当于 鸟 对于 ()

A. 鱼——蛋

B. 胚胎——羽毛

C. 爬行动物——哺乳动物

D. 种子——幼仔

【答案】A。



【答案】 A。

【考点】 中国传统文化

【解析】 司马迁在《报任安书》里提到, 他所述太史公书的目的是“欲以究天人之际, 通古今之变”。正确答案为 A 项。

87. 下列对选举中的平等原则的理解错误的是 ()

A. 男女平等

B. 一人一次一票

C. 票的效力相等

D. 地区平等

【答案】 D。

【考点】 宪法

【解析】 我国平等选举原则的主要含义指: 社会公民公平地享有选举权和被选举权, 一人一票, 同一次选举中每一选民只有一张选票, 每张选票的效力相等, 但农村每一代表所代表的人口数四倍于城市每一代表所代表的人口数, 地区间是存在差异的, 所以 D 项为正确答案。

88. 行政机关委托的组织行使委托的行政权力侵犯公民、法人合法权益造成损害的, () 为赔偿义务机关。

A. 行政机关

B. 受委托的组织

C. 具体工作人员

D. 组织负责人

【答案】 A。

【考点】 行政法

【解析】 《国家赔偿法》规定, 受行政机关委托的组织或者个人在先例受委托的行政权力时侵犯公民、法人和其他组织的合法权益造成损害的, 委托的行政机关为赔偿义务机关, A 项为正确答案。

89. 国家行政权力的载体是 ()

A. 全国人民代表大会

B. 政府机构

C. 各级党委

D. 审判机关、检察机关以及军事机关

【答案】 D。

【考点】 宪法



【解析】政府行政机构是国家行政权力的载体, 它依照法律规定的权限, 有权管辖其行政区域内的各项建设事业和行政工作。所以 D 项为正确答案。

90. 我们党在长期执政条件下, 保持先进性和增强创造力的决定性因素是 ()

- A. 着重从思想上建党
- B. 坚持批评与自我批评
- C. 坚持解放思想、实事求是的思想路线, 弘扬与时俱进的精神
- D. 真正做到“三个代表”

【答案】C。

【考点】中国特色社会主义理论体系

【解析】江泽民同志明确指出, 贯彻“三个代表”要求, 关键在坚持与时俱进, 并强调, 坚持解放思想、实事求是的思想路线, 弘扬与时俱进的精神, 是党在长期执政条件下保持先进性和创造力的决定性因素。所以答案为 C 项。

91. 《____处分条例》2007 年 6 月 1 日起正式施行, 这预示着我国公职人员纪律处分规范正日趋完善, 治贪治庸的惩罚体系正日趋健全。

- A. 行政机关公务员
- B. 行政事业机关公务员
- C. 事业机关公务员
- D. 行政企事机关公务员

【答案】A。

【考点】时政

【解析】国务院总理温家宝签署第 495 号国务院令, 公布了《行政机关公务员处分条例》, 这部条例于 2007 年 6 月 1 日起正式施行。所以答案为 A 项。

92. 合同生效后, 当事人就质量要求不明确又不能达成补充协议的, 应按照国家标准履行; 没有国家标准、行业标准的。应按照 () 履行。

- A. 地区标准
- B. 企业标准
- C. 通常标准或者符合合同目的的特定标准
- D. 所有者标准

【答案】C。

【考点】民法

【解析】《合同法》第 61 条规定: 当事人就合同有质量要求不明确的, 按照国家标准、



行业标准履行; 没有国家标准、行业标准的, 按照通常标准或者符合合同目的的特定标准履行。所以 C 项为正确答案。

93. 邓小平坚持马克思主义的思想路线, 把“解放思想”和“实事求是”联系起来表述, 更鲜明地体现了马克思主义思想体系的开放性, 体现了它的 () 的统一性。

- A. 科学性、理论性和实践性
- B. 科学性、理论性和革命性
- C. 理论性、实践性和革命性
- D. 实践性、科学性和革命性

【答案】 D。

【考点】 中国特色社会主义理论体系

【解析】 邓小平理论坚持解放思想、实事求是, 在新的实践基础上继承前人又突破陈规, 开拓了马克思主义的新境界。邓小平理论与马列主义、毛泽东思想是一脉相承的科学体系, 具有相同的本质, 即实践性、科学性和革命性。故选 D。

94. 1954 年 9 月, 第一届全国人民代表大会第一次会议在北京召开, 标志着 () 在范围内系统地建立起来。

- A. 社会主义社会制度
- B. 人民代表大会制度
- C. 政治协商制度
- D. 中国民主宪政制度

【答案】 B。

【考点】 宪法

【解析】 1954 年 9 月 15 日, 1211 名全国人大代表走进中南海怀仁堂。第一届全国人民代表大会第一次会议在这里召开, 标志着我国以人民代表大会制度为根本的政治制度得到全面确立。所以答案为 B 项。

95. 我国的地势是 ()

- A. 东高西低
- B. 南高北低
- C. 西北走
- D. 西高东低

【答案】 D。

【考点】 地理国情

【解析】 我国地势呈西高东低走势, 西南青藏高原平均海拔在 4000 米以上, 东部沿海地区平均海拔 500 米以下, 所以 D 项为正确答案。



96. AB 血型的男性和 AB 血型的女性结婚, 不可能出现哪种血型的孩子? ()

- A. A 型 B. B 型 C. AB 型 D. O 型

【答案】D。

【考点】 生物医学

【解析】 父母的血型均为 AB 型, 子女的血型可能为 A 型、B 型或是 AB 型, 但不可能是 O 型, 所以答案为 D 项。

97. 科学管理的中心问题是 ()

- A. 提高企业盈利率 B. 提高管理水平
C. 提高人的积极性 D. 提高劳动生产率

【答案】D。

【考点】 管理

【解析】 死后被誉为“科学管理之父”的弗雷德里克·温斯洛·泰勒在他的科学管理论中表明, 他认为科学管理的中心问题是提高劳动生产率。所以答案为 D 项。

98. “种地选好种, 一垄顶两垄”, 这句农业谚语说明的生物现象是 ()

- A. 适者生存 B. 变异 C. 遗传 D. 生殖

【答案】A。

【考点】 生物医学

【解析】 达尔文认为, 在生存斗争中, 具有有利变异的个体, 容易在生存斗争中获胜而生存下去。反之, 具有不利变异的个体, 则容易在生存斗争中失败而死亡。种地选好种体现出对于具有有利变异的个体的倾向性选择, 而避免具有不利变异个体的选择, 从而导致“一垄顶两垄”的结果, 所以答案为 A 项。

99. () 是划分阶级的依据。

- A. 人数 B. 收入
C. 权利 D. 对生产资料的占有关系

【答案】D。

【考点】 马克思主义哲学

【解析】 划分阶级的依据就是对生产资料的占有关系, 所以答案为 D 项。



100. 地理环境对社会发展的作用主要通过 ()

- A. 对人的心理素质的影响才能实现
- B. 对人的生理结构的影响才能实现
- C. 对生产过程的影响才能实现
- D. 对民族气质的影响才能实现

【答案】 C。

【考点】 马克思主义哲学

【解析】 地理环境主要通过两条途径对社会的发展产生影响, 一是通过影响生产的发展, 直接间接地对社会发展产生影响; 二是通过对军事、政治的影响, 制约不同国家的社会发展。所以 C 项为正确答案。

101. 邓小平同志诞辰一百周年纪念大会上, 胡锦涛发表重要讲话。胡锦涛在讲话中深切缅怀了邓小平同志为民族独立、人民解放和国家富强、人民幸福建立的不朽功勋, 邓小平同志把毕生心血和精力都贡献给了党和人民的事业, 贡献给了中国人民, 赢得了全党、全国人民的衷心爱戴, 也赢得了各国人民的普遍尊敬, 这主要体现了 ()

- A. 个人价值是社会价值与自我价值的统一
- B. 个人对社会的贡献是社会存在和社会发展的基本保障
- C. 伟人的个人活动不受社会发展规律的制约
- D. 个人对社会的物质贡献比精神贡献更重要

【答案】 A。

【考点】 马克思主义哲学

【解析】 胡锦涛对邓小平同志的深切缅怀主要体现了个人价值是社会价值与自我价值的统一, B、C、D 三项无论是否是胡锦涛同志讲话中所体现出的, 这三句话本身就不正确。所以答案为 A 项。

102. 二氧化碳是不助燃的, 当我们把纯净的二氧化碳喷入火炉中, 火将 ()

- A. 越燃越旺
- B. 渐渐熄灭
- C. 窜得很高
- D. 很均匀地继续燃烧着

【答案】 B。

【考点】 生活常识

【解析】 二氧化碳不支持一般可燃物燃烧, 且密度比空气大, 可以附着在燃烧物上面阻隔氧气, 所以二氧化碳喷入火炉会使火渐渐熄灭。故选 B。



103. 《反不正当竞争法》中所说的商业秘密, 是指不为公众所知悉, 只为权利人带来经济利益, 具有实用性并经权利人 ()

- A. 采用的生产技术
- B. 采用的科学效果
- C. 采取保密措施的技术信息和经营信息
- D. 采取的经营方式

【答案】 C。

【考点】 经济法

【解析】 商业秘密可能是生产技术, 也可能是经营方式, 也可能是经营信息, 共同点是权利人都采取了保密措施才会使其成为商业“秘密”, 所以答案为 C 项。

104. 把物质理解为某种具体物质形态的观点属于 ()

- A. 庸俗实物主义的物质观
- B. 形而上学唯物主义的物质观
- C. 朴素唯物主义的物质观
- D. 辩证唯物主义的物质观

【答案】 C。

【考点】 马克思主义哲学

【解析】 古代朴素唯物主义, 否认世界是神创造的, 认为世界是物质的, 但把物质归结为具体的物质形态, 如水、火、土等, 所以 C 项为正确答案。

105. 18 世纪末资产阶级反封建革命斗争的著名纲领性文件, 并且以后成为法国宪法序言的是 ()

- A. 《自由大宪章》
- B. 《权利法案》
- C. 《人权宣言》
- D. 《独立宣言》

【答案】 C。

【考点】 经济法

【解析】 《人权宣言》是在法国大革命时期颁布的纲领性文件, 人权宣言以美国的《独立宣言》为蓝本, 采用 18 世纪的启蒙学说和自然权论, 宣布自由、财产、安全和反抗压迫是天赋不可剥夺的人权, 肯定了言论、信仰、著作和出版自由, 阐明了司法、行政、立法三权分立、法律面前人人平等、私有财产神圣不可侵犯等原则。故选 C。

106. 为适应市民社会的需要, 唐代兴起了 ()

- A. 神话小说
- B. 志怪小说
- C. 言情小说
- D. 传奇小说



【答案】D。

【考点】文学

【解析】中国小说在魏晋南北朝时期还处于萌芽阶段, 当时大量的记述神灵鬼怪的志怪小说, 少数记人事的小说如《世说新语》, 则多记上层人士的谈吐和轶事。这些小说, 大抵篇幅短小, 文笔简约, 缺少具体的描绘。到唐代传奇产生, 情况有了很大的改变。唐代传奇内容除部分记述神灵鬼怪外, 大量记载人间的各种世态, 人物有上层的, 也有下层的, 反映面较过去远为广阔, 生活气息也较为浓厚。唐传奇之繁荣源于唐朝较长一段时间内社会比较安定, 农业和工商业都得到发展, 像长安、洛阳、扬州、成都等一些大城市, 人口众多, 经济繁荣。为了适应广大市民和统治阶层文娱生活的需要, 在这类大城市中, 传奇小说应运而生。故选 D。

107. 《行政复议法》规定, 被申请人不依法提出书面答复、提交当初做出具体行政行为的证据、依据和其他有关材料的, ()

- A. 经两次催告仍不提交的, 视为没有证据、依据
- B. 责令被申请人限期补交
- C. 对被申请人予以训诫
- D. 视为没有证据、依据, 决定撤销该具体行政行为

【答案】D。

【考点】行政法

【解析】根据《行政复议法》第 28 条第四款规定, 被申请人不按规定提出书面答复、提交当初作出具体行政行为的证据、依据和其他有关材料的, 视为该具体行政行为没有证据、依据, 决定撤销该具体行政行为。所以 D 项为正确答案。

108. 太阳系中的小行星带位于 ()

- A. 火星轨道和木星轨道之间
- B. 木星轨道和土星轨道之间
- C. 地球轨道和火星轨道之间
- D. 火星轨道和金星轨道之间

【答案】A。

【考点】地理国情



【解析】小行星带是太阳系内介于火星和木星轨道之间的小行星密集区域, 由已经被编号的 120437 颗小行星统计得到, 98.5% 的小行星都在此处被发现。由于这是小行星最密集的区域, 估计为数多达 50 万颗, 这个区域因此被称为主带, 通常称为小行星带。故选 A

109. 台湾和大陆和平统一后, 台湾特别行政区可享受比香港、澳门特别行政区更高的自治权利, 主要体现在 ()

- A. 拥有行政管理权
- B. 可以保留自己的军队
- C. 拥有立法权、独立的司法权和终审权
- D. 可以实行单独的财政预算

【答案】C。

【考点】中国特色社会主义理论体系

【解析】统一后, 台湾将成为特别行政区。它不同于中国其他一般省区, 享有高度的自治权。它拥有在台湾的行政管理权、立法权、独立的司法权和终审权; 党、政、军、经、财等事宜都自行管理; 可以同外国签订商务、文化等协定, 享有一定的外事权; 有自己的军队, 大陆不派军队也不派行政人员驻台。特别行政区政府和台湾各界的代表人士还可以出任国家政权机构的领导职务, 参与全国事务的管理。而香港、澳门的外交、国防等事务由中央人民政府负责管理, 并专门规定香港、澳门法院对国防、外交等国家行为无管辖权。故选 B

110. “先天下之忧而忧, 后天下之乐而乐”, 这句名言所包含的哲理是 ()

- A. 个人价值融于社会价值中
- B. 人的自由是相对的
- C. 人的发展具有历史阶段性
- D. 社会发展要以人为本

【答案】A。

【考点】马克思主义哲学

【解析】先天下之忧而忧, 后天下之乐而乐。这句话的意思是在天下人都忧愁之前忧愁, 在天下人都开始享乐之后享乐。把个人的忧乐与天下人的忧乐系在一起, 把个人的价值融于社会价值之中, 所以 A 项为正确答案。

第五部分 资料分析

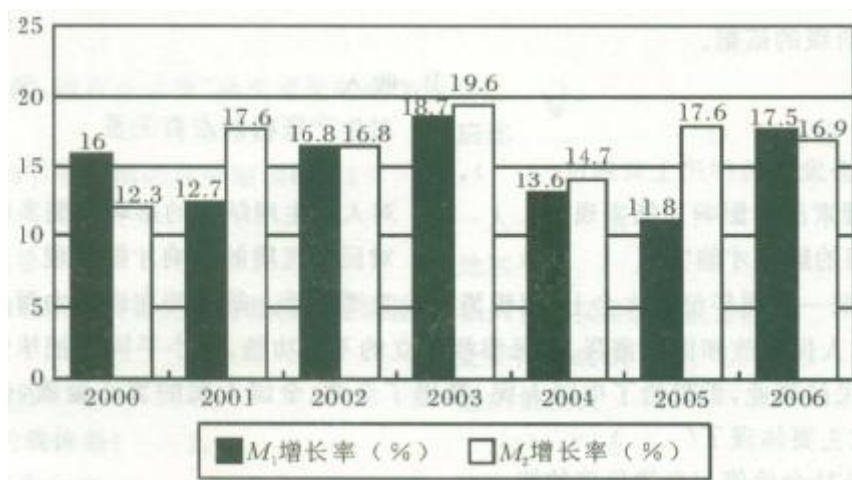


所给出的图、表或一段文字均有几个问题要你回答。你应根据资料提供的信息进行分析、比较、计算和判断处理。

请开始答题:

根据下面的图形, 回答 111—115 题。

下图为 2000—2006 年我国两种层次货币供应量 M_1 和 M_2 的增长率。根据此图回答下面的 111—115 题。(注: 该图中 M_1 和 M_2 的增长率都为百分数)



111. 在所有的年份中, 我国 M_2 的增长率最大的年份为 ()

- A. 2001 年
- B. 2002 年
- C. 2003 年
- D. 2004 年

【答案】C。

【考点】直接读数

【解析】由图中可知, M_2 增长率最大的年份为 2003 年, 其增长率为 19.6%。所以 C 项为正确答案。

112. 2005 年我国 M_1 的增长率为 ()

- A. 13.6%
- B. 11.8%
- C. 14.7%
- D. 17.6%

【答案】B。

【考点】直接读数

【解析】由图中可知, 2005 年 M_1 的增长率为 11.8%, 所以 B 项为正确答案。

113. 在所有的年份中, M_2 增长率相等的年份是 ()



- A. 2002、2006 年
B. 2003、2005 年
C. 2004、2007 年
D. 2001、2005 年

【答案】D。

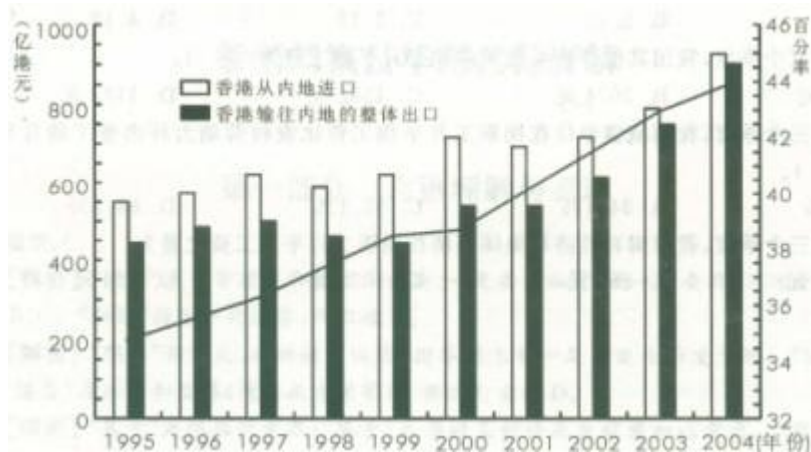
【考点】直接读数

【解析】仔细观察图中资料, 可知只有 2001 年和 2005 年, M_2 增长率同为 17.6%, 所以答案为 D 项。

114. 2002 年 M_1 的增长率为 2006 年 M_1 增长率的 () 倍。

- A. 0.96 倍
B. 1.04 倍
C. 0.99 倍
D. 1.05 倍

根据以下表格资料, 请回答 116—120 题。



【答案】A。

【考点】倍数计算

【解析】观察图中可知, 2002 年 M_1 的增长率为 16.8%, 2006 年 M_1 的增长为 17.5%, $16.8\%/17.5\% \approx 0.96$, 所以 A 项为正确答案。

115. 根据图表, 无法得出的结论是 ()

- A. 除了 2000 年、2006 年外, M_1 的增长率每年都低于 M_2 的增长率
B. M_2 在 2001 年增长率高于 M_1 增长率 5 个百分点
C. 2006 年, M_2 供应量超过了 M_1
D. M_1 、 M_2 两者增长率相差最大的年份是 2005 年

【答案】C。



119. 根据上图, 下列说法正确的是 ()
- A. 1995—2004 年, 香港与内地的进口值呈逐年递增的趋势
 - B. 2001—2004 年, 香港与内地的进口增长率高于出口增长率
 - C. 2000—2004 年, 香港与内地的进出口差额呈递减趋势
 - D. 上世纪 90 年代亚洲金融危机对香港与内地的进出口影响甚微

【答案】C。

【考点】综合分析

【解析】A 项, 在 1995 年—2004 年间, 1998 年和 2001 年是较上年下降的, 所以排除 A 项。B 项, 观察图可知, 2001 年进口数为 700, 出口数为 550; 2004 年进口数为 920, 出口数为 900, 则进口增长率为 $(920-700)/700=11/35<0.5$, 出口增长率为 $(900-550)/550=7/11>0.5$, 即进口增长率较出口增长率为低, 排除 B 项。C 项, 观察图可知, 自 2000 年—2004 年, 图中白格与黑格的长度差越来越小, 所以 C 项正确。D 项, 亚洲金融危机于 1997 年 6 月开始, 而 1998 年香港从内地进口较上年减少, 1999 年香港从内地进口开始回复, 但 1998、1999 年香港输往内地的整体出口均较上年下降, 显然香港受到了亚洲金融危机的影响较大, 所以排除 D 项。

120. 2003 年香港与内地进出口总额占香港同期进出口总额的比例与 1998 年相比 ()
- A. 多 5.5 个百分点
 - B. 多 10.75 个百分点
 - C. 多 1.75 个百分点
 - D. 少 2.5 个百分点

【答案】A。

【考点】简单计算

【解析】2003 年该占比约为 43%, 1998 年该占比约为 37.5%, $43%-37.5%=5.5%$, 所以 A 项为正确答案。

根据下列文字资料回答 121—125 题。

2007 年前三个季度, 城镇居民人均可支配收入为 10346 元, 扣除价格因素后实际增长 13.2%, 同比提高 3.2 个百分点。农村居民人均现金收入 3321 元, 扣除价格因素后实际增长 14.8%, 同比提高 3.4 个百分点。由此中国出现了比较罕见的城镇居民投入增长幅度低于农村居民收入增幅的现象。2007 年前三个季度, 全国城镇单位在岗职工月平均工资为 1853 元, 同比增长 18.8%, 其中, 国有经济单位职工月平均工资为 1980 元, 同比增长 20.8%, 集体



经济单位职工月平均工资 1111 元, 同比增长 18.0%, 其他经济类型单位职工月平均工资 1794 元, 同比增长 15.6%, 而农村劳动力外出务工的月平均工资为 1015 元, 同比增长 11.8%。由此可见, 农民工的收入增长远无低于城镇居民工资的平均水平。

121. 2006 年前三个季度, 我国农村居民人均现金收入为 ()

- A. 3212 元 B. 3414 元 C. 3450 元 D. 3300 元

【答案】A。

【考点】基期量计算

【解析】列出算式为 $3321 / (1+3.4\%) \approx 3212$ 元, 所以 A 项为正确答案。

122. 2007 年前三个季度, 我国城镇居民人均可支配收入比农村居民人均现金收入高 () 倍。

- A. 3.12 B. 2.12 C. 1.12 D. 4.12

【答案】B。

【考点】倍数计算

【解析】列出算式为 $(10346-3321) / 3321 \approx 2.12$ 倍, 所以答案为 B 项。

123. 2006 年前三个季度, 我国其他经济类型单位职工月平均工资为 ()

- A. 1452 元 B. 2074 元 C. 1552 元 D. 1172 元

【答案】C。

【考点】基期量计算

【解析】列出算式为 $1794 / (1+15.6\%) \approx 1551.9$, 所以 C 项为正确答案。

124. 2007 年前三个季度, 我国城镇单位在岗职工月平均工资比农村劳动力外出务工的月平均工资大约高出 ()

- A. 82.6% B. 84.1% C. 95.1% D. 88.2%

【答案】A。

【考点】倍数计算

【解析】列出算式为 $(1853-1015) / 1015 \approx 82.56\%$, 所以答案为 A 项。

125. 2006 年前三个季度, 我国国有经济和集体经济在岗职工月平均工资之差为 ()



A. 697.5 元

B. 869 元

C. 1039 元

D. 528 元

【答案】A。

【考点】基期量计算

【解析】列出算式为 $1980 / (1+20.8\%) - 1111 / (1+18.0\%) \approx 697.55$, 所以答案为 A 项。