



2008 年秋季福建公务员考试

《行政职业能力测验》真题



扫描二维码, 关注厚职公考官方公众号获取更多真题和资料
厚职公考网 (www.houzhiwang.com) 整理提供



2008 年福建公务员考试行测真题及答案解析 (秋季)

2008 年秋季福建公务员考试行测真题及答案 PDF 版下载(答案解析请下载 PDF 版查看)

第一部分 常识判断

(共 30 题, 参考时限 15 分钟)

根据题目要求, 在四个选项中选出一个正确答案。每题 0.5 分, 共 15 分。请开始答题:

1. 克隆技术属于生物技术中的 ()

- A. 细胞工程 B. 化学工程 C. 系统工程 D. 遗传工程

【答案】 A

【考点】 生物医学

【解析】 克隆技术属于生物技术中的细胞工程, 生物技术主要包括以下五项技术: 基因工程、细胞工程、酶工程、发酵工程、蛋白质工程。所以答案为 A 项。

2. 光年是 () 计量单位。

- A. 时间 B. 长度 C. 体积 D. 质量

【答案】 B

【考点】 物理

【解析】 光年是光一年所经过的距离, 所以光年是长度单位。答案为 B 项。

3. 以下园林建筑中, 不属于皇家园林的是 ()

- A. 承德避暑山庄 B. 颐和园 C. 圆明园 D. 拙政园

【答案】 D

【考点】 建筑

【解析】 承德避暑山庄、颐和园、圆明园均为皇家园林, 只有拙政园不是, 它是明代弘治进士、明嘉靖年间御史王献臣仕途失意归隐苏州后兴建的住处。所以答案为 D 项。

4. 被称之为“书圣”的我国著名书法家王羲之的代表作《兰亭序》的书体是 ()

- A. 隶书 B. 楷书 C. 行书 D. 草书

【答案】 C

【考点】 艺术

【解析】 王羲之是东晋伟大的书法家, 他的代表作《兰亭序》被书法界誉为“天下第一行书”, 所以答案为 C 项。

5. 下列选项中, 属于公务员应当具备的条件是 ()

- A. 具有身份证、军民证或护照
B. 年满 20 周岁, 且无犯罪记录
C. 男性身高: 170cm 以上, 女性身高 165cm 以上
D. 具有良好的品行

【答案】 D

【考点】 行政法

【解析】 《公务员法》第 11 条规定: 公务员应当具备下列条件: (一) 具有中华人民共和国国籍; (二) 年满十八周岁; (三) 拥护中华人民共和国宪法; (四) 具有良好的品行; (五) 具有正常履行职责的身体条件; (六) 具有符合职位要求的文化程度和工作能力; (七)



法律规定的其他条件。所以答案为 D 项。

6. 当今随着信息技术的飞速发展, 人们对光存储容量的要求不断提高, 下列哪个光存储技术是目前最先进的 ()

- A. CD B. DVD C. Laser Disk D. Blu-Ray Disc (蓝光 DVD)

【答案】 D

【考点】 计算机网络

【解析】 CD、DVD 是目前常见和普及的光存储技术。Blu-Ray Disc 是前不久刚刚确定的新一代光存储技术标准, 它具有存储量大、保存时间长等特点, 目前还处于推广阶段。而 Laser Disk 是对激光存储技术的统称。所以答案为 D 项。

7. 下列不属于网页浏览器的是 ()

- A. Internet Explorer B. Firefox C. FoxPro D. Chrome

【答案】 C

【考点】 计算机网络

【解析】 FoxPro, 全称是 Visual Fox Pro, 属于数据库开发软件, 其他三项都属于网页浏览器。所以答案为 C 项。

8. 2008 年 9 月 8 日山西省襄汾县发生了重大事故, 造成重大人员伤亡, 山西省省长为此引咎辞职, 该事故是 ()

- A. 煤矿瓦斯爆炸事故 B. 水库决口事故 C. 尾矿库溃坝事故 D. 火灾事故

【答案】 C

【考点】 时政

【解析】 2008 年 9 月 8 日早晨 8 点, 山西省襄汾县新塔矿的选矿厂尾矿库发生溃坝事故, 宽约 600 米, 长约 3 公里的泥石流将下游的一个农贸市场和两个村子的部分房子冲垮, 山西省长引咎辞职。所以答案为 C 项。

9. 春夏秋冬四季的循环往复变化使得地球景观绚丽多彩, 这是大自然赋予地球的珍贵礼物。然而四季这个礼物似乎分配不公, 地球上只有温带才有明显的四季变化, 而寒带和热带则是长冬无夏和长夏无冬。其原因是 ()

- A. 地球绕太阳公转时地轴和公转轨道有一定的夹角所致
B. 寒带的冰雪太多无法构成
C. 热带的地形地貌构成使之不易散热
D. 是由地球自转引起的

【答案】 A

【考点】 自然常识

【解析】 四季的变化原因在于地于围绕太阳公转的轨道与地球自身地轴的夹角所致, 所以答案为 A 项。

10. 对于夏季防雷常识, 下列选项中论述正确的是 ()

- A. 遇到雷雨时, 人们应尽快进入室内, 打开窗户通风, 并尽快通过电视、电脑或收音机了解此次雷雨的相关信息
B. 汽车金属外壳易导电, 所以在汽车上遇到雷雨时, 应尽可能跑出汽车避雷



C. 在游泳池或河边遇到雷雨时, 可以跳入水中, 因为有水的保护, 雷难以直接打到人身上, 所以在水中较为安全

D. 切勿站在山顶、楼顶, 不宜把羽毛球拍、高尔夫球杆等扛在肩上

【答案】D

【考点】生活常识

【解析】遇到雷雨时, 应尽量避免打开电视、电脑、收音机等电器, 尤其是在开窗的情况下。汽车轮胎绝缘, 坐在车上无触电危险, 应尽量避免跑出车外。水是导体, 跳入水中实际上增大了触电的危险系数。所以答案为D项。

11. 我国地质调查局认定, 2008年5月12日发生在四川汶川的地震, 其产生的主要原因是 ()

A. 印度板块向亚洲板块俯冲, 造成青藏高原快速隆升

B. 亚洲板块向印度板块俯冲, 造成青藏高原快速隆升

C. 印度洋板块与太平洋板块激烈碰撞所致

D. 亚洲板块与太平洋板块激烈碰撞所致

【答案】A

【考点】地理国情

【解析】汶川大地震的成因是印度洋板块向亚洲板块俯冲, 造成青藏高原隆升。所以答案为A项。

12. 福建省首条经“小三通”口岸赴台湾旅游的线路是 ()

A. 厦门——金门——台北

B. 厦门——澎湖——高雄

C. 福州——香港——台北

D. 福州——澎湖——马祖——台北

【答案】A

【考点】国情社情

【解析】福建省首条经“小三通”口岸赴台湾旅游的线路是“厦门—金门—台北”。所以答案为A项。

13. 我国现行宪法规定 ()

A. 社会主义的公有财产不可侵犯。公民的私有财产不受侵犯

B. 中华人民共和国的公有财产神圣不可侵犯。公民的私有财产不受侵犯

C. 社会主义的合法的公有财产神圣不可侵犯。公民的私有财产不受侵犯

D. 社会主义的公有财产神圣不可侵犯。公民的合法的私有财产不受侵犯

【答案】D

【考点】宪法

【解析】《宪法》第12条规定: 社会主义的公有财产神圣不可侵犯。国家保护社会主义的公共财产。禁止任何组织或者个人用任何手段侵占或者破坏国家的和集体的财产。第13条规定: 公民的合法的私有财产不受侵犯。国家依照法律规定保护公民的私有财产权和继承权。国家为了公共利益的需要, 可以依照法律规定对公民的私有财产实行征收或者征用并给予补偿。所以答案为D项。

14. 下列属于犯罪中止的是 ()

A. 已经着手实行犯罪但犯罪未发生

B. 在犯罪过程中, 自动有效地防止犯罪结果发生



- C. 在犯罪过程中, 由于行为人意志以外的原因犯罪结果未发生
- D. 行为人为实施犯罪而准备了工具, 但没有着手实施犯罪

【答案】 B

【考点】 刑法

【解析】 我国《刑法》规定, 在犯罪过程中, 自动放弃犯罪或者自动有效地防止犯罪结果发生的, 是犯罪中止。所以答案为 B 项。

15. 某市机要局向 K 公司购买办公用品(手提电脑 10 台)后发现质量问题, 现该局依法向 K 公司索赔, 其所依之法是 ()

- A. 行政法
- B. 民法
- C. 经济法
- D. 宪法

【答案】 B

【考点】 民法

【解析】 二者属于平等主体之间的财产关系, 适用民法。所以答案为 B 项。

16. 依我国《继承法》, 关于遗嘱继承与法定继承的关系, 正确的选项是 ()

- A. 遗嘱继承优先于法定继承
- B. 法定继承优先于遗嘱继承
- C. 遗嘱继承与法定继承无所谓谁优先
- D. 遗嘱继承与法定继承不相干

【答案】 A

【考点】 民法

【解析】 我国实行遗嘱继承优先于法定继承的原则。对公民个人遗产的继承, 如果财产所有权人生前立有遗嘱, 只要该遗嘱是合法有效的, 遗嘱继承即优先于法定继承。所以答案为 A 项。

17. 发明专利权与实用新型和外观设计专利权的期限不同, 其正确的选项是 ()

- A. 前者为 20 年, 后者为 10 年
- B. 前者为 10 年, 后者为 20 年
- C. 前者后者均为 10 年
- D. 前者后者均为 20 年

【答案】 A

【考点】 民法

【解析】 专利权的法律保护具有时间性, 中国的发明专利权期限为 20 年, 实用新型专利权和外观设计专利权期限为 10 年, 均自申请日起计算。所以答案为 A 项。

18. 下列选项中, 不属于阶级社会中关于法律与道德的共同点的是 ()

- A. 都是社会规范
- B. 都具有阶级性
- C. 约束范围都相同
- D. 都是治国途径

【答案】 C

【考点】 法理学

【解析】 本题要求选出“不属于”的一项。法律与道德约束的范围是不同的, 道德约束范围比法律约束范围更广, 所以答案为 C 项。

19. 依我国《民法通则》, 关于委托书授权不明的民事责任, 正确的选项是 ()

- A. 由代理人向第三人承担民事责任
- B. 被代理人应当向第三人承担民事责任, 代理人负连带责任
- C. 代理人应当向第三人承担民事责任, 被代理人负连带责任
- D. 由被代理人承担民事责任

【答案】 B



【考点】民法

【解析】《民法通则》第65条第3款规定: 委托书授权不明的, 被代理人应当向第三人承担民事责任, 代理人负连带责任。所以答案为B项。

20. 对下列政府行为提起行政诉讼, 人民法院依法不能受理的是 ()

- A. 县公安局违反《治安管理处罚法》规定对某人滥处罚款
- B. 县政府制定某商品禁售的文件
- C. 专利权未到期被县政府专利主管部门取消专利权
- D. 县工商局违反法规收取管理费

【答案】B

【考点】诉讼法

【解析】本题要求选出“不能”受理的一项。《行政诉讼法》第12条规定: 人民法院不受理公民、法人或者其他组织对下列事项提起的诉讼: (一) 国防、外交等国家行为; (二) 行政法规、规章或者行政机关制定、发布的具有普遍约束力的决定、命令; (三) 行政机关对行政机关工作人员的奖惩、任免等决定; (四) 法律规定由行政机关最终裁决的具体行政行为。所以答案为B项。

21. 党的十六大报告提出了“四个尊重”, 其核心是 ()

- A. 尊重劳动
- B. 尊重知识
- C. 尊重人才
- D. 尊重创造

【答案】A

【考点】中国特色社会主义理论体系

【解析】“四个尊重”的核心是“尊重劳动”, 离开劳动, 知识、人才、创造都无从谈起。所以答案为A项。

22. “鸟鸣山更幽”包含的哲理是 ()

- A. 静止的绝对性与运动的相对性
- B. 运动的相对性
- C. 静止的绝对性
- D. 静止的相对性与运动的绝对性

【答案】D

【考点】马克思主义哲学

【解析】“鸟鸣山更幽”包含的哲理是静止的相对性与运动的绝对性。所以答案为D项。

23. 唯物辩证法的实质与核心是 ()

- A. 对立统一规律
- B. 否定之否定规律
- C. 质量互变规律
- D. 规律的客观性

【答案】A

【考点】马克思主义哲学

【解析】唯物辩证法的三大基本规律是对立统一规律、质量互变规律和否定之否定规律, 其实质与核心是对立统一规律。所以答案为A项。

24. 宗教与哲学的共同点在于 ()

- A. 是“科学之科学”
- B. 是理论化、系统化的世界观
- C. 是麻醉人们的精神鸦片
- D. 是社会意识形态

【答案】D

【考点】马克思主义哲学

【解析】宗教与哲学都是人类文化上层建筑和社会意识形态的重要内容, 所以答案为D



项。

25. 被誉为意大利文艺复兴时期“三杰”的是 ()

- A. 达·芬奇、米开朗基罗、拉斐尔
- B. 达·芬奇、泰戈尔、拉斐尔
- C. 莎士比亚、达·芬奇、但丁
- D. 米开朗基罗、拉斐尔、托尔斯泰

【答案】A

【考点】艺术

【解析】被誉为意大利文艺复兴时期“三杰”的是达·芬奇、米开朗基罗和拉斐尔。所以答案为 A 项。

26. “塞翁失马，焉知非福”的典故出自 ()

- A. 《左传》
- B. 《淮南子·人间训》
- C. 《史记》
- D. 《论语》

【答案】B

【考点】文学

【解析】“塞翁失马，焉知非福”是一则寓言故事，出自《淮南子·人间训》，它是为阐述老子“祸兮福之所倚，福兮祸之所伏”的观点服务的。所以答案为 B 项。

27. 中国近代洋务运动的关键人物是 ()

- A. 李鸿章 陈独秀
- B. 李鸿章 曾国藩
- C. 容闳 孙中山
- D. 光绪 袁世凯

【答案】B

【考点】中国近现代史

【解析】李鸿章和曾国藩是中国近代洋务运动的关键人物，他们大力支持近代洋务运动，在一定程度上促进了近代中国工业的形成和发展。所以答案是 B 项。

28. 人的本质在其现实性上是一切社会关系的总和，就个人与社会的关系上看，人的价值在于 ()

- A. 实现马斯洛理论中第五层次的需求
- B. 个人对社会的尊重与满足
- C. 社会对个人的尊重与满足以及个人对社会的责任与贡献
- D. 社会对个人的责任与贡献以及个人对社会的尊重与满足

【答案】C

【考点】马克思主义哲学

【解析】从个人与社会的关系上来看，人的价值在于社会对个人的尊重与满足以及个人对社会的责任与贡献。所以答案为 C 项。

29. 航空界有个关于飞行安全的“海恩法则”：每一起严重事故的背后，必然有 29 次轻微事故和 300 起未遂先兆及 1000 起事故隐患。“海恩法则”启示我们 ()

- A. 规律是客观的，我们要善于发现和利用规律
- B. 量变是质变的前提，质变是量变的必然结果
- C. 矛盾是普遍的、客观的
- D. 只要注意防范，事故是可以避免的



【答案】 B

【考点】 马克思主义哲学

【解析】 由题中所列举的数字可知, 海恩法则所揭示的是哲学中质变与量变关系问题。所以答案为 B 项。

30. 以下关于福建相关问题的描述不准确的选项是 ()

A. 福建土楼造型独特, 规模宏大, 结构奇巧。由永定、南靖、华安的“六群四楼”共 46 座土楼组成的福建土楼群, 于 2008 年被联合国教科文组织列入《世界遗产名录》

B. 为了全面推进海峡西岸经济区建设, 提供源源不断的项目支撑, 福建省每年 6 月 18 日在厦门举办中国·海峡项目成果交易会(简称“6·18”)。这是一个项目、资本、技术、人才集聚的平台, 通过对接, 推动项目成果向现实生产力转化

C. 1907 年 7 月福建省第一条铁路漳厦铁路动工; 1958 年投入运营的鹰厦铁路, 是福建省首条出省铁路; 在建的福厦高速铁路是我国铁路中长期规划“八纵八横”主通道沿海快速铁路的重要组成部分

D. 福建省委提出的推进海峡西岸“两个先行区”建设, 就是要努力把海峡西岸经济区建设成为科学发展的先行区、两岸人民交流合作的先行区

【答案】 B

【考点】 地理国情

【解析】 本题要求选出“不准确”的一项。中国·海峡项目成果交易会每年 6 月 18 日在福州举办, 而非厦门。所以答案是 B 项。

第一部分结束. 请继续做第二部分!

第二部分 言语理解与表达

(共 30 题, 参考时限 35 分钟)

每道题包含一段文字或一个句子。后面是一个不完整的陈述。注意: 答案可能是完成所给文字主要意思的提要。也可能是满足陈述中其他方面的要求, 你的选择应与所提要求最相符合。每题 1 分。共 30 分。

请开始答题:

31. 下面加点字注音完全正确的一项是 ()

A. 忍俊不禁(jīn) 精神抖擞(shǒu) B. 人迹罕至(hǎn) 鞠躬尽瘁(chuì)

C. 孜孜不倦(zī) 惴惴不安(zhuì) D. 参差不齐(chī) 锲而不舍(qiè)

【答案】 C

【考点】 基础知识

【解析】 A 项的“擞”当为平舌音, 即 sǒu。B 项的“瘁”当为平舌音, 即 cuì。D 项的“差”当为平舌音, 即 cī, 所以答案为 C 项。

32. 这条商业街位于繁华的市中心, 开张以来, 生意一直很好, 人流如潮, _____。

填入画横线部分最恰当的一项是 ()

A. 车水马龙 B. 纷至沓来 C. 络绎不绝 D. 接踵而来

【答案】 C

【考点】 成语辨析

【解析】 车水马龙是形容来往车马很多, 连续不断的热闹情景。纷至沓来是形容接连不



断的到来。络绎不绝是形容行人车马来来往往, 接连不断。接踵而来是形容来者很多, 络绎不绝。由空格前“人流如潮”, 可知车水马龙、纷至沓来、接踵而来都与“人流”无法搭配, 所以答案为C项。

33. 在有关科学实践中, 没有使用_____的仪器, 经过_____的调查, 进行_____的论证, 往往很难得出正确的结论。

填入画横线部分最恰当的一项是 ()

- A. 周密 严密 细密
B. 精密 周密 细密
C. 细密 严密 周密
D. 精密 周密 严密

【答案】D

【考点】实词辨析

【解析】周密是周到细密, 多用来形容思考、调查等。所以排除A项。细密有多层含义, 一指(质地)精细仔密, 多用于材料; 二指详细, 不粗疏, 强调“细致”, 多用于思考很细密; 三指多指缝制东西又细又密。所以排除C项。精密是指精确细密, 强调“精确”, 多用于仪器。严密: 原义是指事物之间结合得紧, 没有空隙, 后多引申为组织严密, 文章结构严密, 还有消息封锁得很严密。所以答案为D项。

34. 面对“限塑令”, 书店可以推出多次循环使用的环保购书袋以提升书店存读者心目中的形象, 还可以推出一系列其他环保时尚的文化产品, 为书店营销带来新的热点和卖点。

以下最能准确表达作者观点的是 ()

- A. “限塑令”对书店来说, 是一次考验
B. “限塑令”给书店带来了商机
C. 书店可利用环保购书袋拓展增加利润的空间
D. 面对“限塑令”, 书店可以充分发挥行业优势, 化被动为主动

【答案】D

【考点】主旨概括

【解析】A项侧重的是“限塑令”给书店带来的困难和挑战, 未抓住材料的重点; B项阐述不准确, “限塑令”本身并不能带来商机, 转化为商机需要书店的主观努力, 材料强调的正是这种努力的途径; C项不是材料的阐述重点。D项正确, 概括材料, 材料主要提出了书店面对“限塑令”的解决策略以及将其为己所用、转为优势的途径。故正确答案为D。

35. 某些病毒毫无疑问能引起癌症。可是, 有一些儿童期的癌症却可能是由于在生命早期接触感染过少而引起的。

作者想要表述的观点是 ()

- A. 儿童期接触病毒可能引发癌症
B. 生命早期接触病毒会引发成年时癌症
C. 儿童期适当接触病毒可能增强免疫力
D. 某些病毒能够引起癌症

【答案】C

【考点】意图判断

【解析】文段不长, 是转折关系, “可是”一词之后才是作者真正想要表述的观点, 即生命早期接触感染过少导致某些儿童期的癌症, 可知儿童期适当接触病毒, 可以增强免疫力。所以答案为C项。

36. 长期以来, 中国队在乒乓球比赛中一直占有绝对优势, 或者说独大。这种局面持续



的时间之长,已经让很多人感觉乒乓球成了一项中国人自己和自己玩的运动,虽然水平很高,但大大降低了观众看比赛的归属感和竞争心态。

这段话的主要观点是 ()

- A. 乒乓球比赛中国队一直占有绝对优势
- B. 乒乓球成了一项中国人自己和自己玩的运动
- C. 中国队在乒乓球项目上的绝对优势降低了观众看比赛的兴趣
- D. 世界各国观众对乒乓球比赛日渐缺乏兴趣

【答案】 C

【考点】 主旨概括

【解析】 这是一篇转折关系的文段,“但是”一词之后才是作者真正想要表达的观点,即中国队在乒乓球比赛上的绝对优势使得观众看比赛的归属感和竞争心态大大降低。A项只是观点的背景;B项不是材料的重点;D项没有谈到中国乒乓球的绝对化优势,也有表述绝对化的嫌疑。故正确答案为C。

37. 在她走马上任时,全球第一所“孔子学院”在韩国首尔刚刚挂牌。而到2008年初,已有210多所“孔子学院”在60多个国家相继建立。此时,距离提出在全球建立100所“孔子学院”的五年目标,刚刚过去三年。

这段话的主要观点是 ()

- A. 她上任后,工作业绩显著
- B. 近年来,孔子学院发展迅速
- C. 她上任后,孔子学院发展迅速
- D. 孔子学院超规划发展

【答案】 C

【考点】 主旨概括

【解析】 材料阐述的主体有两个,一个是“她”,一个是“孔子学院”,二者间的关系是她上任后孔子学院建立之迅速,因此答案选C。A、B、D三项主体不全,表述不够完整准确。

38. _____。历史证明,哪怕是最有效率的万能政府,实际上也不可能全面介入管理每一个家庭或者宗族的具体生活,正如大脑不能指挥身上的每一个细胞的具体活动一样。

填入上面横线的句子,与上下文衔接最恰当的一项是 ()

- A. 家庭是国家和社会的细胞
- B. 人类历史的发展和家庭是分不开的
- C. 家和万事兴
- D. 正是一个个不起眼的家庭组成了大社会

【答案】 A

【考点】 语句填空

【解析】 根据“历史证明”一词可知,空格处与下文构成的是前者概括、后者具体阐释的总一分关系。材料叙述的是政府和家庭的关系,那么空格处也应当涉及到这两个主体;再看“正如大脑.....细胞.....”,A选项也以“细胞”比喻家庭,上下文形成呼应,因此为最佳选项。B、C项和材料观点联系不大;D项在主体关系以及上下文统一上不及A项恰当。故正确答案为A。

39. 天文学家认为,整个地球都是由环绕早期太阳的尘埃造就的,太阳系中的固态物质概莫如此。_____?这一直是个未解之谜。

填入上面横线的句子,与上下文衔接最恰当的一项是 ()

- A. 那么,固态物质又从哪里来呢



- B. 但是. 尘埃本身又从哪里来呢
- C. 天文学家的观点可靠吗
- D. 为什么天文学家这样看呢

【答案】 B

【考点】 语句填空

【解析】 文段中提到整个地球都是由尘埃造就的, 而太阳系中的固态物质都是如此, 由此可知, 成为“未解之谜”的, 必是尘埃是怎么来的, 所以答案为 B 项。C、D 项没有承上启下之感, 突兀, 不选; “固态物质”是由“尘埃”形成的, 这个问题已经解决, 排除 A。

40. 改造创新后的孝德, 与“文化糟粕”截然不同, 理应属于民族优秀传统文化范畴, 在高校德育内容中完全应占有一席之地。_____。例如, 可通过专题讲座、主题班会等活动, 让大家直接参加孝文化的讨论。增进对孝德教育的理性认同。

填入上面横线的句子, 与上下文衔接最恰当的一项是 ()

- A. 那么, 可以采取哪些方式进行呢
- B. 因此, 应在开展大学生德育工作中加入孝德元素, 使之参与育人过程
- C. 在高校进行孝德教育的形式可以是多种多样的
- D. 但是, 只有丰富多彩的教育形式才能收到好的成效

【答案】 B

【考点】 语句填空

【解析】 文段讲了两个内容, 一是改革创新后的孝德应当在高校德育内容中占有一席之地, 二是可以通过各样的方式, 可知, 填入的一句话当是承上启下的, 所以最完整的当属 B 项, 为正确答案。

41. 下列选项中, 没有错别字的是 ()

- A. 他一下车, 歌迷们便蜂涌而上, 争相拍摄, 请求签名
- B. 登上天安门城楼, 他浮想连翩, 热泪夺眶而出
- C. “熵”是表现系统内部无序和混乱程度的量度. 其降低表明系统的进化和有序
- D. 由于当前国际能源价格不断飙升、全球环境与气候问题突显, 该文件将对中美未来经济合作具有重大影响. 也将为全球可持续发展做出贡献

【答案】 C

【考点】 基础知识

【解析】 本题要求选出“没有”错别字的一项。A 项当为蜂拥而上, 排除 A 项。B 项当为浮想联翩, 排除 B 项。D 项当为凸显, 排除 D 项, 只有 C 项没有错别字, 为正确答案。

42. 下列选项中, 没有错别字的是 ()

- A. 他躺在床上, 翻来复去睡不着
- B. 每到周末, 这条街道便人来人往, 穿流不息
- C. 多年来他刻苦自学、勇于探索, 并能吸取各家所长, 融汇贯通, 形成自己的风格
- D. 有的书法家在书写时采用方折瘦硬的笔法以追求“铜铸气”, 以颤抖生涩求“铜蚀斑锈气”

【答案】 D

【考点】 基础知识

【解析】 本题要求选出“没有”错别字的一项。A 项当是翻来覆去, 排除 A 项。B 项当是川流不息, 排除 B 项。C 项当是融会贯通, 只有 D 项没有错别字, 为正确答案。



43. 下列选项中, 没有语病的是 ()

- A. 我们知道, 魏晋人在思想上崇尚放任、崇尚自由, 因此其文学、艺术、哲学皆能彰显个性。然而在政治上, 魏晋时期则为典型的衰世
- B. 汉末之王充思想—是批评阴阳五行、天人感应及是古非今思想的代表人物
- C. 意志坚强的人们绝不会因为暂时的挫折影响了他对获得最后胜利的信心
- D. 《礼记》是从先秦至西汉关于《仪礼》解说、发挥的文字汇集, 是我国秦汉以前的社会生活史和生活习俗、礼仪制度、人生经验

【答案】A

【考点】病句辨析

【解析】本题要求选出“没有”语病的一项。B项, 王充思想是……人物不通, 主宾搭配不当, 当去掉“思想”二字。C项“人们”与“他”不对应, 当去掉“们”字。D项主宾搭配不当, 句子的主干是“《礼记》是文字汇集, 是社会生活史和生活习俗、礼仪制度、人生经验”, 不合逻辑。所以答案为A项。

44. 下列选项中, 有语病的是 ()

- A. 过于技术化的倾向使得许多学者尤其是研究生只知道分类与统计, 却不肯认真地阅读文学文本和下艰苦的思辨功夫, 从而往往把问题简单化了
- B. 课程改革的合理性, 是指对课程改革活动的一种价值定位和预期, 也是根据某种理论或事实的标准与尺度对课程改革活动所做的价值判断和分析
- C. 近年来大豆净进口量激增是我国粮食贸易结构最为始料不及的
- D. 自汉字传入日本, 随着汉籍的传人, 如《论语》、《孝经》等, 其承载的文化思想已经潜移默化地浸人大和民族的灵魂之中

【答案】C

【考点】病句辨析

【解析】分析各选项可知, C选项主语和谓语搭配不当。C项中始料不及的主体应为“我、我们”等人称性词语, 而非“我国粮食”。应该是“近年大豆净进口量激增这种现象是我国粮食贸易最为始料不及的”, 其他选项没有错误, 故此题的答案为C。

45. 我们必须始终坚定不移地高举邓小平理论伟大旗帜, 进行社会主义建设。

下列选项中, 最适合用来替换画线部分词语的是 ()

- A. 不折不扣
- B. 坚持不懈
- C. 毫不动摇
- D. 不屈不挠

【答案】C

【考点】成语辨析

【解析】坚定不移是指稳定坚强, 毫不动摇。不折不扣表示完全、十足, 与句意不合, 排除A项。坚持不懈是指坚持到底, 一点不松懈, 与句意不合, 排除B项。不屈不挠比喻在压力和困难面前不屈服, 表现十分顽强, 与句意不合, 排除D项。所以答案为C项。

46. 中国制造业规模迅猛扩张并成为全球产业链中不可或缺的重要组成部分。

下列选项中, 最适合用来替换画线部分词语的是 ()

- A. 缺一不可
- B. 必不可少
- C. 独一无二
- D. 举足轻重

【答案】B



【考点】 成语辨析

【解析】 不可或缺表示非常重要, 不能有一点点的缺失, 通常形容必不可少的因素或是部分。缺一不可是指少一样也不行。独一无二是指没有相同的或没有可以相比的。举足轻重指处于重要地位, 一举一动都足以影响全局。由词义可知, B 项为正确答案。

47. 下列选项中, 没有歧义的是 ()

- A. 我们需要相信自己的人
- B. 三个教育局的领导听了他的课
- C. 请你告诉他要早一点回家做作业
- D. 小明和小军的哥哥在操场上踢足球

【答案】 C

【考点】 歧义句辨析

【解析】 C。本题要求选出“没有”歧义的一项。A 项不知道需要的是“自信的人”, 还是需要相信“我们自己的人”。B 项不知道是三个领导, 还是来自三个教育局的若干名领导。D 项不知道是小明的哥哥和小军的哥哥还是小军的哥哥和小明, 所以答案为 C 项。

48. 下列选项中, 没有歧义的是 ()

- A. 他已经走了三个小时了
- B. 我们在楼顶看见他了
- C. 小王去打针了
- D. 我们要一分为二地看待收入差距这个问题

【答案】 D

【考点】 歧义句辨析

【解析】 本题要求选出“没有”歧义的一项。A 项不知道他已经步行了三个小时, 还是已经离开了三个小时。B 项不知道是我们在楼顶遇到他, 还是我们在楼顶看到他 (在楼下或别处)。C 项不知道小王是病人还是护士。所以答案为 D 项。

49. 电脑的出现, 在很大程度上改变了我们的生活。坐在电脑前打字、浏览, 越来越多地替代了提笔写字、捧书阅读。但电脑在带来便捷的同时, 也对传统文化造成了强大的冲击, 即便是一些优秀的传统文化也离我们渐行渐远。书法是中华文化的瑰宝, 是民族精神的体现, 但在电脑面前, 练习毛笔字的群体正在萎缩, 充满魅力的书法作品也正逐渐淡出人们的视野。保护传统文化、保护书法艺术刻不容缓。

下列选项中, 最适合做本段文字标题的是 ()

- A. 电脑时代保护书法艺术刻不容缓
- B. 即便在电脑时代也应让书法传承下来
- C. 电脑时代传统文化一定不能淡出
- D. 电脑时代学习书法就是继承民族精神

【答案】 A

【考点】 标题选择

【解析】 材料前三句中间用转折词“但”提出“电脑时代对传统文化形成冲击”的观点。接着论述转向传统艺术中的书法, 先说其价值, 然后用“但”引出问题: 书法艺术也遭受电脑的巨大冲击。可见, 前三句只是铺垫, 后面的论述才是重点, 主体词是“书法艺术”。最后一句提出针对问题的呼吁。由此, 材料的重点在于积极应对危机。A 项体现了积极应对的态度, 具有呼吁性, 点明了材料的中心论点。B、C 项虽也有类似的意思但较于 A 不太适合;



D 项属于过度演绎。

50. 研究证明, 血液中脂肪蛋白含量的增多, 会增强人体组织吸收过多的胆固醇。一些人通过体育锻炼和减肥。能够明显增加血液中脂肪蛋白的含量。

根据这段文字, 我们可以推出最恰当的结论是 ()

- A. 有些人通过体育锻炼降低了血液中的胆固醇, 这些人一定是胖子
- B. 不经常进行体育锻炼的人, 特别是胖子, 血液中出现高胆固醇的风险最大
- C. 体育锻炼和减肥是降低血液中高胆固醇的最有效办法
- D. 有些人通过体育锻炼和减肥来降低血液中的胆固醇

【答案】D

【考点】中心理解题

【解析】据提问和材料知此题是中心理解题。材料阐述的是脂肪蛋白的增多利于人体组织吸收过多的胆固醇, 而体育锻炼能增加脂肪蛋白, 也就间接地减少了过多的胆固醇, 因此 D 项正确。A 项“一定”、B 项“最大”、C 项“最有效”的结论缺少依据, 无法推出。故正确答案为 D。

51. 由于信息高速公路上信息垃圾问题越来越严重, 网络专家们不断发出警告: 如果我们不从现在开始就重视预防和清除信息高速公路上的垃圾, 那么总有一天信息高速公路将无法正常运行。

在下列语句中, 意义最接近网络专家警告的是 ()

- A. 总有那么一天, 信息高速公路不再能正常运行
- B. 只要从现在就开始重视信息高速公路上信息垃圾的预防和清除, 信息高速公路即可预防无法正常通行的后果
- C. 只有从现在就开始重视信息高速公路上信息垃圾的预防和清除, 信息高速公路才能预防无法正常通行的后果
- D. 信息高速公路如果有一天不再能正常运行, 一定是因为我们没有从现在起就重视信息高速公路上信息垃圾的预防和清除

【答案】C

【考点】中心理解题

【解析】文段中的警告意为如果不……重视预防和清除……, 那么……将无法……。说明“重视预防和清除……”为信息高速公路正常通行的必要非充分条件, 所以答案为 C 项。

52. 一种观点认为: 一个国家如果能够有效地运作经济, 就一定能够创造财富而变得富有; 而这样的一个国家要想保持政治稳定, 它所创造的财富必须得到公正的分配; 而财富的公正分配将减少经济风险; 但是, 经济风险的存在正是经济有效运行不可或缺的先决条件。

下列选项中, 对这段文字理解正确的是 ()

- A. 一个国家政治上的稳定和经济上的富有不可能并存
- B. 一个国家政治上的稳定和经济上的有效运作不可能并存
- C. 一个富有国家的经济运作一定是有效率的
- D. 在一个经济运作无效率的国家中, 财富一定会得到公正的分配

【答案】B

【考点】细节理解

【解析】由政治稳定, 可知财富必然得到了公正的分配, 而公正分配财富就减少了经济风险, 从而使经济运作无法有效进行。所以答案为 B 项。A 项“不可能”表述错误, “经济运作有效, 必然富有”推不出“富有就一定经济运作有效”; C 项错误; D 项绝对化, 不能断



定。

53. 一项调查显示: 所有的桥牌爱好者都爱好同棋; 有些围棋爱好者爱好武术; 所有武术爱好者都不爱好健美操; 有些桥牌爱好者同时爱好健美操。

下列选项中对这段文字理解无误的是 ()

- A. 有的围棋爱好者也爱好桥牌
- B. 有的桥牌爱好者爱好武术
- C. 有的桥牌爱好者不爱好健美操
- D. 围棋爱好者都爱好健美操

【答案】A

【考点】细节理解

【解析】由文段所给资料可知, 只要是桥牌爱好者, 就爱好围棋, 是充分非必要条件, 可知有的围棋爱好者也爱好桥牌必为正确, 但无法知道是否是所有围棋爱好者都爱好桥牌。按照逻辑学原理, 无法知道的视同无法推出。有些围棋爱好者爱好武术 (这一句属逻辑学常考题型。日常生活中的理解, 必有一些围棋爱好者不爱好武术, 而逻辑学由此句绝对不可以得出“有围棋爱好者不爱好武术”的结论。), 所有武术爱好者都不爱好健美操, 可知爱好武术的那部分爱好围棋的人也不爱好健美操, 所以排除 D 项。有些桥牌爱好者爱好健美操, 无法推出是否有些桥牌爱好者不爱好健美操, 所以排除 C 项。由文段无法得出爱好武术与爱好桥牌的人之间存在的必然关系, 所以排除 C 项。A 项为正确答案。

54. 语言是语言科学的实验材料。濒危语言蕴藏着罕见的语言特征, 可供语言研究的内容深奥而丰富。由于我们对语言研究的历史还十分短暂, 对语言的了解还十分肤浅, 所以每一种语言的消失都会带走语言学信息, 使我们失去一个理解语言本质的机会, 失去一个研究的样本, 这意味着我们将更难了解语言的真谛。

这段文字的主旨是 ()

- A. 语言是语言科学的研究材料
- B. 濒危语言蕴藏着丰富的语言特征
- C. 濒危语言的消失将是语言科学研究不可挽回的损失
- D. 要全力拯救濒危语言

【答案】C

【考点】中心理解题

【解析】本题是主旨概括题, 材料前两句说明了语言尤其是濒危语言的研究价值, 其后阐述了失去某种语言是一种损失的观点, 用总结词“所以”连接, 可见, 前面的价值说明是为后面的损失问题作铺垫, 因此材料的主旨应当在于后者, 即失去濒危语言的损失, 故 C 项为正确答案。A、B 项是材料主旨的知识背景和铺垫; 材料没有谈到如何做, 所以 D 项是材料主旨的引申, 不选。

55. 研制大型飞机投资大、周期长, 不确定因素多, 是一项极其复杂的系统工程。面临许多风险和困难, 任务十分艰巨。要生产安全可靠、具有市场竞争力的大型飞机, 并实现产业化, 需要我们做许多艰苦细致的工作。

作者接下来最有可能强调的是 ()

- A. 研制大型飞机的投资和周期
- B. 研制大型飞机的工程复杂性
- C. 如何实现大型飞机的收支平衡, 并最终实现盈利



D. 如何做好研制大型飞机有组织的实施工作

【答案】 D

【考点】 下文推断

【解析】 文段先提到研制大型飞机的难度很大, 而后提到如果要生产出大型飞机并实现产业化, 必须要做许多艰苦细致的工作。那么下文必然谈到艰苦细致的工作的组织与实施。所以答案为 D 项。A、B 项都是“需要做细致工作”的原因, 属于过渡句前边的内容, 不选; C 项“收支平衡”、“盈利”之说, 衔接过远, 缺少语意过渡, 不选。

56. 在一次商业谈判中, 甲方代表说: “根据以往贵公司履行合同的情况, 有的产品不具备合同规定的要求, 我方蒙受了损失, 希望以后类似的情况不再发生。” 乙方代表回应道: “履约时出现质量问题, 按规定可以退回或求偿, 贵公司当时既没退货, 也未提出求偿要求。这究竟是怎么回事?”

在这段文字中, 乙方代表的回答实际上要表达的意思是 ()

- A. 甲方企图要乙方赔偿上次合同的损失
- B. 甲方说乙方有的产品不符合要求, 但无证据
- C. 甲方因为宽容, 已经损失了追究乙方违约责任的时机
- D. 甲方为了在这次谈判中增加谈判的筹码, 故意指责乙方以往有违约行为

【答案】 D

【考点】 意图判断

【解析】 文段中提到甲方的指责, 而乙方的回应提到若确有违约行为, 则甲方当时应做而未做的行为是退货或者求偿, 由此可知甲方的指责只是为了增加谈判的筹码, 而非为了求偿。所以答案为 D 项。

57. 近年来, 不少公司竞相开发“训练大脑”的游戏软件, 市面上已有几十种益智游戏软件。尽管这类软件说明书写得五花八门, 但涉及其功能时不外乎强调两点: “增强诸如注意力、记忆力和信息处理速度等大脑功能”; “减缓大脑随年龄增长而不可避免的功能下降的速度”。几乎所有的这类公司, 都声称其游戏软件程序是根据最新科研成果而设计的。

这段文字意在强调 ()

- A. 益智游戏软件的开发即将成为一个新兴的行业
- B. 益智游戏软件的开发是以最新科学研究为理论依据的
- C. 益智游戏软件的开发将大大提高人的智商, 应加快推广
- D. 益智游戏软件的开发, 作为一个新生事物, 其科学性值得研讨

【答案】 D

【考点】 意图判断

【解析】 仔细阅读, 由“说明书写得五花八门”、“声称”等处, 可知作者对于这些益智游戏软件自称的益智功能持怀疑态度, 所以答案为 D 项。

58. 社区是社会的基本构成单位, “和谐社区”是构建和谐社会的重要基础。要把“和谐社区”建设纳入社区发展的战略规划, 以科学发展观为指导, 按照“保障生产、服务生活、维护稳定”的职能定位, 积极构建全方位、立体化、深层次的和谐社区创建体系, 努力建设以“舒适的居民环境, 温馨便捷的优质服务, 安全稳定的社会秩序, 健康文明的生活方式, 团结协作的共建氛围. 竞相进发的发展活动”为基本特征的和谐社区。

这段文字的意思不包括 ()

- A. 构建“和谐社区”的重要意义



- B. 构建“和谐社区”的主要思路
- C. “和谐社区”的基本特征
- D. “和谐社区”的基本结构

【答案】D

【考点】细节理解

【解析】本题要求选出“不包括”的一项。文段的第一句话是建设“和谐社区”的意义,后面提到“和谐社区”的职能、特征,并按此职能、特征来建设“和谐社区”,只有“和谐社区”的结构未谈到。所以答案为D项。

59. 通过寄生方式繁衍后代的黄蜂,能在适合自己后代寄生的各种昆虫的大小不同的虫卵中,注入恰好数量的卵。如果它在宿主的卵中注入的卵过多,它的幼虫就会在互相竞争中因为得不到足够的空间和营养而死亡;其幼虫中注入的卵过少,宿主卵中多余的营养就会腐败。这又会导致其幼虫死亡。

根据上段文字,我们可以推断出()

- A. 在黄蜂的寄生繁衍机制中,黄蜂应具备准确区分宿主虫卵大小的能力
- B. 黄蜂在虫卵较大的昆虫区出现的数量多,在虫卵较小的昆虫区出现的数量少
- C. 黄蜂在昆虫中注入过多的虫卵要比注入过少的虫卵更易引起寄生幼虫死亡
- D. 黄蜂卵大小决定黄蜂幼虫的存活率的高低

【答案】A

【考点】细节理解

【解析】由文段可知,黄蜂必须在各种昆虫的大小不同的虫卵中注入恰好数量的卵,从而使后代得以存活。而黄蜂为了能够保证“恰好数量”,必须能够准确区分宿主虫卵大小的能力,所以答案为A项。B、C、D三项均无法从文段中推出。

60. 粮食安全问题已经成为我国政府和社会关注的一个重点。从国际背景看,受美国“次贷”危机等影响,以股票、房地产为代表的资产价格在全球范围内都在快速下跌。因为股票与房地产市场的下挫,全球范围内规模巨大的热钱把投机重点转到石油、粮食上,导致石油和粮食这两项影响人类衣食住行的商品价格不断上涨。从国内看,今年我国夏粮丰收后,粮价继续在低价位徘徊,同国际市场的价差加大。与此同时,我国蔬菜、猪肉及许多材料的价格都在上涨,唯有粮食价格没有明显上涨。我国现有的粮食价格体系一旦“失守”,将直接影响我国经济的正常运行和社会稳定。

不符合这段文字思想的是()

- A. 国内外市场的粮食价差及其扩大,是影响我国粮食安全的一个潜在因素
- B. 美国“次贷”危机,对我国粮食安全形成了威胁
- C. 国际热钱窥视中国粮食市场,将使我国粮食安全面临严峻挑战
- D. 大幅度提高国内粮食价格,缩小国内外价差,是我国应对全球粮食危机的重要策略

【答案】D

【考点】细节理解

【解析】本题要求选出“不符合”的一项。材料首句引出话题,进而从国际和国内两个角度阐述粮食价格的影响的因素。A、B、C项为影响粮食安全问题的因素,均在材料中有所体现。材料最后一句可知,我国现有的粮食价格体系必须保持稳定,而D项提出要大幅提高国内粮食价格,明显错误。故正确答案为D。

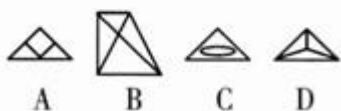
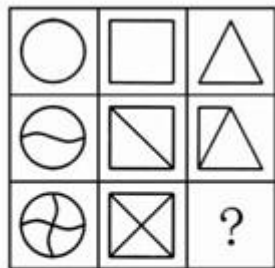


(共 45 题, 参考时限 45 分钟)

本部分包含五种类别的试题, 均为单项选择题。每题 0.8 分。共 36 分。

一、图形推理。每道题包含一组或两套图形和备选的 4 个图形。这组(套)图形具有某种相似性, 也存在某种差异。请你从四个选项中选择最适合取代问号的一个。使这组(套)图形表现出逻辑关联性或最大的相似性。请开始答题:

61. ()

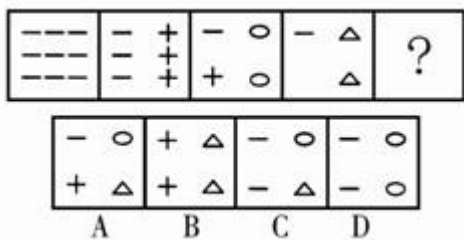


【答案】B

【考点】面个数

【解析】第一列的三组图形, 每一幅比上一幅增加一条线, 第三幅图增加的线与第二幅图中增加的线相交叉, 第二列图形亦符合这一规律, 所以问号处也当符合这一规律。答案为 B 项。

62. ()

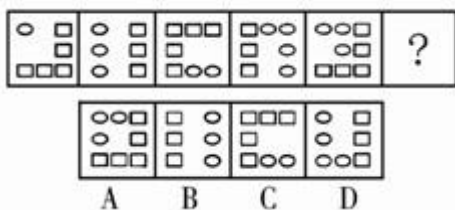


【答案】C

【考点】素种类

【解析】每个十字形等价于两个横线, 每个圈等价于三个横线, 每个三角形等价于四个横线, 且每组图形均可以等价于九个横线。故正确答案为 C。

63. ()



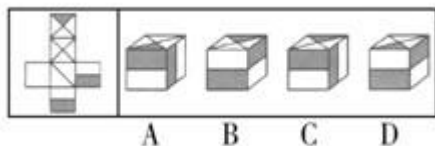
【答案】A



【考点】素个数

【解析】本题考查的是元素的数量, 已给图形元素的数量为 6, 6, 7, 7, 8, (), 可知下一个图形元素的数量当为 8 个, 所以答案为 A 项。

64. ()

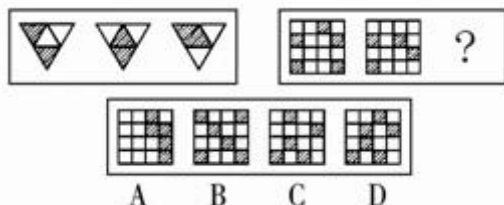


【答案】A

【考点】相邻关系

【解析】观察平面图中的阴影位置, 可知最上面的三角形阴影和最下面的长方形阴影应当相接, 只有 A 项符合, 为正确答案。

65. ()



【答案】A

【考点】运算

【解析】元素组成相似, 元素黑白叠加。前两图黑白叠加形成第三个图形。规则为同色相加为白, 异色相加为黑, 即黑+白=黑, 白+黑=黑, 黑+黑=白, 白+白=白。故正确答案为 A。

二、定义判断。每道题先给出一个概念的定义, 然后分别列出四种情况, 请严格依据定义, 从中选出一个最符合或最不符合该定义的答案。注意: 假设这个定义是正确的。不容置疑的。请开始答题:

66. 因果型预测方法, 是指依据事物运动变化的因果关系, 由已知原因的“脉络估”测未来结果的一种预测方法。

根据上述定义, 下列选项中运用了因果型预测方法的是 ()

- A. 小明的成绩在班级成绩中一直名列前茅, 一定是品学兼优的好学生
- B. 秋粮已连续三年丰收, 根据前一阶段的农业气象条件、平均亩穗数、病虫害发生面积等数据综合分析, 本年度应该是一个丰收年
- C. 河流清澈见底, 说明河水中没有暗涌
- D. 凡是本届奥运会没有获得奖牌的运动员都没有努力训练

【答案】B

【考点】单定义判断

【解析】第一步: 抓住定义中的关键词。定义中强调“未来结果”等。第二步: 逐一判断选项。A、C 项中的判断, 都是针对现象进行当下状态的判断; B 项中本年度是否丰收为未来结果, 符合定义关键词; D 项是由结果对过去状态进行判断, 都不符合定义。故正确答案



为B。

67. 行政决策, 是指行政机关和行政领导者在处理政务时, 从公共利益和公平公正原则出发, 依照法律和有关规定所作出的决定性的行政行为。根据上述定义, 下列选项中不属于行政决策的是 ()

- A. 五平镇政府为降低能耗, 制定了关于改变居民家居取暖燃料结构的详细实施办法
- B. 某项国家重点工程项目需占用某市农民土地, 市政府为此制定了征用农民土地的政策
- C. 针对能否收取开瓶费等问题, 江苏省苏州市消费者协会、苏州餐饮业商会共同制定《苏州市规范餐饮业经营行为办法》
- D. 1997年亚洲金融风暴危机中, 为继续保持稳定的汇率政策, 防止亚洲国家陷入新一轮金融动荡, 中国政府公开做出人民币不贬值的承诺

【答案】C

【考点】单定义判断

【解析】本题要求选出“不属于”行政决策的一项。C项中的消费者协会、餐饮业商会不属于政府行政机关, 所以答案为C项。

68. 危机管理策划, 是指为防止爆发危机或者危机发生后为减少、消除危机带来的风险与损失, 通过策划手段使人更有效地掌握事物和社会舆论的一些办法与措施的综合过程。

根据上述定义, 下列选项中不属于危机管理策划的是 ()

- A. 得知台风即将登陆, 当地政府发出禁止渔民出海的紧急通知
- B. 为防止比赛中发生不测, 事先预备了足够的水、急救设备并配备医护人员
- C. 企业出现危机, 迅速拍卖名下部分资产, 获取了流动资金, 避免了破产
- D. 房屋突然坍塌, 小刘由于身材矮小, 加之跑得快, 在缝隙中躲过一劫

【答案】D

【考点】单定义判断

【解析】本题要求选出“不属于”危机管理策划的一项。房屋突然坍塌是无法预料的, 而小刘躲过一劫是因为他身材矮小等原因, 而非定义中所述“通过策划手段”, 所以答案为D项。

69. 侧向思维方法, 是指利用其他领域的观念、知识或方法来寻找解决本领域某个问题的可能途径和思路的一种方式。

根据上述定义, 下列选项中没有运用侧向思维方法的是 ()

- A. 格拉塞通过观察啤酒冒泡的现象, 提出了汽泡室的设想
- B. 鲁班由茅草的细齿刮破手指而发明了锯
- C. 奥地利的医生奥恩布鲁格, 受到凭敲酒桶叩击声就能知道桶内有多少酒的启发, 想出以“叩诊”的方法诊断人体胸腔中是否有积水
- D. 居里夫人根据实验室中看到的蓝光, 发现了天然放射性元素镭

【答案】D

【考点】单定义判断

【解析】本题要求选出“没有”运用侧向思维方法的一项。居里夫人在实验室中看到的蓝光属于镭本身的特性, 为通过观察本领域内某种现象而受到启发做出重大发现的, 而非定义所述“利用其他领域的观念”, 所以答案为D项。



70. 商业贿赂行为, 是指经营者在市场交易活动中, 为争取交易机会, 特别是为获得相对于竞争对手的市场优势, 通过秘密给付财物或者其他报偿等不正当手段收买客户的负责人、雇员、合伙人、代理人和政府有关部门工作人员等能够影响市场交易的有关人员的行为。根据上述定义, 下列选项中属于商业贿赂行为的是 ()

- A. 某建筑商出资 100 万元建立孤儿院, 树立良好社会形象, 后来在市政府项目招标中中标
- B. 政府官员小王为其同学优先办理项目审批手续
- C. 医生李某高价购进国外医疗设备, 提供设备的厂商为李某国外读书的女儿免费提供一年食宿
- D. 某品牌啤酒厂商在商场为其啤酒并不存在的功效做宣传

【答案】C

【考点】单定义判断

【解析】A 项中建筑商的行为属于社会公益, B 项属于政府部门工作人员的违法行为, D 项属于欺诈行为, 所以答案为 C 项。

71. 技术转移, 是指技术成果从一个企业、一个机构转移到其他企业、机构的活动。大范围的技术转移就形成技术扩散。根据以上的定义, 下列不是技术转移的是 ()

- A. F 公司的一个部门负责人把一些经验传授给新加入的同事
- B. S 大学的一个实验室最近通过研究开发出一种节能的新技术, 他们把这一技术有偿地转让给了 D 企业
- C. P 公司通过出售、或是授权转让专利或其他知识产权、技术给其他公司
- D. 知识从产生知识的地方向使用知识的地方转移

【答案】A

【考点】多定义判断

【解析】本题要求选出“不是”技术转移的一项。A 项的推广在公司内部进行, 与定义所述“从一个企业、一个机构转移到另一个企业、机构的行动”不符, 所以答案为 A 项。

72. 暗示效应, 是指在无对抗的条件下, 用含蓄、抽象诱导的间接方法对人们的心理和行为产生影响, 从而诱导人们按照一定的方式去行动或接受一定的意见, 使其思想、行为与暗者期望的目标相符合。

根据上述定义, 下列选项中属于没有产生暗示效应的是 ()

- A. 课堂上同学们仍在讨论课间的话题, 正在讲课的老师停了下来, 教室里立刻鸦雀无声
- B. 70 多岁的张奶奶一个劲儿念叨着“我孙子快回来了”, 没过多久, 孙子果然回来看望她
- C. 森林里, 老猎户一声不响地走着, 大家紧随其后
- D. 自从班主任在班会上表扬小红学习进步快之后, 小红学习更加努力了

【答案】B

【考点】单定义判断

【解析】本题要求选出“没有”产生暗示效应的一项。B 项中老奶奶的念叨不可能对外地的孙子的心理和行为产生影响, 只是属于巧合, 不符合定义。其余三项均符合定义。

73. 无公害蔬菜, 是指应用微生物农药、农用抗生素等生物防治措施及高效低毒、低残留的化学农药综合防治蔬菜病虫害, 使农药残留量低于国家规定允许食用标准的蔬菜。

根据上述定义, 下列选项中说法正确的是 ()



- A. 无公害蔬菜必须使用微生物农药
- B. 农用抗生素允许使用
- C. 化学农药只要高效低毒就可以使用
- D. 无公害蔬菜可放心食用, 绝对不会对身体有一点伤害

【答案】B

【考点】单定义判断

【解析】定义中说明可采用微生物农药、农用抗生素等, 并非必须使用微生物农药, 排除 A 项。定义中讲明不仅高效低毒, 还要求必须“低残留”, 排除 C 项。定义中说明“使农药残留理低于国家规定允许食用标准”, 意指该蔬菜中仍有农药残留, 所以对身体也仍能造成伤害, 而非一点都没有, 排除 D 项, 所以答案为 B 项。

74. 绿色科技, 是指以提倡文明的生活方式和适度的消费方式, 强调自然资源的合理开发和循环利用, 发展清洁生产技术、无污染的绿色产品, 企业实行绿色管理和对环境的治理, 保持人类社会可持续发展的科学技术。

根据上述定义, 下列选项中不是发展绿色科技的手段是 ()

- A. 工业产品减少用料的小型化
- B. 厂房减少占地实现多功能化
- C. 废物的高回收利用化
- D. 降低生产原材料经济成本

【答案】D

【考点】单定义判断

【解析】本题要求选出“不是”发展绿色科技手段的一项。A 项中的减少用料、B 项中的减少占地、C 项中的废物高回收都符合定义中合理开发和循环利用自然资源的要求。D 项中的降低经济成本属于成本控制范畴, 与定义无关。故正确答案为 D。

75. 个人独资企业, 是指依法设立, 由一个自然人投资, 财产为投资人个人所有, 投资人以其个人财产对企业债务承担无限责任的经营实体。

根据上述定义, 下列选项中叙述正确的是 ()

- A. 李某以个人积蓄出资办厂, 后企业经营不善, 无法偿付到期债务, 债权人追至李某家里, 要求其家人替李某偿还债务
- B. 小明患有小儿麻痹症, 但不影响他成为个人独资企业的投资人
- C. 晓辉, 15 岁, 头脑灵活, 利用多年的“压岁钱”出资成立个人独资企业
- D. 因香烟利润丰厚, 龙某决定成立个人独资企业专卖自家土制香烟

【答案】B

【考点】单定义判断

【解析】A 项中的李某以个人积蓄办厂, 则应以其“个人财产”对企业承担责任, 他的家人无须承担该项责任, 排除 A 项。C 项中的晓辉 15 周岁, 属于限制民事行为能力人, 他不可以以个人名义出资成立个人独资企业。D 项中香烟属于国家专卖, 个人不可涉足。所以答案为 B 项。

三、类比推理。每道题先给出一组或多组相关的词。要求你在备选答案中找出一组与之在逻辑关系最为贴近、相似或匹配的词。

请开始答题:

76. 《文心雕龙》: 刘勰 ()

- A. 《汉书》: 班固
- B. 《国语》: 孟子
- C. 《诗经》: 屈原
- D. 《孔雀东南飞》: 陶渊明



【答案】 A

【考点】 对应关系

【解析】 《文心雕龙》是刘勰的作品。《汉书》是班固的作品。《国语》相传为左丘明所著, 《诗经》是我国最早的诗歌总集, 为乐府收集整理而成。《孔雀东南飞》大致创作于东汉献帝年间, 作者不详, 陶渊明是东晋末期人, 不可能为《孔雀东南飞》的作者, 所以答案为 A 项。

77. 酱油: 食盐 ()

- A. 动物: 熊猫 B. 双软马车: 手推车 C. 鸡精: 味精 D. 房间: 大厅

【答案】 C

【考点】 并列关系

【解析】 酱油与食盐都是调味品, 而且功能相似, 只有 C 项一致, 为正确答案。

78. 夸脱: 牛奶 ()

- A. 泉水: 汽水 B. 木头: 家具 C. 吨: 货车 D. 盎司: 黄金

【答案】 D

【考点】 对应关系

【解析】 夸脱是牛奶的计量单位, 且为西方使用。盎司是黄金的计量单位, 且为西方使用。所以答案为 D 项。

79. 破釜沉舟: 项羽 ()

- A. 望梅止渴: 袁绍 B. 陈桥兵变: 赵括 C. 焚书坑儒: 嬴政 D. 背水一战: 韩当

【答案】 C

【考点】 对应关系

【解析】 这道题考查的是历史事件与历史人物的配对。项羽在漳河畔破釜沉舟。曹操讨伐张绣途中, 因热无水, 而被迫用计令士卒望梅止渴, 与袁绍无关。陈桥兵变, 宋太祖赵匡胤黄袍加身, 从而称帝, 建立宋王朝, 与纸上谈兵的赵括无关。嬴政即秦始皇, 统一六国后为统一思想, 焚书坑儒。汉初韩信为破项羽, 在井陘口背水一战, 大破赵军, 与三国时期的吴国名将韩当无关。所以答案为 C 项。

80. 馒头: 面粉 ()

- A. 毛笔: 宣纸 B. 衣服: 布料 C. 运动员: 教练 D. 飞机: 导弹

【答案】 B

【考点】 包容关系

【解析】 馒头是面粉做成的, 衣服是布料做成的, 所以答案为 B 项。

81. 报纸: 《福建日报》 ()

- A. 茶: 武夷岩茶 B. 汗水: 水 C. 树: 树叶 D. 奶茶: 咖啡

【答案】 A

【考点】 包含关系

【解析】 福建日报是报纸中的一种, 武夷岩茶是茶的一种。所以答案为 A 项。

82. 警察: 公务员 ()



- A. 白人: 妇女 B. 棉花: 棉籽 C. 足球: 运动 D. 跳舞: 行为

【答案】 C

【考点】 包含关系

【解析】 警察是公务员的一种, 足球是运动的一种, 所以答案为 C 项。

83. 伊妹儿: 电子邮件 ()

- A. 算账: 结账 B. 引擎: 发动机 C. 炒鱿鱼: 解雇 D. 可可: 巧克力

力

【答案】 B

【考点】 全同关系

【解析】 伊妹儿是电子邮件的音译词, 引擎是发动机的音译词。所以答案为 B 项。

84. 法官: 判案 ()

- A. 音响: 音乐会 B. 学生: 自学 C. 顾客: 就餐 D. 教师: 授课

【答案】 D

【考点】 对应关系

【解析】 法官的工作是判案, 教师的工作是授课, 所以答案为 D 项。

85. WHO: WTO ()

- A. APEC: OPEC B. DNA: H5N1 C. GDP: R&D D. SKYPE: MSN

【答案】 A

【考点】 并列关系

【解析】 WHO 是世界卫生组织, WTO 是世界贸易组织。APEC 是亚太经合组织, OPEC 是石油输出国组织。DNA 是脱氧核糖核酸链, H5N1 是禽流感病毒。GDP 是国内生产总值, R&D 指“研究与开发”、“研究与发展”或“研究与试验性发展”。SKYPE 是网络语音沟通工具, MSN 是微软公司推出的即时消息软件。所以答案为 A 项。

四、事件排序。每道题给出五个事件, 每个事件以简短语句表达, 接着给出表示事件的五种假定发生顺序的五个数字序列, 请你选择其中最合乎逻辑的一种事件排序。

请开始答题:

86. (1) 撰写文稿 (2) 压缩文档 (3) 突发灵感 (4) 发送电子邮件 (5) 开启电脑 ()

- A. 3—5—1—2—4 B. 2—5—3—1—4 C. 1—2—5—4—3 D. 3—2—1—5—4

【答案】 A

【考点】 逻辑顺序

【解析】 这道题描述的是从有灵感到写作再到发出稿件的过程, 可知该文件是电子格式, 所以在 (3) 突发灵感后, 应当是 (5) 开启电脑, 而后 (1) 撰写文稿, 再然后是 (2) 压缩文档, 最后是 (4) 发送电子邮件, 所以答案为 A 项。

87. (1) 爬行动物出现 (2) 无脊椎动物出现 (3) 哺乳动物出现 (4) 病毒与细菌出现 (5) 两栖动物出现 ()

- A. 2—4—5—3—1 B. 5—4—2—1—3 C. 4—2—3—1—5 D. 4—2—5—1—3

【答案】 D

【考点】 时间顺序



【解析】 这道题描述的是地球上的生命史, 最先出现的当然是 (4) 病毒与细菌, 而后是 (2) 无脊椎动物, 再然后是 (5) 两栖动物, 由水中向陆地过渡, 再然后是 (1) 爬行动物, 最后是 (3) 哺乳动物。所以答案为 D 项。

88. (1) 项目实施 (2) 项目论证 (3) 确定中标单位 (4) 正式立项 (5) 公开招标 ()

A. 2—4—5—3—1 B. 1—2—5—3—4 C. 4—2—3—1—5 D. 5—2—3—4—1

【答案】 A

【考点】 逻辑顺序

【解析】 这道题描述的是项目开始前的准备工作, 所以首先应当是 (2) 项目论证, 接着是 (4) 正式立项, 然后是 (5) 公开招标, 招标后自然是 (3) 确定中标单位, 最后是 (1) 项目实施。所以答案为 A 项。

89. (1) 公文签发 (2) 公文校核 (3) 公文归档 (4) 公文审批 (5) 公文起草 ()

A. 4—5—2—1—3 B. 5—4—3—1—2 C. 5—2—4—1—3 D. 2—4—5—1—3

【答案】 C

【考点】 首尾顺序

【解析】 这道题描述的是公文从开始撰写到最后归档的过程。第一部当然是 (5) 公文起草, 然后是 (2) 公文校核, 接下去就应该是 (4) 公文审批, 再然后是 (1) 公文签发, 最后是 (3) 公文归档。所以答案为 C 项。

90. (1) 表明身份 (2) 制作当场处罚决定书 (3) 听取陈述、申辩 (4) 说明处罚理由 (5) 制作笔录 ()

A. 1—2—4—3—5 B. 5—4—1—3—2 C. 3—4—5—2—1 D. 1—4—3—5—2

【答案】 D

【考点】 首尾顺序

【解析】 这道题描述的是公务人员执法过程。首先应当 (1) 表明身份, 而后是 (4) 说明处罚理由, 接下去自然要 (3) 听取陈述、申辩, 并且 (5) 制作笔录, 最后是 (2) 制作当场处罚决定书。所以答案为 D 项。

91. (1) 城市内涝 (2) 奋力排涝 (3) 连降暴雨 (4) 险情解除 (5) 台风来袭 ()

A. 2—3—4—1—5 B. 1—5—3—2—4 C. 5—3—2—1—4 D. 5—3—1—2—4

【答案】 D

【考点】 首尾顺序

【解析】 这道题描述的是发洪水到洪水撤退的过程。所以首先陈述原因 (5) 台风来袭, 而后是第一步的结果 (3) 连降暴雨, 而暴雨的结果即为 (1) 城市内涝, 那自然要 (2) 奋力排涝, 排涝后即 (4) 险情解除。所以答案为 D 项。

92. (1) 拘传 (2) 拘留 (3) 取保候审 (4) 逮捕 (5) 监视居住 ()

A. 1—3—5—2—4 B. 1—3—4—2—5 C. 5—4—2—1—3 D. 5—2—1—3—4

【答案】 A



【考点】逻辑顺序

【解析】拘传是指公安机关, 人民检察院、人民法院对未被羁押的犯罪嫌疑人, 被告人强制其到案的接受讯问的一种强制方法。取保候审指人民法院、人民检察院或公安机关责令某些犯罪嫌疑人、刑事被告人提出保证人或者交纳保证金, 保证随传随到的强制措施, 要求未经允许不得离开所在市、县。监视居住是指人民法院、人民检察院、公安机关在刑事诉讼中限令犯罪嫌疑人、被告人在规定的期限内不得离开住处或者指定的居所, 并对其行为加以监视、限制其人身自由的一种强制措施。拘留是指公安机关或人民检察院在刑事案件侦查中, 对现行犯或重大嫌疑分子, 暂时采取的强制措施。公安机关对于被拘留的人, 应当在拘留后的二十四小时以内进行讯问。逮捕指公安机关经人民检察院或人民法院批准, 为了防止犯罪嫌疑人或者被告人实施妨碍刑事诉讼的行为, 逃避侦查、起诉、审判或者发生社会危险性, 而依法暂时剥夺其人身自由的一种强制措施。所以由强制程度从轻至重, 可知 A 项为正确答案。

93. (1) 工作试点 (2) 公布实施 (3) 提出暂行方案 (4) 发现问题
(5) 修改完善 ()

- A. 4—3—1—5—2 B. 4—5—2—1—3 C. 3—1—4—2—5 D. 2—4—5—1—3

【答案】A

【考点】首尾顺序

【解析】这道题描述的是工作过程。首先是 (4) 发现问题, 而后是 (3) 提出暂行方案, 为了验证暂行方案的可行性, 必须 (1) 工作试点, 从中发现的不足之处自然要 (5) 修改完善, 最后是 (2) 公布实施。所以答案是 A 项。

94. (1) 伦敦奥运会 (2) 雅典奥运会 (3) 亚特兰大奥运会 (4) 北京奥运会
(5) 悉尼奥运会 ()

- A. 1—4—2—3—5 B. 4—3—2—1—5 C. 3—1—2—5—4 D. 3—5—2—4—1

【答案】D

【考点】时间顺序

【解析】亚特兰大奥运会于 1996 年举办, 悉尼奥运会于 2000 年举办, 雅典奥运会于 2004 年举办, 北京奥运会于 2008 年举办, 伦敦奥运会曾于 1908 年、1948 年举办, 将于 2012 年再度举办。由此可知答案为 D 项。

95. (1) 客户起诉索赔 (2) 重返国际市场 (3) 企业反思、整改 (4) 采用绿色
有机种植技术 (5) 茶叶农药残留物超标 ()

- A. 5—1—3—4—2 B. 4—5—1—3—2 C. 5—1—2—3—4 D. 5—4—1—2—3

【答案】A

【考点】首尾顺序

【解析】这道题描述的是企业发生问题后的解决与结果。首先发生了问题 (5) 茶叶农药残留物超标, 导致 (1) 客户起诉索赔, 于是 (3) 企业反思、整改, 再然后 (4) 采用绿色有机种植技术, 最后 (2) 重返国际市场。所以答案为 A 项。

五、逻辑判断。每道题给出一段陈述, 这段陈述被假设是正确的, 不容置疑的。要求根据这段陈述, 选择一个答案。注意: 正确的答案应与所给的陈述相符合, 不需要任何附加说明即可以从陈述中直接推出。

请开始答题:



96. 某车站并排停着两列待发的列车甲和乙。过了一会儿, 甲车内的乘客看见车外树木向东移动, 乙车内的乘客通过车窗看到甲车没动。

如果以地面为参照物, 上述乘客所看到的甲乙两车运动情况说明 ()

- A. 甲列车向西运动, 乙列车静止不动
- B. 甲列车向西运动, 乙列车向东运动
- C. 乙列车向西运动, 甲列车不动
- D. 甲乙两列车同时同速向西运动

【答案】D

【考点】主题一致原则

【解析】根据甲车内的乘客看到树木向东移动, 可知甲车向西行驶, 根据乙车内的乘客看甲车不动, 可知甲乙两车保持相对静止, 可知甲乙两车必是同时同速向西运动。所以答案为D项。

97. 一列火车在平直的轨道上做匀速直线运动, 从车厢顶部某一点先后落下 a、b 两个小球, 站在路旁的人看来, 它在空中的相对位置如下图中的甲、乙、丙所示。

则正确的是 ()



- A. 图甲
- B. 图乙
- C. 图丙
- D. 无法判断

【答案】B

【考点】单观点

【解析】列车是在进行匀速直线运动, 所以两个小球水平运动方向也应当与列车相对静止, 在竖直方向上做自由落体运动。所以答案为B项。

98. 塑料垃圾难以被自然分解, 这一直令人类头痛。近年来, 许多易于被自然分解的塑料代用品纷纷问世, 这是人类为减少塑料垃圾所做的一种努力。但是, 这种努力几乎没有成效。据统计, 近年来全球范围内大多数垃圾处理公司每年填埋的垃圾中塑料垃圾的比例未减反增。

以下选项如果为真, 最能削弱上述论证的是 ()

- A. 近年来, 由于实行了垃圾分类, 越来越多过去被填埋的垃圾被回收利用了
- B. 塑料代用品利润很低, 生产商缺乏投资的积极性
- C. 近年来, 用塑料包装的商品品种有了很大的增长
- D. 上述垃圾处理公司绝大多数属于发达或中等发达国家

【答案】A

【考点】双观点

【解析】本题要求选出最能“削弱”的一项, A项提到越来越多过去被填埋的垃圾被回收利用, 意味着被填埋的垃圾中塑料垃圾的比例增加, 但塑料垃圾的总量并不一定增加, 对文段的结论起到了削弱作用。所以答案为A项。B项中塑料代用品利润很低, 生产商缺乏投资的积极性, 与塑料垃圾数量无直接关系, 属无关选项; C项中塑料包装的商品品种有了很大的增长, 说明塑料垃圾数量增多, 加强了题干论证; D项中垃圾处理公司的位置, 与塑料垃圾数量无直接关系, 属无关选项。

99. 法人或者其他组织的法定代表人、负责人超越权限订立的合同, 除相对人知道或者



应当知道其超越权限的以外, 该代表行为有效。

由上述文字可推出 ()

- A. 相对人不是应当知道并且不知道其越权与自己订立合同时, 法人的负责人的代表行为无效
- B. 相对人知道或者应当知道其越权与自己订立合同时。法人的负责人的代表行为有效
- C. 相对人不知道其越权与自己订立合同时, 法人的负责人的代表行为有效
- D. 相对人并非应当知道其越权与自己订立合同时。法人的负责人的代表行为有效

【答案】 C

【考点】 主题一致原则

【解析】 题干可转化为充分条件的命题, 即如果其行为无效, 说明相对人知道或者应当知道其越权, 则其行为无效。可翻译为无效 \Rightarrow (知道 \vee 应当知道), \neg 知道 \wedge \neg 应当知道 \Rightarrow \neg 无效, 由题干推导关系的逆否规则可知“ \neg (知道 \vee 应当知道) \Rightarrow \neg 无效”, 所以答案为 C 项。

100. 在公共场所、道旁挖坑等地面施工中, 没有采取设置明显警示标志等安全措施造成行人损害的, 适用过错推定责任。即在行人证明了自己受到的损害是由施工人的行为引起的之后, 如果施工人不能证明自己无过错, 就认定施工人有过错。

由上述文字可以推出地面施工致人损害时 ()

- A. 受害人有义务证明自己受到了损害
- B. 受害人有义务证明损害由施工人的行为引起
- C. 受害人有义务证明自己无过错但没有义务证明施工人有过错
- D. 施工人有义务证明自己无过错, 受害人没有义务证明自己无过错

【答案】 B

【考点】 主题一致原则

【解析】 由文段中“行人证明了自己受到的损害是由施工人的行为引起的”可知受害人有义务证明损害由施工人的行为引起。答案为 B 项。

101. 轿车的减震系统越“硬”, 跑高速、过弯道车身越稳。“路通”汽车销售公司的销售人员据此向制造商建议, 为了提高销量, 应将“路通”公司所售轿车减震系统设计得更“硬”一些。

以下各项如果为真, 最能支持上述建议的是 ()

- A. 目前市场上畅销轿车的减震系统比“路通”公司销售的轿车更“硬”
- B. 德国轿车减震系统比较“硬”, 德国车是好车
- C. 很多人认为减震系统“硬”会使汽车颠簸, 还是“软”些好
- D. 近来喜欢“硬”的减震系统的开始多起来, 尤其是年轻的开车族

【答案】 D

【考点】 双观点

【解析】 论点是减震系统应该更“硬”一些, 论据是减震系统越“硬”, 跑高速、过弯道车身越稳。由喜欢“硬”的减震系统的消费者开始多起来, 可知将轿车减震系统设计得更“硬”一些有助于提高销量, 所以答案为 D 项。

102. 学校的教授中有一些是足球迷, 学校预算委员会的成员一致要求把学校的足球场改建为办公楼, 而所有的足球迷都强烈反对这样做。

由此可以得出 ()



- A. 学校预算委员会的成员并非都是学校的教授
- B. 学校所有的教授都是学校预算委员会的成员
- C. 学校有的教授不是学校预算委员会的成员
- D. 学校预算委员会有的成员是足球迷

【答案】C

【考点】充分条件

【解析】由学校预算委员会的成员“一致”要求改建, 以及“所有的”足球迷都反对, 可知学校预算委员会成员没有一个是足球迷, 排除 B、D 项。A 项中“学校预算委员会成员”否定了后件, 但是在翻译推理中“有的”不能进行逆否, 因此 A 无法判断, 不能选。由文段无法得出学校预算委员会的成员是否都是学校的教授, 但可以推知的是, 是足球迷的那部分教授必然不是学校预算委员会的成员, 所以答案为 C 项。

103. 我国正处于人均 GDP 从 100 美元到 3000 美元的过渡期, 在加快工业化的进程中, 人们对物质文化的需求不断提高。但是, 目前政府提供公共产品和公共服务不足, 这与人民群众日益增长的社会公共需求不适应。

如果下面各项内容是真, 不能加强上述论述的选项是 ()

- A. 2004 年底, 全国参加基本养老保险、失业保险、医疗保险的人数约占全国就业人员总数 74432 万人的 21.96%、14.22% 和 16.64%
- B. 2004 年, 44.8% 的城镇人口和 79.1% 的农村人口没有任何医疗保障
- C. 2004 年, 公共卫生保健支出占 GDP 的比重, 中低收入国家的平均水平为 2.6%, 而我国为 1.9%
- D. 2004 年, 中央政府财政收入占财政总收入的 54.9%, 地方政府财政收入占财政总收入的 45.1%; 中央财政支出占财政总支出的 27.8%, 地方政府财政支出占总支出的 72.2%

【答案】D

【考点】双观点

【解析】本题要求选出“不能加强”上述论证的一项。A、B、C 项均可以得出题干结论, D 项中所列举的数据是财政收入与财政支出的构成, 与文段所述问题无关, 所以答案为 D 项。

104. 在过去相当长的一段时期, 我们一直把苏联模式的社会主义当作标准的社会主义, 但从上世纪八十年代开始, 人们开始重新思考“什么是社会主义, 怎样建设社会主义”, 以及“社会主义是不是只能有苏联那样一种模式”等问题。

此段话的逻辑前提是 ()

- A. 苏联同美国进行军事竞争
- B. 苏联戈尔巴乔夫进行政治变革
- C. 苏联的社会主义理论遭到英美国家政治评论家的抨击
- D. 苏联模式的社会主义日益暴露出弊端

【答案】D

【考点】单观点

【解析】只有苏联模式的社会主义日益暴露出弊端, 才会使我国的一些人开始重新思考“什么是社会主义, 怎样建设社会主义”等一系列问题, 所以答案为 D 项。

105. 政府应该履行经济调节和市场监管的职能, 努力实现政企分开、政资分开、政事分开、政府与市场中介组织分开, 主要运用经济和法律手段管理经济活动。政府部门的主要职责就在于提供基本公共服务, 维护社会公平, 创造并维持良好的市场环境, 促使市场经济稳定运行。



下列选项最能支持上述信息的一项论断是 ()

- A. 市场经济条件下政府不能再从事具体的经济活动或进行微观经济管理
- B. 市场经济的条件下政府的作用较之计划经济时更为弱化了
- C. 政府的作用在于防止和弥补市场失灵, 提供市场经济正常运行的基本条件, 以确保经济的平稳发展
- D. 推行行政管理体制改革, 就是要加快形成行为规范、运转协调、公正透明、廉洁高效的行政管理体制

【答案】 C

【考点】 双观点

【解析】 C项所列的政府职能决定了政府实现政企分开、政资分开、政事分开的必然性, 是文段论述所依据的基础与根本, 最能支持文段的论述。所以答案为C项。

第四部分 数量关系

(共 10 题, 参考时限 10 分钟)

本部分包含两种类型的试题, 为单项选择题, 每题 0.7 分。共 7 分。

一、数字推理。给出一组数, 但其中缺少一项。要求仔细观察这组数的排列规律。然后从四个供选择的选项中选择最合理的一项, 来填补空缺项, 使之符合这组数的排列规律。

请开始答题:

106. 1, 2, 6, 15, ()

- A. 19
- B. 24
- C. 31
- D. 27

【答案】 C

【考点】 特殊差级

【解析】 做一次差运算, 得出新数列为 1, 4, 9, (), 是一组平方数列, 所以下一项当为 16, 倒算回去可知 C 项为正确答案。

107. $\frac{2}{7}, \frac{3}{8}, -\frac{1}{7}, -\frac{3}{16}, (), \frac{3}{32}$ 。

- A. $\frac{3}{7}$
- B. $\frac{32}{14}$
- C. $\frac{2}{19}$
- D. $\frac{1}{14}$

【答案】 D

【考点】 分数数列

【解析】 这是一组奇偶项数列。偶数项数列为, $\frac{3}{8}, -\frac{3}{16}, \frac{3}{32}$, 是一组公比为 $-\frac{1}{2}$ 的等比数列。奇数项数列为 $\frac{2}{7}, -\frac{1}{7}, ()$, 也是一组公比为 $-\frac{1}{2}$ 的等比数列, 括号内当为 $\frac{1}{14}$, 答案为D项。

108. 2.7, 10^2 , 4.2, 10^3 , 5.7, 10^5 , 7.2, 10^7 , ()

- A. 8.7, 10^9
- B. 8.3, 10^9
- C. 8.7, 10^{11}
- D. 8.3, 10^{11}

【答案】 C

【考点】 交叉数列

【解析】 这是一组奇偶项数列。奇数项为 2.7, 4.2, 5.7, 7.2, (), 是一组公差为 1.5 的等差数列, 下一项当为 8.7。偶数项为 $10^2, 10^3, 10^5, 10^7, ()$, 是一组幂数列, 而各项的



指数是一组质数数列, 下一项当为 10^{11} 。所以答案为 C 项。

109. $\frac{1}{2}, \frac{1}{6}, \frac{1}{12}, \frac{1}{20}, ()$

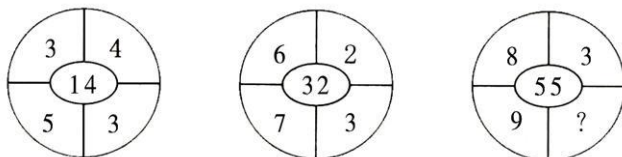
- A. $\frac{1}{24}$ B. $\frac{1}{28}$ C. $\frac{1}{30}$ D. $\frac{1}{40}$

【答案】C

【考点】分数数列

【解析】这是一组分数数列, 分子是一组常数数列, 常数为 1, 分母数列为 2, 6, 12, 20, (), 做一次差运算得出新数列为 4, 6, 8, (), 是一组偶数数列, 所以括号内当为 10, 倒算回去可知 C 项为正确答案。

100. ()



- A. 11 B. 2 C. 4 D. 5

【答案】C

【考点】饼状图数列

【解析】图形内数字的规律为 $(3+4) \times (5-3) = 14$, $(6+2) \times (7-3) = 32$, $(8+3) \times (9-?) = 55$, 问号处当为 4, 所以答案为 C 项。

二、数学运算。在这部分试题中。每道题呈现一段表达数字关系的文字。要求计算出正确答案(可以直接在题本上运算)。请开始答题:

111. 三位数的自然数 P 满足: 除以 7 余 2, 除以 6 余 2, 余以 5 也余 2, 则符合条件的自然数 P 有 ()

- A. 2 个 B. 3 个 C. 4 个 D. 5 个

【答案】C

【考点】余数口诀类

【解析】根据口诀: 余同取余, 和同加和, 差同减差, 最小公倍数做周期。三位数 P-2 即可被 7、6、5 整除, 7、6、5 的最小公倍数为 210, 则其他满足条件的数必为 210 的整数倍, 且可保证为三位数, 即 420, 630, 840, 那么 P 即为 212, 422, 632, 842, 所以答案为 C 项。

112. 一项工程原计划 450 人 100 天完成, 现在需要提前 10 天, 需要增加的人数是 ()

- A. 45 B. 50 C. 55 D. 60

【答案】B

【考点】赋值法计算

【解析】由该工程计划 450 人 100 天完成可知, 设每天每人工作量为 1, 则总工程量为 $450 \times 100 = 45000$, 提前 10 天完成则需要的人数是 $45000 \div (100-10) = 500$ 人, 需要增加 $500-450=50$ 人。



113. 调查发现, 男女生各半的一个 100 人的班, 20% 患有色盲症, 其余正常; 如果女生有色盲 5 人, 则正常男生的人数是 ()

- A. 15 B. 30 C. 35 D. 40

【答案】C

【考点】一元一次方程

【解析】 $100 \times 20\% = 20$ 人, 则男生患色盲的人数为 $20 - 5 = 15$ 人, 这个班级男女生各半, 男生人数为 50 人, 则正常男生人数为 $50 - 15 = 35$ 人, 所以答案为 C 项。

114. 假设一条路上每隔 10 公里就有一个自然村, 共有 5 个自然村, 依次在一至五号这 5 个自然村收购粮食重量为 10 吨、15 吨、20 吨、25 吨、30 吨; 现要选一自然村设立临时粮站来贮存粮食, 已知每吨粮食运输费为 0.5 元 / 公里。要让运输费用最少, 则临时粮站应选在 ()

- A. 五号 B. 四号 C. 三号 D. 二号

【答案】B

【考点】统筹问题

【解析】由题意可知, 最短距离为 10 公里, 最长距离为 40 公里, 因为要费用最低, 优先考虑该收粮站设在收粮最多的村, 即五号村, 一号村的粮食所需支付的费用为 $10 \times 0.5 \times 40 = 200$ 元, 而五号村的粮食如果运送 10 公里的话, 费用为 $30 \times 0.5 \times 10 = 150$ 元, 小于一号村运送至五号村的距离。所以将收粮站设在四号村最合理。其费用为 $10 \times 0.5 \times 30 + 15 \times 0.5 \times 20 + 20 \times 0.5 \times 10 + 150 = 150 + 150 + 100 + 150 = 550$ 元。所以答案为 B 项。

115. 某项射击资格赛后的统计表明, 某国四名运动员中, 三名运动员的平均环数加上另一运动员的环数, 计算后得到的环数分别为: 92、114、138、160, 则此国四名运动员资格赛的平均环数是 ()

- A. 63 B. 126 C. 168 D. 252

【答案】A

【考点】多元一次方程组

【解析】设四名运动员的射击环数分别为 a, b, c, d , 根据题目中所提供的信息, 列出算式为 $(a+b+c) \div 3 + (a+b+d) \div 3 + (a+c+d) \div 3 + (b+c+d) \div 3 + a+b+c+d = 92 + 114 + 138 + 160$, 可知 $a+b+c+d = 252$, 其平均值为 $(a+b+c+d) \div 4 = 252 \div 4 = 63$, 所以答案为 A 项。

第四部分结束, 请继续做第五部分!

第五部分 资料分析

(共 15 题, 参考时限 15 分钟)

所给出的图、表、文字资料有若干个问题。请根据资料提供的信息。分析、比较、计算和判断处理。每题 0.8 分。共 12 分。请开始答题:

一、根据以下资料回答 116~120 题。

F 省 2007 年全年实现地区生产总值 9160.14 亿元, 其中, 第一产业生产总值 1038.38 亿元, 增长 4.0%; 第二产业生产总值 4508.02 亿元, 增长 18.6%; 第三产业生产总值 3613.74 亿元, 增长 13.8%。人均地区生产总值 25662 元, 比上年增长 14.3%。

居民消费价格总水平比上年上涨 5.2%。其中, 服务价格上涨 1.9%, 商品零售价格上涨 4.3%, 工业品出厂价格上涨 0.8%, 原材料、燃料、动力购进价格上涨 4.3%, 农业生



【答案】 D

【考点】 综合分析

【解析】 本题要求选出“不正确”的一项。A项, 城镇新增就业人员 68 万人, 比预期目标多 3 万人, 可知预期目标为 65 万人, 排除 A 项。B 项, $901.22 \div 1284.27 \approx 70.17\%$, 排除 B 项。C 项, 农业生产资料价格上涨 10.3%, 比上年提高 9.4 个百分点, 所以 2006 年农业生产资料价格上涨 $10.3\% - 9.4\% = 0.9\%$, 排除 C 项。D 项, $644.29 \div (1 + 29.1\%) \approx 499.06$ 亿, 所以答案为 D 项。

二、根据以下资料回答 121~125 题。

F 省 2007 年对主要国家和地区进出口情况

国家和地区	出口额(亿美元)	比上年增长(%)	进口额(亿美元)	比上年增长(%)
香港地区	35.95	17.4	1.38	-7.3
台湾地区	10.79	13.6	58.22	25.0
日本	62.20	3.0	28.72	14.6
韩国	13.25	30.0	24.65	7.8
东盟	41.28	38.6	29.46	21.1
欧盟	105.02	25.8	22.11	11.9
俄罗斯联邦	7.03	41.1	1.87	-2.4
美国	108.67	7.8	26.74	21.2

121. 2006 年 F 省对日本的进口额为 ()

- A. 60.39 亿美元 B. 19.67 亿美元 C. 25.06 亿美元 D. 28.72

亿美元

【答案】 C

【考点】 基期量计算

【解析】 列出算式为 $28.72 \div (1 + 14.6\%) \approx 25.06$ 亿美元, 所以答案为 C 项。

122. 2007 年 F 省对 () 的贸易顺差值最高。

- A. 美国 B. 欧盟 C. 东盟 D. 俄罗斯联邦

【答案】 B

【考点】 简单计算

【解析】 贸易顺差值, 即出口大于进口。对美国的贸易顺差值为 $108.67 - 26.74 = 81.93$ 亿美元; 对欧盟的贸易顺差值为 $105.02 - 22.11 = 82.91$ 亿美元, 排除 A 项。对东盟的贸易顺差值为 $41.28 - 29.46 = 11.82$ 亿美元, 排除 C 项。对俄罗斯联邦的贸易顺差为 $7.03 - 1.87 = 5.16$ 亿美元, 排除 D 项。所以答案为 B 项。

123. 对美国的出口额占 F 省对外贸易总额的比重为 ()

- A. 27.33% B. 28.28% C. 18.32% D. 8.23%

【答案】 C

【考点】 比重计算

【解析】 对外贸易总额为进口、出口总额, 将 F 省对各地的进口、出口额相加得出对外贸易总额为 577.34 亿美元, 列出算式为 $108.67 \div 577.34 \approx 18.82\%$, 所以答案为 C 项。



124. 上表中出口额增长率的排名和对欧盟进口额增长率的排名相同的是 ()。

- A. 日本 B. 香港地区 C. 美国 D. 台湾地区

【答案】 B

【考点】 读数比较

【解析】 观察列表可知, 对欧盟进口额增长率排名为 5, 而出口额增长率排名第 5 的是香港地区, 所以答案为 B 项。

125. 下列选项中描述不正确的是 ()

- A. 对香港地区的进口额为负增长
 B. F 省对外贸易出口的增长高于进口的增长
 C. 2006 年对香港地区的出口额和对韩国的进口额排名相同
 D. 2006 年对日本的出口额和对东盟的进口额排名不同

【答案】 D

【考点】 综合分析

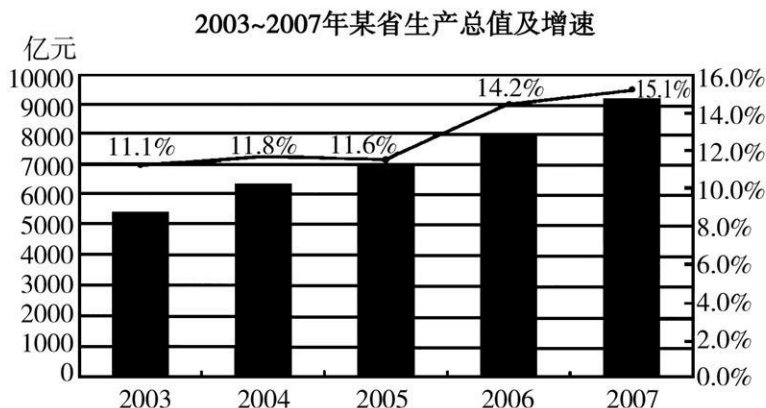
【解析】 本题要求选出“不正确”的一项。A 项, 对香港地区的进口额增长率为-7.3%, 即对香港的进口呈负增长, 排除 A 项。B 项, 对外出口增长率最大为 41.1%, 最小为 3.0%, 且有一半数据都在 20 以上, 进口增长率最大为 25.0%, 最小为-7.3%, 且只有 3 个数在 20 以上, 可知出口增长率远大于进口增长率。

由列表可知, 2006 年 F 省对主要国家和地区进出口情况为:

	2006 年进口额	排名	2006 年出口额	排名
香港地区	30.62	4	1.49	8
台湾地区	9.50	7	46.58	1
日本	60.39	3	25.06	2
韩国	10.19	6	22.87	4
东盟	29.78	5	24.33	3
欧盟	83.48	2	19.76	6
俄罗斯联邦	4.98	8	1.92	7
美国	100.81	1	22.06	5

由上表可知, 对香港地区的出口额排名为 4, 对韩国的进口额排名为 4, 排除 C 项。D 项, 对日本的出口额排名为 3, 对东盟的进口额排名也为 3, 所以答案为 D 项。

三、根据以下资料回答 126~130 题。



126. 2004年该省生产总值为 ()

- A. 5556 亿元 B. 6195 亿元 C. 6272 亿元 D. 6933 亿元

【答案】 C

【考点】 简单计算

【解析】 由 2005 年该省生产总值 7000 亿元可知, $7000 \div (1+11.6\%) \approx 6272.4$ 亿元, 所以答案为 C 项。

127. 该省 2007 年比 2004 年生产总值增长率提高了 ()

- A. 3.3 个百分点 B. 3.6 个百分点 C. 47.5 个百分点 D. 0.3 个百分点

【答案】 A

【考点】 简单计算

【解析】 2007 年的生产总值增长率为 15.1%, 2004 年的生产总值增长率为 11.8%, $15.1\% - 11.8\% = 3.3\%$, 所以答案为 A 项。

128. 按照该省 5 年的平均增速, 预计 2008 年该省生产总值增加额为 ()

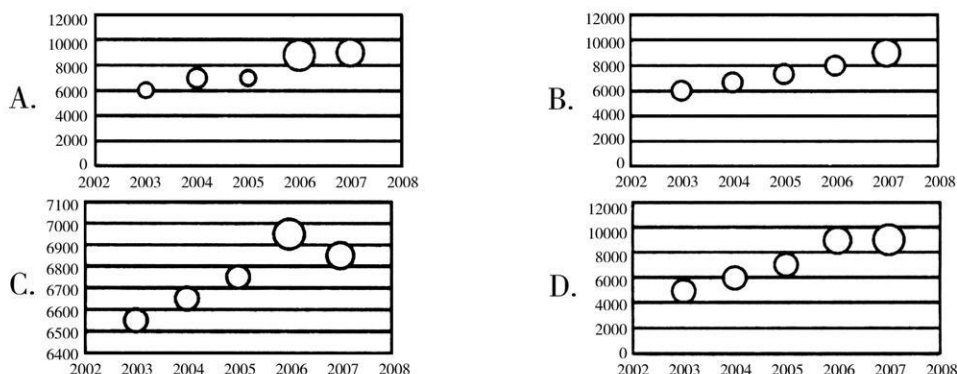
- A. 1383 亿元 B. 10348 亿元 C. 1187 亿元 D. 10544 亿元

【答案】 C

【考点】 增长量计算

【解析】 该省五年的平均增速为 $(11.1\% + 11.8\% + 11.6\% + 14.2\% + 15.1\%) \div 5 = 12.76\%$, 2007 年的生产总值为 $8000 \times (1+14.2\%) = 9136$, 则 2008 年的生产总值为 $9136 \times 12.76\% \approx 1165$ 亿元, 最接近 1187 亿元, 所以答案为 C 项。

129. 下列气泡图中, 气泡的大小表示生产总值的增速, 那么图 () 为该省全省生产总值及增速图。





【答案】D

【考点】读数比较

【解析】根据柱状折线图可知, 2003 年的生产总值是介于 5000 与 6000 亿元之间, 只有 D 项的图符合, 为正确答案。

130. 下列选项中, 说法正确的是 ()

- A. 图中该省这几年生产总值的增速均在提高
- B. 该省 2007 年比 2002 年生产总值翻两番
- C. 该省 2006 年比上一年生产总值增加了 1000 多亿元
- D. 图中有两年的生产总值的增速大于平均增速

【答案】D

【考点】综合分析

【解析】A 项, 2005 年的增速较 2004 年下降, 错误, 排除 A 项。B 项, 2007 年的生产总值为 9136 亿元, 2002 年的生产总值为 $6272 \div (1+11.8\%) \div (1+11.1\%) \approx 5050$ 亿元, 2007 年不足 2002 年的 2 倍, 错误, 排除 B 项。C 项, $7000 \times 14.2\% = 994$ 亿元, 不足 1000 亿元, 错误, 排除。D 项, 平均增速为 12.76%, 观察柱状折线图可知 2006、2007 两年的增速均大于平均增速, 正确。所以答案为 D 项。